



An Roinn Oideachais
agus Scileanna

ARDTEISTIMÉIREACTH

SIOLLABAS
MATAMAITICE

BONNLEIBHÉAL, GNÁTHLEIBHÉAL, ARDLEIBHÉAL

Le haghaidh scrúdaithe in 2012 amháin

Nóta míniúcháin

Nuair a bheidh an t-athbhreithniú ar an siollabas críochnaithe, beidh cúig shnáithe staidéir i Matamaitic na hArdteistiméireachta: Staitisticí agus Dóchúlacht, Céimseata agus Triantánacht, Uimhreas, Ailgéabar agus Feidhmeanna.

Tá trí chuid sa siollabas, atá á thabhairt isteach i Meán Fómhair 2010 le haghaidh scrúdaithe i Meitheamh 2012.

- A. snáithe 1 (staitisticí agus dóchúlacht) agus snáithe 2 (céimseata agus triantánacht)
- B. an cúrsa céimseatan
- C. an t-ábhar eile atá coinnithe ó shiollabas Mhatamaitic na hArdteistiméireachta a bhí ann roimhe seo.



An Roinn Oideachais
agus Scileanna

ARDTEISTIMÉIREACTH

SIOLLABAS MATAMAITICE

BONNLEIBHÉAL, GNÁTHLEIBHÉAL, ARDLEIBHÉAL

Le haghaidh scrúdaithe in 2012 amháin

Cuid A	
Matamaitic	5
Réamhrá agus réasúnaíocht	6
Aidhm	6
Cuspóirí	6
Foghlaim a bhaineann le Matamaitic	7
Léargas ginearálta ar an siollabas	9
Struchtúr	10
Príomhscileanna	11
Teagasc agus foghlaim	12
Idirdhealú	13
Snáitheanna staidéir	15
Snáithe 1: Staitisticí agus Dóchúlacht	16
Snáithe 2: Céimseata agus Triantánacht	21
Measúnú	25
Aguisín: Foirmlí triantánachta	27
Cuid B: Cúrsa céimseatan	29
Cuid C: An t-ábhar atá coinnithe ón siollabas a bhí ann roimhe seo	77

MATAMAITIC NA hARDTEISTIMÉIREACHTA



Matamaitic na hArdteistiméireachta

Réamhrá agus réasúnaíocht

Is ábhar ilghnéitheach í an mhatamaitic. Tá a fhios ag an gcuid is mó de dhaoine gur disciplín inleachtach í an mhatamaitic a phléann le teibiú, argóintí loighciúla, déaduchtú agus ríomh. Ach, ina theannta sin, is bealach í an mhatamaitic ina gcuireann an intinn dhaoine in iúl an toil ghníomhach, an réasún rinnfheifeach agus an mhian le foirfeacht aeistéitiúil a bhaint amach. Baineann sí freisin le patrúin, ar féidir an mhatamaitic a ghabhann leo a úsáid chun gnáthrudáí a tharlaíonn agus suíomhanna nádúrtha a mhíniú agus a rialú. Níos mó ná riamh, níl rud ar bith níos tábhachtaí ó thaobh deiseanna a fháil sa saol ná an mhatamaitic. Ní teanga na heolaíochta amháin í an mhatamaitic níos mó; cuireann sí ar bhealaí díreacha agus bunúsacha le gnó, airgeadas, sláinte agus cosaint. Do scoláirí, is í an tslí isteach í go dtí gairmeacha. Do shaoránaigh, cuireann sé ar a gcumas cinntí a dhéanamh a bhfuil bonn ceart eolais fúthu. Do náisiúin, soláthraíonn sí faisnéis le go mbeidh siad in ann dul san iomaíocht i bpobal teicneolaíochta. Ní mór leas a bhaint as cumhacht na matamaitice le bheith in ann páirt iomlán a ghlacadh i ndomhan na todhchaí.

Tá ardmheas ar eolas agus ar scileanna na matamaitice agus feictear go bhfuil ról suntasach ag an eolas agus ag na scileanna sin i bhforbairt shochoaí an eolais agus chultúr na fiontraíochta agus na nuálaíochta a luaitear léi. Ba chóir go mbeadh oideachas matamaitice in oiriúint do chumais, do riachtanais agus d'ábhair suime na bhfoghlaimoirí agus ba chóir go léireodh sé cé chomh leathan is atá an t-ábhar agus a chumas le cur le forbairt na bhfoghlaimoirí. Is cuid den ghnáthshaol laethúil iad bunghnéithe na matamaitice, úsáid na huimhríochta agus cur i láthair faisnéise trí mheán graif. Baintear úsáid fhorleathan as an ardmhatamaitic freisin, ach is minic nach bhfeiceann daoine é sin agus nach ndéantar scéal mór de. Cuirtear i bhfeidhm an mhatamaitic a bhaineann le cóid ceartaithe earráidí chun seinnteoirí CDanna agus ríomhairí a dhéanamh. Gan an mhatamaitic, ní fhéadfadh na pictiúir iontacha de phlainéid agus de réaltnéalta i bhfad i gcéin a sheol Voyager II agus Hubble a bheith chomh beacht agus chomh maith sin. Déanta na fírinne, ní fhéadfaí aistear Voyager go dtí na plainéid a ríomh gan matamaitic na gcothromóidí difreálacha. San éiceolaíocht, baintear úsáid

as an matamaitic agus staidéar á dhéanamh ar na dlíthe a bhaineann le hathrú daonra. Maidir le staitisticí, ní hamháin go soláthraíonn siad an teoiric agus an mhodheolaíocht le haghaidh anailíse ar éagsúlachtaí móra sonraí ach tá siad bunriachtanach i gcúrsaí leighis le haghaidh anailíse ar na cúiseanna a bhaineann le tinnis agus ar fhóntas drugaí nua. Ní bheadh eitleáin san aer gan an mhatamaitic a bhaineann le sruth aer agus le córais rialála. Is ó mhatamaitic chaolchúiseach ar thángthas uirthi sa 19ú haois a thagann scanóirí colainne, rud a chuireann ar chumas daoine íomhá a dhéanamh den taobh istigh de rud ó fhaisnéis ar roinnt radharcanna X-gha aonair de. Mar sin is minic a bhíonn baint ag an matamaitic le cúrsaí a bhfuil beatha daoine ag brath orthu.

Aidhm

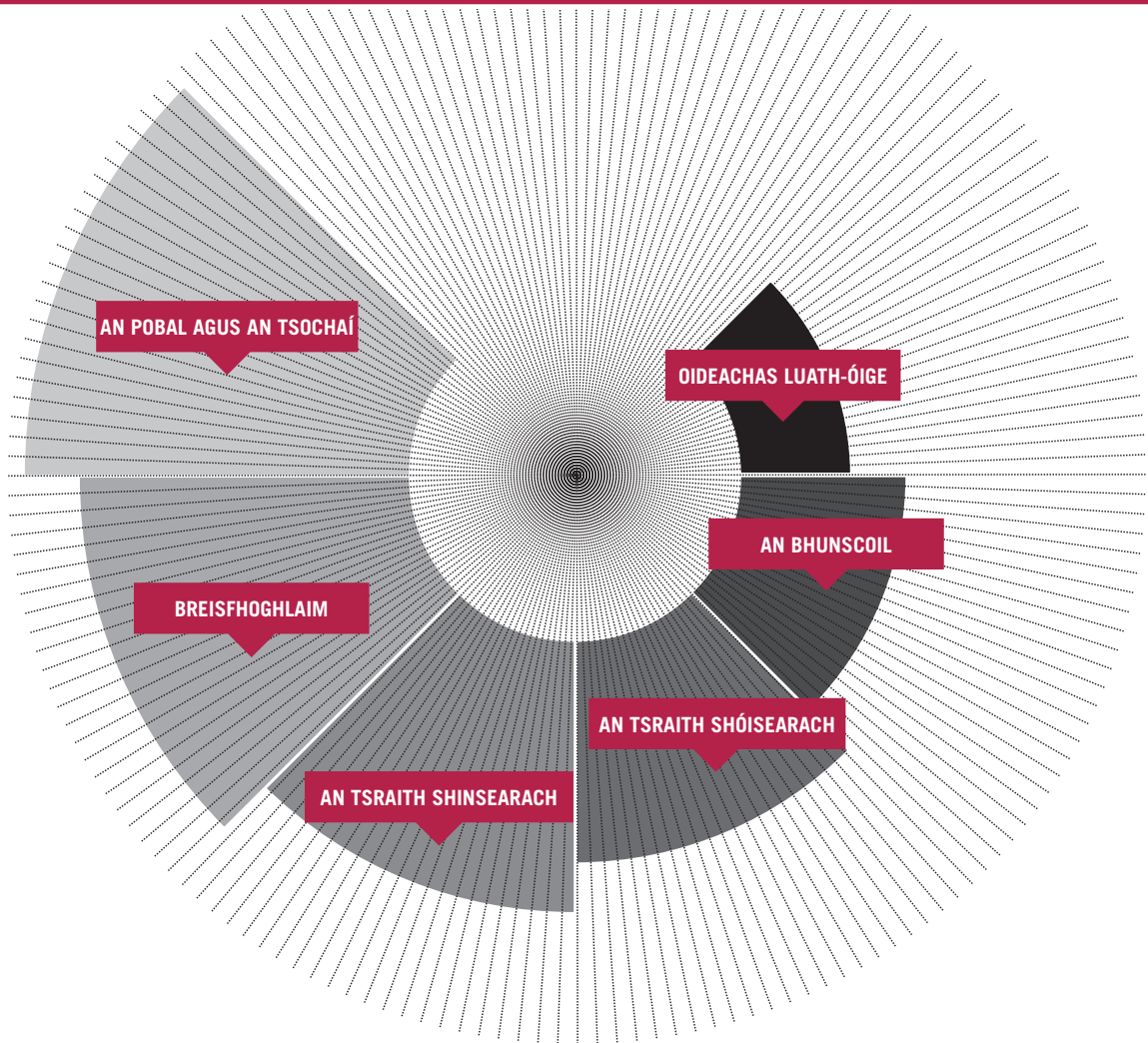
Féachann Matamaitic na hArdteistiméireachta le forbairt a dhéanamh ar an eolas, ar na scileanna agus ar an tuiscint mhatamaitice a theastaíonn ón scoláire dá shaol ina dhiaidh sin, bíodh sé/sí ag leanúint den oideachas nó ag dul ag obair. Tríd an matamaitic a mhúineadh i gcomhthéacsanna a chuireann ar chumas foghlaimoirí ceangail a aithint taobh istigh den mhatamaitic, idir an mhatamaitic agus ábhair eile, agus idir an mhatamaitic agus a cuid feidhmeanna sa saol, tá sé i gceist go bhforbróidh foghlaimoirí slí sholúbtha dhea-eagraithe smaointeoireachta agus an fonn le réitigh chruthaitheacha a chuardach.

Cuspóirí

Is iad cuspóirí Mhatamaitic na hArdteistiméireachta go bhforbróidh foghlaimoirí

- an cumas le fíricí ábhartha matamaiticiúla a thabhairt chun cuimhne
- tuiscint spriocdhírithé (“fios cén chaoi”) agus scileanna riachtanacha sícealuaile (scileanna a bhaineann le comhordú fisiciúil)
- tuiscint a bhaineann le gaolta (“fios cén fáth”)
- an cumas lena gcuid eolais agus scileanna matamaiticiúla a chur i bhfeidhm chun fadhbanna a

Foghlaim a bhaineann leis an matamaitic



réiteach i gcomhthéacsanna a bhfuil taithí acu orthu agus i gcomhthéacsanna nach bhfuil taithí acu orthu

- cumhachtaí anailíseacha agus cruthaitheacha sa mhatamaitic
- meas ar an matamaitic agus ar an gcaoi a n-úsáidtear í
- dearcadh dearfach i leith na matamaitice.

Tá na naisc idir an mhatamaitic a fhoghlaimítear ag céimeanna éagsúla tábhachtach ó thaobh fhorbairt ghinearálta na tuisceana matamaiticiúla de. Agus iad ag déanamh staidéir ar Mhatamaitic na hArdteistiméireachta, spreagtar na foghlaimeoirí le húsáid a bhaint as na scileanna uimhearthachta agus as na scileanna le fadhbanna a réiteach a forbraíodh san oideachas luath-óige, i matamaitic na bunscoile agus i matamaitic na sraithe sóisearaí. Leagtar an bhéim ar thuiscint mhatamaiticiúil a thógáil ina bhfuil na codanna éagsúla ceangailte le chéile agus leanúnachas eatarthu. De réir mar a théann foghlaimeoirí ó chéim go céim ina gcuid oideachais, forbraítear scileanna, coincheapa agus eolas matamaiticiúil nuair a oibríonn siad i gcomhthéacsanna

níos dúshlánaí agus nuair a fhorbraíonn siad cineálacha níos sofaisticiúla cur chuige i leith réiteach fadhbanna. Ar an gcaoi sin is foghlaim charnach í foghlaim na matamaitice; bíonn an obair ag gach leibhéal ag leanúint ar aghaidh ón bhfoghlaim a rinne scoláirí ag an leibhéal roimhe sin agus á doimhniú.

Ní scartha ó gach ábhar eile a fhoghlaimítear an mhatamaitic; tá ceangail shuntasacha aici le hábhair eile atá ar an gcuraclam. Tá a lán ábhair eolaíochta cainníochtúil agus bítear ag súil leis go mbeidh foghlaimeoirí in ann oibriú le sonraí, graif a dhéanamh agus patrúin agus treochtaí a léirmhíniú. Úsáideann Grafaic an Deartha agus na Cumarsáide Líníochtaí chun anailís a dhéanamh ar fhadhbanna déthoiseacha agus tríthoiseacha, agus chun na fadhbanna sin a réiteach, de thoradh prionsabail na céimseatan a chur i bhfeidhm go docht daingean. Sa Tíreolaíocht úsáideann foghlaimeoirí cóimheas chun scála a chinneadh, agus úsáideann foghlaimeoirí cláir ama, cloig agus comhshó airgeadra gach lá chun an saol a dhéanamh níos éasca. Teastaíonn buneolas ar chúrsaí airgeadais ó thomhaltóirí agus, in Eacnamaíocht Bhaile, úsáideann foghlaimeoirí an

mhatamaitic agus iad ag buiséadú agus ag déanamh breithiúnas a thugann luach maith ar airgead. Úsáideann foghlaimeoir an mhatamaitic san Eacnamaíocht chun cur síos a dhéanamh ar iompraíocht an duine. Sa Staidéar Gnó feiceann foghlaimeoirí an chaoi ar féidir le heagraíochtaí gnó úsáid a bhaint as an matamaitic sa chuntasaíocht, sa mhargaíocht, sa bhainistíocht fardail, sa réamhaisnéis díolacháin agus san anailís airgeadais.

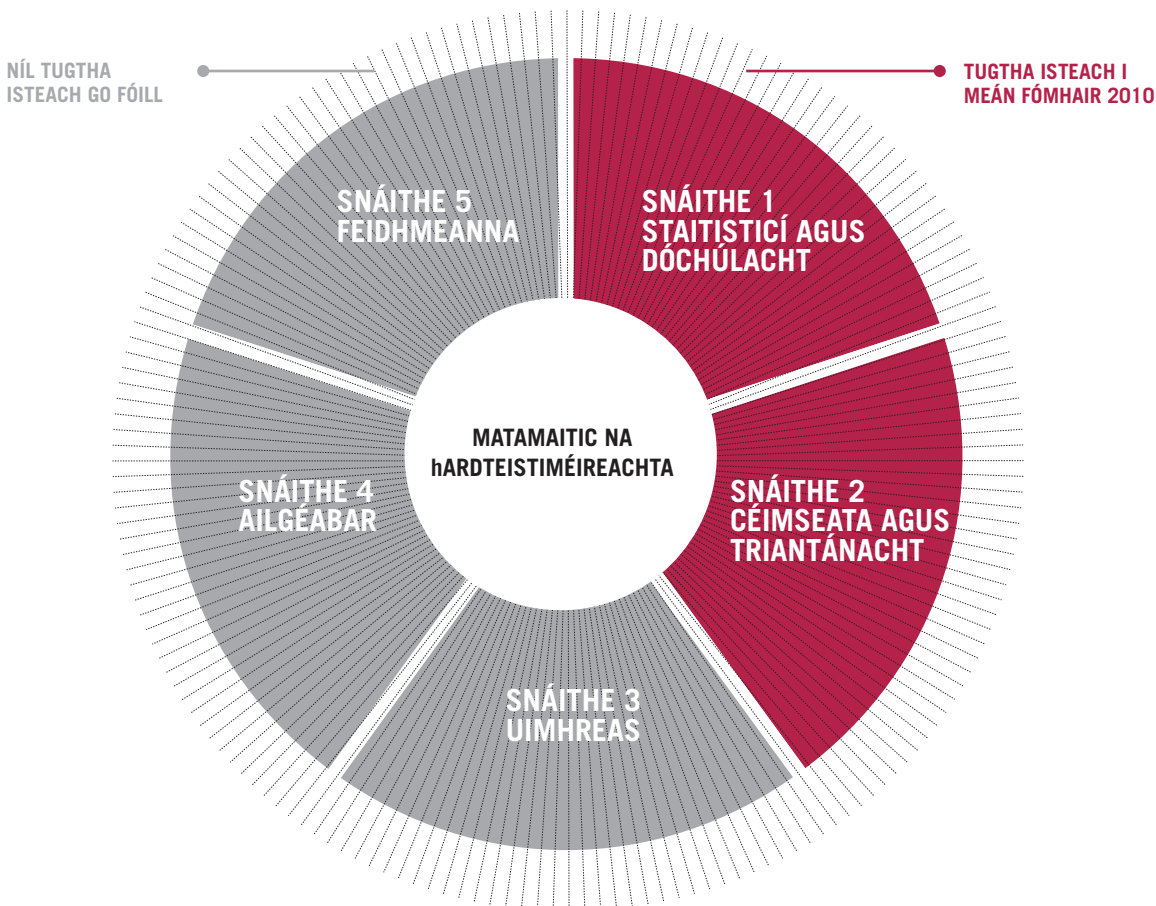
Tá gaol ag an Matamaitic, an Ceol agus an Ealaín lena chéile a théann i bhfad siar. Chomh luath leis an gcúigiú haois R.Ch., tháinig Píotagarás ar ghaolta matamaiticiúla sa cheol; is iomaí saothar ealaíne a bhfuil an-structúr matamaiticiúil air. Tá matamaitic nua-aimseartha chéimseata na bhfrachtal fós ag cur eolais ar fáil do chumadóirí agus d'ealaíontóirí. Géaraíonn an mhatamaitic scileanna na smaointeoireachta criticiúla. Ina theannta sin, cuireann sí ar chumas foghlaimeoirí measúnú criticiúil a dhéanamh ar eolas agus ar fhaisnéis agus, ar an gcaoi sin, cuireann sí lena bhforbairt mar thomhaltóirí atá ar an eolas ó thaobh staitisticí de.

LÉARGAS GINEARÁLTA AR AN SIOLLABAS



Léargas ginearálta ar an siollabas

Matamaitic na hArdteistiméireachta



Struchtúr

Ina iomláine, beidh cúig shnáithe i siollabas Mhatamaitic na hArdteistiméireachta:

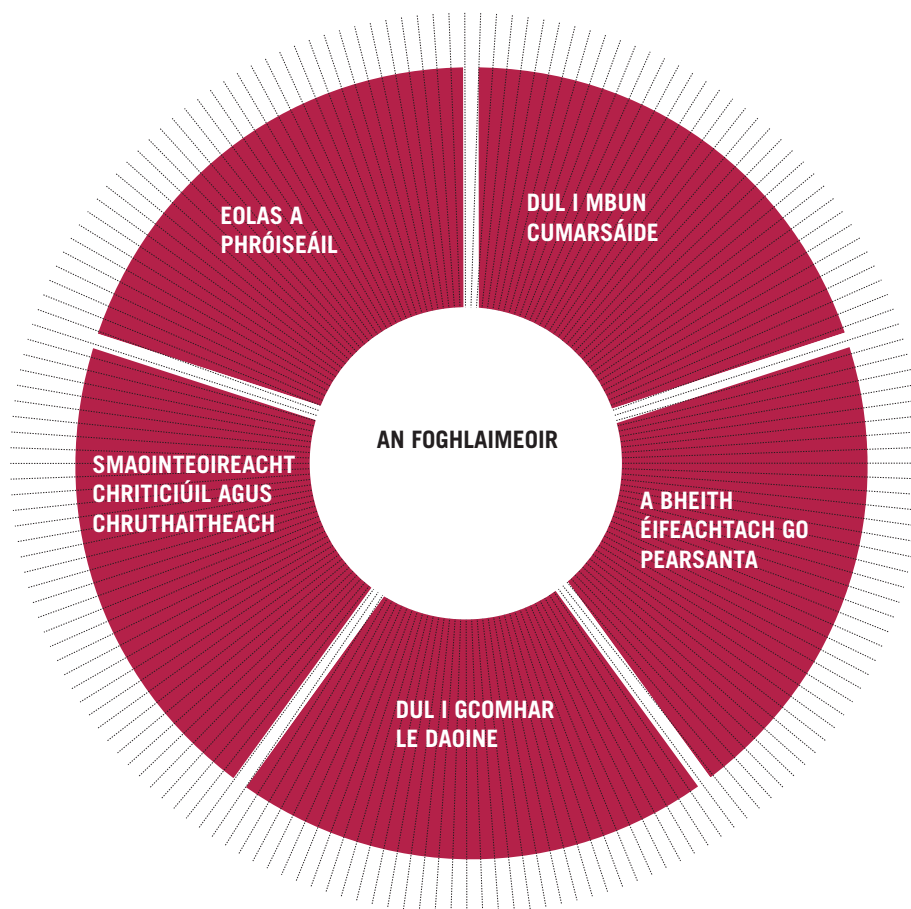
1. Staitisticí agus dóchúlacht
2. Céimseata agus triantánacht
3. Uimhreas
4. Ailgéabar
5. Feidhmeanna

Tá na torthaí foghlama atá sonraithe do shnáitheanna 1 agus 2 liostaithe. Cuirtear na topaicí atá le déanamh sa snáithe i láthair i bhfoirm táblaí, le hábhar ó Bhonnleibhéal go hArdleibhéal. Tá an t-ábhar ar fad ar an siollabas Bonnleibhéal san áireamh ar an siollabas Gnáthleibhéal chomh maith agus, ar an gcaoi chéanna, tá an t-ábhar ar fad ar an siollabas Gnáthleibhéal san áireamh ar an siollabas Ardleibhéal chomh maith.

Leithdháileadh ama

Tá siollabas Mhatamaitic na hArdteistiméireachta deartha mar chúrsa staidéir 180 uair an chloig.

Príomhscileanna



Tá cúig phríomhscil aitheanta mar scileanna lárnaigh ó thaobh teagaisc agus foghlama de ar fud an churaclaim sa tsraith shinsearach. Is iad sin *eolas a phróiseáil*, *a bheith éifeachtach go pearsanta*, *dul i mbun cumarsáide*, *dul i gcomhar le daoine* agus *smaointeoireacht chriticiúil agus chruthaitheach*. Tá na príomhscileanna sin tábhachtach do gach foghlaimoir chun a gcumas iomlán a chomhlíonadh – i gcaitheamh a dtréimhse ar scoil agus sa todhchaí – agus páirt iomlán a ghlacadh sa tsochaí, lena n-áirítear saol an teaghlach, saol na hoibre agus foghlaim ar feadh an tsaoil. Agus iad ag plé le príomhscileanna, feabhsaíonn foghlaimoirí a gcumas foghlama, leathnaíonn siad raon a bhfoghlama agus cuireann siad lena n-acmhainneacht le haghaidh foghlama.

Forbraíonn Matamaitic na hArdteistiméireachta príomhscileanna ar na bealaí seo.

Eolas a phróiseáil

Le go mbeidh an scoláire in ann an mhatamaitic a fhoghlaim go maith, caithfidh sé/sí a bheith in ann an fhaisnéis a shainmhíniú na tascanna matamaiticiúla a phróiseáil go héifeachtúil. Is féidir teacht ar fhaisnéis go réidh ó éagsúlacht foinsí agus baineann próiseáil faisnéise leis na slite a mbaineann foghlaimoirí ciall as an bhfaisnéis a chuirtear ar fáil dóibh, nó na slite a léirmhíniú siad an fhaisnéis.

Smaointeoireacht chriticiúil agus chruthaitheach

Tá béim láidir ar imscrúdú sa mhatamaitic agus, le dul i mbun imscrúdaithe, ní mór d'fhoghlaimoirí faisnéis a mheasúnú go chriticiúil agus smaoineamh go chruthaitheach ina taobh. Spreagtar foghlaimoirí le fadhbanna a réiteach ar bhealaí éagsúla agus éilítear orthu modhanna agus argóintí a mheasúnú agus a gcuid éileamh agus torthaí a fhírinniú.

Dul i mbun cumarsáide

Sa mhatamaitic spreagtar foghlaimoirí le cineálacha cur chuige agus réitigh d'fhadhbanna a phlé agus bítear ag súil leis go n-éistfidh siad le dearcaí eile agus go ndéanfaidh siad a machnamh ar na dearcaí eile sin. Ós rud é go leagann an mhatamaitic béim ar imscrúdú, is gné thábhachtach de sin na torthaí a chur in iúl do dhreamanna éagsúla ar bhealaí éagsúla.

Dul i gcomhar le daoine

Sa mhatamaitic spreagtar foghlaimoirí le bheith ag obair le chéile ina ngrúpaí chun teacht ar smaointe, fadhbanna a réiteach agus modhanna a mheasúnú.

A bheith éifeachtach go pearsanta

Cuireann staidéar na matamaitice ar chumas foghlaimeoirí eolas agus scileanna a shealbhú a rachaidh chun a leasa go díreach i ngnéithe eile dá saol laethúil. Glacann siad páirt i dtimpeallacht foghlama ina gcuirtear fáilte roimh smaointe nua agus téann siad i muinín ó thaobh a gcuid smaointe matamaiticiúla a chur in iúl agus a machnamh a dhéanamh ar smaointe daoine eile.

Cé go leagann siollabas Mhatamaitic na hArdteistiméireachta béim ar leith ar fhorbairt agus ar úsáid próiseáil faisnéise, smaointeoireachta loighciúla agus scileanna chun fadhbanna a réiteach, tugann an cur chuige i leith teagaisc agus foghlama tús áite d'fhoghlaimeoirí a bheith in ann forbairt a dhéanamh ar a gcuid scileanna ó thaobh cumarsáid a dhéanamh le daoine eile agus a bheith ag obair leo. De thoradh na héagsúlachta sa chur chuige agus sna straitéisí a ghlacann siad chucu féin i leith fadhbanna a réiteach sa mhatamaitic, forbraíonn foghlaimeoirí a bhféinmhuinín agus a n-éifeachtacht phearsanta. Daingnítear na príomhscileanna taobh istigh de na torthaí foghlama agus déantar measúnú orthu i gcomhthéacs na dtorthaí foghlama.

I Matamaitic na hArdteistiméireachta foghlaimíonn scoláirí nósanna imeachta agus sealbhaíonn siad modhanna iontaoifa chun cleachtaí le peann agus páipéar a réiteach, ach tá níos mó ná sin i gceist – foghlaimíonn siad an mhatamaitic sa chaoi is go dtuigfidh siad i gceart í. Go háirithe, ba chóir go mbeidís in ann a mhíniú cén fáth a bhfuil na nósanna imeachta a chuireann siad i bhfeidhm cuí ó thaobh na matamaitice de agus ba chóir go mbeidís in ann a mhíniú cén fáth a bhfuil áiríonna áirithe ag coincheapa matamaiticiúla áirithe.

Teagasc agus foghlaim

De réir chuspóirí agus torthaí foghlama an tsiollabais, ba chóir go gcuirfeadh eispéiris na bhfoghlaimeoirí agus iad ag déanamh staidéir ar an matamaitic le forbairt a gcuid scileanna le fadhbanna a réiteach, de thoradh iad a bheith ag cur a gcuid eolais mhatamaiticiúil agus a gcuid scileanna matamaiticiúla i bhfeidhm i gcomhthéacsanna agus i suíomhanna cuí. I ngach snáithe, ag gach leibhéal, leagtar béim ar chomhthéacsanna cuí agus ar fheidhmeanna na matamaitice ionas go bhfeicfidh na foghlaimeoirí an bhaint atá ag an matamaitic lena saol, idir a saol ar scoil agus a saol sa todhchaí. Ba chóir a bheith ag díriú ar thuiscint na bhfoghlaimeoirí ar na coincheapa, ar a bheith ag dul ón rud nithiúil go dtí an rud teibí agus ar a bheith ag dul ón rud neamhfhoirmiúil go dtí an rud foirmiúil.

Cuirfidh na foghlaimeoirí lena gcuid eolais ar an matamaitic a tháinig i dtosach óna gcóradh ar an matamaitic sa bhunscoil agus trína leanúint den chóradh sin sa tsraith shóisearach. Leagtar béim ar leith ar mhuinín na bhfoghlaimeoirí astu féin a chur chun cinn (muinín gur féidir leo matamaitic a dhéanamh) agus as an ábhar (muinín go bhfuil ciall leis an matamaitic). Baintear úsáid as comhthéacsanna a bhaineann le taithí na bhfoghlaimeoirí chun deiseanna a thabhairt dóibh dul chun cinn a dhéanamh.

Meascfaidh na foghlaimeoirí a gcuid eolais agus tuisceana ar an matamaitic le feidhmeanna eacnamaíochta agus sóisialta na matamaitice. Trí bheith ina dtomhaltóirí atá ar an eolas ó thaobh staitisticí de, is féidir le foghlaimeoirí measúnú criticiúil a dhéanamh ar éilimh eolais agus foghlaim le sonraí a cheistiú agus a léirmhíniú – scil atá tábhachtach ina lán réimsí eile chomh maith leis an matamaitic, áit ar bith a n-úsáidtear sonraí mar fhianaise le tacú le hargóint.

Na gníomhaíochtaí éagsúla ina nglacann foghlaimeoirí páirt, cuireann siad ar a gcumas a bheith i gceannas ar a gcuid foghlama féin trí spriocanna a leagan síos, pleananna gníomhaíochta a fhorbairt agus aiseolas ó mheasúnú a fháil agus freagairt dó. I dteannta straitéisí teagaisc ilchineálacha, cuirfidh straitéisí measúnaithe ilchineálacha eolas ar fáil ar féidir le múinteoirí úsáid a bhaint as ionas go mbeidh siad in ann gníomhaíochtaí teagaisc agus foghlama a leasú ar na slite is fearr a oireann d'fhoghlaimeoirí aonair. Ina theannta sin, is féidir le múinteoirí úsáid a bhaint as torthaí na measúnachtaí chun a machnamh a dhéanamh ar a gcleachtais teagaisc ionas go mbeidh siad in ann sraitheanna agus gníomhaíochtaí teagaisc a leasú de réir mar is gá. Tá aiseolas faoin gcaoi ar chruthaigh siad rithábhachtach do na foghlaimeoirí agus cuireann sé ar a gcumas forbairt a dhéanamh mar fhoghlaimeoirí. Cabhraíonn an measúnú múnlaiteach seo, nuair a bhíonn sé in oiriúint do na torthaí foghlama inmhianta, le comhsheasmhacht a chinntiú idir aidhm agus cuspóirí an tsiollabais agus a mheasúnú. Is féidir úsáid a bhaint as raon leathan de mhodhanna measúnaithe, lena n-áirítear imscrúduithe, trialacha ranga, tuairiscí ar imscrúdú, míniú ó bhéal, srl.

Ní mór aire ar leith a thabhairt d'fhoghlaimeoirí a bhféadfadh sé a bheith ag dul dian orthu fós cuid d'ábhar na sraithe sóisearaí a láimhseáil. Mar sin féin, caithfidh siad foghlaim le dul i ngleic leis an matamaitic sa ghnáthshaol agus, b'fhéidir, mar chuid de thuilleadh staidéir sa todhchaí. Caithfidh Matamaitic na hArdteistiméireachta, mar sin, cabhrú le foghlaimeoirí chun eolas níos soiléire agus scileanna feabhsaithe a fhorbairt sa bhunmhatamaitic, chomh maith le tuiscint ar a úsáidí is atá sí. Ina theannta

sin, ba chóir ábhar nua cuí a chur os a gcomhair ionas go mbraithfidh na foghlaimeoirí go bhfuil siad ag déanamh dul chun cinn. Ag leibhéal na hArdteistiméireachta, ba chóir go ndéanfadh an cúrsa a leantar an-chúram don bhunsraith a leagadh síos sa tsraith shóisearach a dhaingniú agus d'aghaidh a thabhairt ar shaincheisteanna praiticiúla; ach ba chóir go gclúdódh sé topaicí nua freisin agus bunsraith a leagan síos le go mbeidh na foghlaimeoirí in ann dul ar aghaidh go dtí staidéar níos traidisiúnta na matamaitice i réimsí an ailgéabair, na céimseatan agus na bhfeidhmeanna.

Idirdhealú

I snáitheanna 1 agus 2 tá na torthaí foghlama leagtha amach sna catagóirí seo – Bonnleibhéal, Gnáthleibhéal agus Ardleibhéal – agus is fothacar é gach leibhéal den chéad leibhéal eile. Mar sin, i gcás foghlaimeoirí atá ag staidéar ag Ardleibhéal, táthar ag súil go mbainfidh siad na torthaí foghlama Bonnleibhéil, Gnáthleibhéil agus Ardleibhéil amach. I gcás foghlaimeoirí atá ag staidéar ag Gnáthleibhéal, táthar ag súil go mbainfidh siad na torthaí foghlama Bonnleibhéil amach chomh maith leo siúd ag Gnáthleibhéal.

Tá an mhatamaitic ag Ardleibhéal dírithe ar riachtanais foghlaimeoirí a d'fhéadfadh leanúint dá gcuid staidéir ar an matamaitic go dtí an tríú leibhéal. Ní bheidh gach foghlaimeoir, áfach, ina speisialtóir amach anseo ná fiú ag úsáid na matamaitice acadúla amach anseo. Rud eile de, nuair a thosaíonn siad ag déanamh staidéir ar an ábhar, bíonn cuid acu ag plé le coincheapa teibí den chéad uair.

I bhfianaise a éagsúla agus atá an cumas i measc na scoláirí, ní mór béim ar leith a leagan ar an luas. Ní mór soláthar a dhéanamh ní hamháin do scoláire acadúil na todhchaí ach, freisin, don saoránach i sochaí ina gcuirtear an mhatamaitic i bhfeidhm sa ghnáthshaol. Dírionn an siollabas dá bhrí sin ar ábhar atá taobh thiar de léann acadúil na matamaitice, lena chinntiú go mbíonn deis ag foghlaimeoirí a gcumas agus a gcuid ábhar suime matamaiticiúla a fhorbairt go hardleibhéal; ach clúdaíonn sé freisin na topaicí níos praiticiúla, a bhfuil a bhfeidhm níos éasca le haithint, a mbíonn taithí ag foghlaimeoirí orthu taobh amuigh den scoil.

D'Ardleibhéal, is féidir béim ar leith a leagan ar fhorbairt an chumais le teibí agus ginearálú a dhéanamh agus ar choincheap an cruthúnais dhéin. Is ar an gcaoi sin a thugtar blaiseadh do na foghlaimeoirí de na mórchoincheapa matamaiticiúla atá linn leis na céadta bliain agus a bhaineann leis an iliomad cultúr. Is féidir aghaidh a thabhairt ar réiteach fadhbanna i gcomhthéacsanna idir mhatamaiticiúil agus fheidhmeach.

Tá an mhatamaitic ag Gnáthleibhéal dírithe ar riachtanais foghlaimeoirí nach bhfuil ach ag tosú ar a bheith ag plé le smaointe teibí. Ach, i gcás a lán acu, úsáidfidh siad agus cuirfidh siad i bhfeidhm an mhatamaitic ina ngairm amach anseo, agus beidh teagmháil acu ar fad leis an ábhar, a bheag nó a mhór, ina ngnáthshaol. Mar sin caithfidh an Mhatamaitic Gnáthleibhéil, ar an gcéad dul síos, matamaitic a thairiscint a bhfuil baint aici le saol na bhfoghlaimeoirí agus a bheidh siad in ann a thuiscint ag an gcéim forbartha ag a bhfuil siad. Ina theannta sin, ba chóir go dtabharfaí isteach smaointe níos teibí de réir a chéile, ag tabhairt na bhfoghlaimeoirí i dtreo úsáid na matamaitice acadúla i gcomhthéacs tuilleadh staidéir.

Leagann an Mhatamaitic ag Bonnleibhéal béim ar leith ar fhorbairt na matamaitice mar chorpas eolais agus scileanna a bhfuil ciall leis agus is féidir a úsáid ar a lán bealaí éagsúla mar chóras éifeachtúil chun fadhbanna a réiteach agus teacht ar fhreagraí. Ina theannta sin, ní mór dóthain airde a thabhairt ar shealbhú agus ar dhaingniú bunscoilanna, mar go gcuirfí isteach ar fhorbairt agus ar dhul chun cinn na bhfoghlaimeoirí dá n-uireasa. Tá sé i gceist go dtabharfaidh an Bonnleibhéal an t-eolas agus na scileanna d'fhoghlaimeoirí a theastaíonn sa ghnáthshaol, agus tá sé i gceist freisin dúshraith a leagan síos d'fhoghlaimeoir a d'fhéadfadh leanúint ar aghaidh go dtí tuilleadh staidéir i réimsí nach dteastaíonn an mhatamaitic speisialtóra lena n-aghaidh.

Foghlaimeoirí a dhéanann an mhatamaitic Bhonnleibhéil, d'fhéadfadh gur beag taithí a bheadh acu ar an matamaitic theibí. Mar sin ba chóir go mbeadh ról lárnach ag cioradh agus ag machnamh ina gcuid staidéir ar an matamaitic don Ardteistiméireacht. Ba chóir cur chuige forbartha agus tógachaíoch a ghlacadh a ullmhóidh iad le dul ar aghaidh diaidh ar ndiaidh go dtí coincheapa teibí. Ba chóir am a chaitheamh le hábhair suime éagsúla agus le bealaí foghlama éagsúla, mar shampla is féidir aird a thabhairt ar ghnéithe amhairc agus spásúlachta chomh maith le gnéithe uimhriúla.

Beidh idirdhealú idir na leibhéil i gceist freisin sa chaoi a ndéanfar measúnú ar shnáitheanna 1 agus 2 ag Bonnleibhéal, Gnáthleibhéal agus Ardleibhéal. Is fothacar é gach leibhéal den chéad leibhéal eile; beidh an t-idirdhealú sa mheasúnú le sonrú i ndoimhneacht na gceisteanna. Ach, ina theannta sin, bainfear amach é tríd an leibhéal teanga sna ceisteanna scrúdaithe agus tríd an méid tacaíochta struchtúrtha a chuirfear ar fáil d'iarrthóirí scrúdaithe ag na leibhéil éagsúla, go háirithe ag Bonnleibhéal. Tá faisnéis faoi na critéir mheasúnaithe ghinearálta a bhaineann le scrúdú shnáitheanna 1 agus 2 leagtha amach sa chuid a bhaineann le measúnú (leathanach 25).

SNÁITHEANNA STADÉIR



Snáithe 1: Staitisticí agus Dóchúlacht

Tá dhá aidhm le haonad na dóchúlachta: soláthraíonn sé tuiscintí áirithe ar dlúthchuid iad de réiteach fadhbanna agus cuireann sé buntaca faoi aonad na staitisticí. Táthar ag súil leis go ndéanfaidh na scoláirí turgnaimh (lena n-áirítear ionsamhluithe), ina n-aonar agus ina ngrúpaí, agus gurb é sin an príomhbhealach ar a bhforbrófar eolas, tuiscint agus scileanna i dtaca le dóchúlacht. Ba chóir tagairtí a dhéanamh do na comhthéacsanna agus do na feidhmeanna cuí sa dóchúlacht.

Tá sé i gceist go gcaithfidh scoláirí an cúrsa staitisticí ar fad ag sonrú fadhbanna is féidir a chíoradh ach na sonraí cuí a úsáid, ag dearadh imscrúduithe, ag bailiú sonraí, ag cíoradh agus ag úsáid patrún agus gaolta i sonraí, ag réiteach fadhbanna, agus ag cur torthaí in iúl. Baineann an snáithe seo freisin le heolas staitistiúil a léirmhíniú, argóintí atá bunaithe ar shonraí a mheas, agus dul i ngleic le héiginnteacht agus le hathrú.

Snáithe 1: Staitisticí agus Dóchúlacht

Foghlaimíonn na scoláirí	Ba chóir go mbeadh scoláirí BL in ann	Ina theannta sin, ba chóir go mbeadh scoláirí GL in ann	Ina theannta sin, ba chóir go mbeadh scoláirí AL in ann
1.1 Comhaireamh	<ul style="list-style-type: none"> – na torthaí ar thurgnamh a liostú – bunphrionsabal an chomhairimh a chur i bhfeidhm 	<ul style="list-style-type: none"> – líon na n-eagar de n ní éagsúla ($n!$) a chomhaireamh – líon na slite ar féidir r ní a roghnú as n ní éagsúla a chomhaireamh 	<ul style="list-style-type: none"> – líon na slite ar féidir r ní a eagrú as n ní éagsúla a chomhaireamh
1.2 Coincheapa na dóchúlachta	<ul style="list-style-type: none"> – cinneadh a dhéanamh an dócha go dtarlóidh gnáth-theagmhas nó nach dócha – a fhios a bheith acu gur tomhas í dóchúlacht ar scála 0 - 1 maidir leis an seans go dtarlóidh teagmhas – úsáid a bhaint as teoiric na dtacar ón TS chun turgnaimh, torthaí agus spásanna samplacha a phlé – úsáid a bhaint as teanga na dóchúlachta chun teagmhais a phlé, lena n-áirítear iad siúd a bhfuil an seans céanna ann go dtarlóidh ceachtar acu – dóchúlachtaí a mheas ó shonraí turgnaimh – a aithint go mbeidh torthaí difriúla ann má athdhéantar turgnamh agus go bhfaightear meastacháin níos fearr ar an dóchúlacht ach líon na n-uaireanta a athdhéantar turgnamh a mhéadú – ceangal a dhéanamh idir dóchúlacht teagmhais agus a mhinicíocht fhadtréimhseach choibhneasta 	<ul style="list-style-type: none"> – bunrialacha na dóchúlachta (AGUS/NÓ, comheisiatach) a phlé trí úsáid Léaráidí Venn – an luach ionchais a ríomh, agus a thuiscint nach gá go mbeadh sé sin ar cheann de na torthaí – ról an luacha ionchais ó thaobh cinnteoireachta de a thabhairt faoi deara agus cíoradh a dhéanamh ar cheist na gcluichí córa 	<ul style="list-style-type: none"> – a dtuiscint ar bhunrialacha na dóchúlachta (AGUS/NÓ, comheisiatach) a leathnú trí úsáid foirmlí <ul style="list-style-type: none"> • Riail an tSuimiúcháin: $P(A \cup B) = P(A) + P(B) - P(A \cap B)$ • Riail an Iolraithe (Teagmhais Neamhspleácha) $P(A \cap B) = P(A) \times P(B)$ • Riail an Iolraithe (Cás Ginearálta) $P(A \cap B) = P(A) \times P(B A)$ – fadhbanna a bhaineann le dóchúlacht choinníollach a réiteach ar shlí chórasach – a thuiscint nach mbíonn $P(A B) = P(B A)$ i gcoitinne – scrúdú a dhéanamh ar na himpleachtaí a bhaineann le $P(A B) \neq P(B A)$ i gcomhthéacs
1.3 Torthaí ar phróisis randamacha	<ul style="list-style-type: none"> – spásanna samplacha a thógáil chun gach fothoradh féideartha a thaispeáint do dhá theagmhas neamhspleácha 	<ul style="list-style-type: none"> – an dóchúlacht a fháil, i gcás dhá theagmhas neamhspleácha, go dtarlóidh siad araon – tuiscint ar thrialacha Bernoulli* a chur i bhfeidhm 	<ul style="list-style-type: none"> – fadhbanna a réiteach lena mbaineann an dóchúlacht a ríomh go mbeidh k toradh fhabhracha ar n triail Bernoulli (ní theastaíonn neastachán normalach)

* Is éard is triail Bernoulli ann ná turgnamh a bhfuil a thoradh randamach agus a bhfuil dhá fhéidearthacht ann ó thaobh an toraidh sin de: “toradh fabhrach” nó “toradh neamhfhabhrach”.

Foghlaimíonn na scoláirí	Ba chóir go mbeadh scoláirí BL in ann	Ina theannta sin, ba chóir go mbeadh scoláirí GL in ann	Ina theannta sin, ba chóir go mbeadh scoláirí AL in ann
1.3 Torthaí ar phróisis randamacha (ar leanúint)	<ul style="list-style-type: none"> – an prionsabal seo a chur i bhfeidhm: i gcás fothorthaí a bhfuil an seans céanna ann go dtarlóidh aon cheann acu, is é an dóchúlacht ná líon na bhfothorthaí ábhartha roinnte ar líon iomlán na bhfothorthaí (samplaí ina mbaintear úsáid as boinn, díslí, spinéirí, prócaí ina bhfuil rudaí ar dhathanna éagsúla, cártaí imeartha srl) 	<ul style="list-style-type: none"> – an dóchúlacht a fháil, i gcás dhá theagmhas neamhspleácha, go dtarlóidh siad araon – tuiscint ar thrialacha Bernoulli a chur i bhfeidhm – fadhbanna a réiteach lena mbaineann suas le 3 thriail Bernoulli – an dóchúlacht a ríomh go dtarlaíonn an chéad toradh fabhrach ar an $n^ú$ triail Bernoulli nuair a shonraítear n 	<ul style="list-style-type: none"> – an dóchúlacht a ríomh go dtarlaíonn an $k^ú$ toradh fabhrach ar an $n^ú$ triail Bernoulli – úsáid a bhaint as ionsamhluithe chun cíoradh a dhéanamh ar inathraitheacht staitisticí ó dhaonra atá ar eolas agus chun dáille samplála a thógáil – fadhbanna a réiteach lena mbaineann dóchúlachtaí a léamh ó tháblaí na ndáiltí normalacha
1.4 Réasúnú staitistiúil, leis an aidhm gur tomhaltóir a bhfuil eolas aige/aici ar staitisticí a bheidh sa mhac leinn	<ul style="list-style-type: none"> – páirt a ghlacadh i bplé ar chuspóir na staitisticí agus míthuiscintí agus mí-úsáid i dtaca le staitisticí a thabhairt faoi deara – daonraí agus samplaí a phlé – cinneadh a dhéanamh i dtaobh a mhéid is féidir tátail a ghinearálú – oibriú le cineálacha éagsúla sonraí (catagóireach / uimhriúil / orduimhriúil, scoite / leanúnach) d'fhonn an fhadhb atá idir lámha a shoiléiriú 	<ul style="list-style-type: none"> – oibriú le cineálacha éagsúla sonraí dé-athráideacha 	
1.5 Sonraí a fháil, a bhailiú agus a eagrú	<ul style="list-style-type: none"> – an fhadhb idir lámha a shoiléiriú – ceist (nó níos mó ná ceist amháin) a fhoirmliú ar féidir í a fhreagairt le sonraí – slite éagsúla le sonraí a bhailiú a chíoradh – sonraí a ghiniúint, nó teacht ar shonraí ó fhoinsí eile, lena n-áirítear an t-idirlíon – sampla a roghnú (Sampla Randamach Simplí) – a thabhairt faoi deara go bhfuil sé tábhachtach go mbeadh na samplaí ionadaíoch i gceart chun claonadh a sheachaint – plan a dhearadh agus sonraí a bhailiú ar bhonn an eolais thuas 	<ul style="list-style-type: none"> – cineálacha éagsúla staidéir a phlé: suirbhéanna samplacha, staidéir bhreathnaitheacha agus turgnaimh dheartha – plan a dhearadh agus sonraí a bhailiú ar bhonn an eolais thuas 	<ul style="list-style-type: none"> – an tábhacht a bhaineann le randamú agus le ról an ghrúpa cóimheasa i staidéir a thabhairt faoi deara – claonadh, srianta agus saincheisteanna eiticiúla a thabhairt faoi deara i ngach cineál staidéir – sampla a roghnú (srathaithe, braisle, cuóta, etc. – níl aon fhoirmle ag teastáil, ní gá ach sainmhíniú a thabhairt orthu sin) – plan a dhearadh agus sonraí a bhailiú ar bhonn an eolais thuas

Foghlaimíonn na scoláirí	Ba chóir go mbeadh scoláirí BL in ann	Ina theannta sin, ba chóir go mbeadh scoláirí GL in ann	Ina theannta sin, ba chóir go mbeadh scoláirí AL in ann
<p>1.6 Sonraí a léiriú le graif agus le huimhreacha</p>	<p>Grafach</p> <ul style="list-style-type: none"> – modhanna cuí grafacha nó uimhriúla a roghnú chun cur síos a dhéanamh ar an sampla (níl ach sonraí aonathráideacha i gceist) – measúnú a dhéanamh ar éifeachtacht bealaí éagsúla maidir le torthaí imscrúdaithe staitistiúil a rinne daoine eile a léiriú – úsáid a bhaint as léaráidí gais is duillí agus as histeagraim (eatraimh chomhionanna) chun sonraí a thaispeáint <p>Uimhriúil</p> <ul style="list-style-type: none"> – úsáid a bhaint as staitisticí achoimre éagsúla chun cur síos a dhéanamh ar na sonraí: clonadh lárnach: meán, airmheán, mód inathraitheacht: raon 	<p>Grafach</p> <ul style="list-style-type: none"> – modhanna cuí grafacha nó uimhriúla a roghnú chun cur síos a dhéanamh ar an sampla (idir sonraí aonathráideacha agus sonraí déathráideacha) – dáileadh sonraí a chíoradh, lena n-áirítear coincheapa na siméadrachta agus na sceabhachta – úsáid a bhaint as léaráidí gais is duillí cúl le cúl chun comparáid a dhéanamh idir thacair sonraí – úsáid a bhaint as scaipghraim chun an gaol idir athróa a chinneadh – a thabhairt faoi deara gurb éard is comhghaolú ann ná luach ó -1 go +1 agus go ndéanann sé tomhas ar mhéid an ghaoil línigh idir dhá athróg – luachanna na gcomhéifeachtaí comhghaolaithe a mheaitseáil leis na scaipghraim chuí <p>Uimhriúil</p> <ul style="list-style-type: none"> – a fhios a bheith acu gur tomhas ar inathraitheacht é diall caighdeánach – úsáid a bhaint as áireamhán chun diall caighdeánach a ríomh – léaráid ghais a úsáid chun ceathairleanna agus an raon idircheathairle a ríomh 	<p>Grafach</p> <ul style="list-style-type: none"> – difríochtaí i measc na dtomhas a bhaineann le lár agus le scaipeadh a mhíniú trí anailís a dhéanamh ar bhreacthaí de na sonraí – an líne is fearr oiriúint a tharraingt gan aon rud a úsáid ach na súile – tuartha a dhéanamh bunaithe ar an líne is fearr oiriúint – an chomhéifeacht chomhghaolaithe a ríomh le háireamhán agus a thuiscint nach gá go leanfadh cúisíocht comhghaolú <p>Uimhriúil</p> <ul style="list-style-type: none"> – a thabhairt faoi deara gurb ann d’asluitigh, agus cén éifeacht atá acu – úsáid a bhaint as peircintílí chun seasamh coibhneasta a shannadh – úsáid chuí a bhaint as an raon idircheathairle agus anailís á déanamh ar sonraí

Foghlaimíonn na scoláirí	Ba chóir go mbeadh scoláirí BL in ann	Ina theannta sin, ba chóir go mbeadh scoláirí GL in ann	Ina theannta sin, ba chóir go mbeadh scoláirí AL in ann
1.7 Anailís a dhéanamh ar shonraí, iad a léirmhíniú agus tátail a bhaint astu*	<ul style="list-style-type: none"> – a thabhairt faoi deara cén chaoi a dtéann inathraitheacht samplála i bhfeidhm ar úsáid eolais shamplaigh chun ráitis a dhéanamh i dtaobh an daonra – uirlisí cuí a fhorbairt chun cur síos a dhéanamh ar inathraitheacht, ag baint tátail faoin daonra as an sampla – an anailís a léirmhíniú – ceangal a dhéanamh idir an léirmhíniú agus an bhuncheist 	<ul style="list-style-type: none"> – histeagram a léirmhíniú ó thaobh dáileadh sonraí de – cinntí a dhéanamh bunaithe ar an riail eimpíreach 	<ul style="list-style-type: none"> – an coincheap a bhaineann le triail hipitéise a aithint [curtha siar go ceann idirthréimhse] – an lamháil earráide a ríomh le haghaidh comhréir dhaonra ($\frac{1}{\sqrt{n}}$) – triail hipitéise a dhéanamh ar chomhréir dhaonra, ag úsáid na lamhála earráide
Foghlaimíonn na scoláirí	Beidh na scoláirí in ann		
1.8 Sintéis agus réiteach fadhbanna	<ul style="list-style-type: none"> – patrúin a chioradh agus buillí faoi thuairim a fhoirmiú – torthaí a mhíniú – údar a thabhairt le tátail – matamaitic a chur in iúl ó bhéal agus i scríbhinn – a gcuid eolais agus scileanna a chur i bhfeidhm chun fadhbanna a réiteach i gcomhthéacsanna a bhfuil taithí acu orthu agus i gcomhthéacsanna nach bhfuil taithí acu orthu – anailís a dhéanamh ar fhaisnéis a chuirtear ina láthair i bhfocail agus í a aistriú go foirm mhatamaiticiúil – samhlacha, foirmlí nó teicnící matamaiticiúla cuí a cheapadh, a roghnú agus a úsáid chun faisnéis a phróiseáil agus chun tátail ábhartha a bhaint 		

* Beidh ábhar breise sa chuid seo sa siollabas deireanach, atá curtha siar go ceann tréimhse eatramhach go dtí go mbeidh an t-ábhar siollabais ábhartha sa tsraith shóisearach críochnaithe ag scoláirí atá ag teacht tríd go dtí an tsraith shinsearach.

Snáithe 2: Céimseata agus Triantánacht

An chéimseata a dhéantar sa Teastas Sóisearach, leantar ar aghaidh uathí sin i gcéimseata shintéiseach sa tsraith shinsearach. Tá sí bunaithe ar an *gCúrsa Céimseatan do Mhatamaitic Iar-bhunscoile*, lena n-áirítear téarmaí, sainmhínte, aicsiomaí, tairiscintí, teoirimí, coinbhéartaí agus atorthaí. Is é an buntaca foirmiúil don chóras céimseatan iar-bhunscoile ná an ceann a ndéanann Barry cur síos air (2001)¹.

Ag gach leibhéal den siollabas, déantar talamh slán de go mbeidh eolas ag na scoláirí ar thorthaí céimseatúla ón leibhéal comhfhreagrach ag Teastas Sóisearach. Táthar ag súil leis freisin go mbeidh scoláirí ag gach leibhéal ag plé le pacáiste bogearraí céimseatan dinimiciúla.

Ag Bonnleibhéal agus ag Gnáthleibhéal go háirithe, ba chóir gur de thoradh imscrúdaithe agus fionnachtana a thiocthadh na scoláirí ar na torthaí céimseatan thíos i dtosach. Iarrtar ar scoláirí glacadh leis go bhfuil na torthaí sin fíor chun críche iad a chur i bhfeidhm le fadhbanna éagsúla, cuid acu i gcomhthéacs agus cuid acu teibí. Ba chóir go dtiocfaidís ar an tuiscint go ndealraíonn sé go bhfuil gnéithe áirithe de chruthanna nó de léaráidí neamhspleách ar na samplaí ar leith a roghnaítear. Is féidir na gnéithe nó na torthaí sin, a ndealraíonn sé go bhfuil siad tairiseach, a fháil amach ar bhealach foirmiúil trí chruthú loighciúil. Fiú ag céim an imscrúdaithe, is féidir na smaointe a bhaineann le cruthú matamaiticiúil a fhorbairt. Ba chóir go gcuirfeadh na scoláirí eolas ar chruthúnais fhoirmiúla na dteoirimí sonraithe (ar féidir cuid acu a scrúdú ag Ardleibhéal). Bainfear úsáid as fadhbanna ar féidir an teoiric a úsáid lena réiteach chun na scoláirí a mheasúnú.

¹ P.D. Barry. *Geometry with Trigonometry*, Horwood, Chichester (2001)

Snáithe 2: Céimseata agus Triantánacht

Foghlaimíonn na scoláirí	Ba chóir go mbeadh scoláirí BL in ann	Ina theannta sin, ba chóir go mbeadh scoláirí GL in ann	Ina theannta sin, ba chóir go mbeadh scoláirí AL in ann
2.1 Céimseata shintéiseach *	<ul style="list-style-type: none"> tógálacha 18, 19, 20 a dhéanamh (féach an cúrsa céimseatan don mhatamaitic san iar-bhunscoil) 	<ul style="list-style-type: none"> tógálacha 16, 17, 21 a dhéanamh (féach an cúrsa céimseatan don mhatamaitic san iar-bhunscoil) úsáid a bhaint as na téarmaí seo a bhaineann le loighic agus le réasúnú déaduchtach: teoirim, cruthúnas, aicsiom, atoradh, coinbhéarta, is intuigthe as (nó leanann de) imscrúdú a dhéanamh ar teoirimí 7, 8, 11, 12, 13, 16, 17, 18, 20, 21 agus ar atoradh 6 (féach an cúrsa céimseatan don mhatamaitic san iar-bhunscoil) agus úsáid a bhaint astu chun fadhbanna a réiteach 	<ul style="list-style-type: none"> tógálacha 1-15 agus 22 a dhéanamh (féach an cúrsa céimseatan don mhatamaitic san iar-bhunscoil) úsáid a bhaint as na téarmaí seo a bhaineann le loighic agus le réasúnú déaduchtach: atá coibhéiseach le, is gá agus is leor (nó má tá..., agus sa chás sin amháin), cruthúnas trí bhréagnú teoirimí 11, 12, 13, a bhaineann le cóimheasa, a chruthú (féach an cúrsa céimseatan don mhatamaitic san iar-bhunscoil). Leagann na teoirimí sin síos an bonn ceart le haghaidh chruthúnas Theoirim Phíotagaráis, a ndéantar staidéar air sa tsraith shóisearach
2.2 Céimseata Chomhordanáideach	<ul style="list-style-type: none"> úsáid a bhaint as fánaí le taispeáint go bhfuil dhá líne <ul style="list-style-type: none"> comhthreomhar ingearach 	<ul style="list-style-type: none"> achar triantáin a ríomh a thabhairt faoi deara go bhfuil na gaolta $y = mx + c$, $y - y_1 = m(x - x_1)$ agus $ax + by + c = 0$ líneach fadhbanna a réiteach lena mbaineann fánaí línte a thabhairt faoi deara go seasann $(x - h)^2 + (y - k)^2 = r^2$ don ghaol idir x-chomhordanáidí agus y-chomhordanáidí na bpointí ar chiorcal dar lárphointe (h, k) agus dar ga r fadhbanna a réiteach lena mbaineann líne agus ciorcal dar lár (0, 0) 	<ul style="list-style-type: none"> fadhbanna a réiteach lena mbaineann <ul style="list-style-type: none"> an fad ingearach ó phointe go líne an uillinn idir dhá líne mírlíne a roinnt i gcóimheas tugtha m:n a thabhairt faoi deara go seasann $x^2 + y^2 + 2gx + 2fy + c = 0$ don ghaol idir x-chomhordanáidí agus y-chomhordanáidí na bpointí ar chiorcal dar lárphointe (-g, -f) agus dar ga r, áit a bhfuil $r = \sqrt{g^2 + f^2 - c}$ fadhbanna a réiteach lena mbaineann líne agus ciorcal

* Sa scrúdú, beidh rogha ag na hiarrthóirí – ceist a fhreagairt ar an gcéimseata shintéiseach atá leagtha amach anseo, nó ceist a fhreagairt ina mbeidh orthu fadhbanna a réiteach atá bunaithe ar na torthaí céimseatúla ón leibhéal comhfhreagrach den siollabas ag Teastas Sóisearach. Beidh an rogha sin i bhfeidhm ar feadh tréimhse trí bliana, agus ar feadh na tréimhse sin amháin, is é sin d'iarthóirí a bheidh ag déanamh scrúdú na hArdeistiméireachta in 2012, 2013 agus 2014. Ní bheidh aon rogha ann ina dhiaidh sin.

Foghlaimíonn na scoláirí	Ba chóir go mbeadh scoláirí BL in ann	Ina theannta sin, ba chóir go mbeadh scoláirí GL in ann	Ina theannta sin, ba chóir go mbeadh scoláirí AL in ann
2.3 Triantánacht	<ul style="list-style-type: none"> – fadhbanna a réiteach a bhaineann le hairde agus fad a fháil ó thriantáin dhronuilleacha (2D amháin) – úsáid a bhaint as Teoirim Phíotagaráis chun fadhbanna a réiteach – fadhbanna a réiteach a bhaineann le comhshíneas, síneas agus tangant uillinneacha idir 0° and 90° a ríomh 	<ul style="list-style-type: none"> – úsáid a bhaint as an triantánacht chun achar triantáin a ríomh – úsáid a bhaint as riail an tsínis agus as riail an chomhshínis chun fadhbanna a réiteach (2D) – sin θ agus cos θ a shainmhíniú do gach luach de θ – tan θ a shainmhíniú – achar teascóg ciorcail agus fad stua a ríomh agus fadhbanna a mbaineann na ríomhanna sin leo a réiteach 	<ul style="list-style-type: none"> – úsáid a bhaint as an triantánacht chun fadhbanna a réiteach in 3D – na feidhmeanna triantánachta seo – síneas, comhshíneas agus tangant – a ghrafadh – feidhmeanna triantánachta den saghas aSin $n\theta$, aCos $n\theta$ do a, $n \in \mathbb{N}$ a ghrafadh – cothromóidí triantánachta de na cineálacha seo a leanas a réiteach Sin $n\theta=0$ agus Cos $n\theta= \frac{1}{2}$, ag tabhairt na réiteach ar fad – tomhas uillinneacha ina raidiain a úsáid – na foirmlí triantánachta 1, 2, 3, 4, 5, 6, 7, 9 a dhíorthú (féach aguisín) – na foirmlí triantánachta 1-24 a chur i bhfeidhm (féach aguisín)
2.4 Céimseata an chlaochlaithe, méaduithe	<ul style="list-style-type: none"> – méaduithe a imscrúdú, ag tabhairt airde ar <ul style="list-style-type: none"> • lár an mhéadaithe • fachtóir scála k; $0 < k < 1$, $k > 1$ $k \in \mathbb{Q}$ • an t-achar – fadhbanna a réiteach lena mbaineann méaduithe 		
Foghlaimíonn na scoláirí	Ba chóir go mbeadh na scoláirí in ann		
2.5 Sintéis agus réiteach fadhbanna	<ul style="list-style-type: none"> – patrúin a chioradh agus buillí faoi thuairim a fhoirmlíú – torthaí a mhíniú – údar a thabhairt le tátail – matamaitic a chur in iúl ó bhéal agus i scríbhinn – a gcuid eolais agus scileanna a chur i bhfeidhm chun fadhbanna a réiteach i gcomhthéacsanna a bhfuil taithí acu orthu agus i gcomhthéacsanna nach bhfuil taithí acu orthu – anailís a dhéanamh ar fhaisnéis a chuirtear ina láthair i bhfocail agus í a aistriú go foirm mhatamaiticiúil – samhlacha, foirmlí nó teicnící matamaiticiúla cuí a cheapadh, a roghnú agus a úsáid chun faisnéis a phróiseáil agus chun tátail ábhartha a bhaint 		

MEASÚNÚ



Measúnú

Measúnú i Matamaitic na hArdteistiméireachta

Beidh an measúnú le haghaidh teastasaithe bunaithe ar aidhmeanna, ar chuspóirí agus ar thorthaí foghlama an dréachtsiollabais seo agus ar an siollabas do Mhatamaitic na hArdteistiméireachta a d'fhoilsigh an Roinn Oideachais in 1994. An chaoi a ndéanfar idirdhealú ó thaobh measúnaithe de ná scrúduithe ag trí leibhéal – Bonnleibhéal, Gnáthleibhéal agus Ardleibhéal. I snáitheanna 1 agus 2 sa siollabas seo, is fothacar é gach leibhéal den chéad leibhéal eile. Táthar ag súil go mbainfidh foghlaimeoirí ag Ardleibhéal na torthaí foghlama Bonnleibhéil, Gnáthleibhéil agus Ardleibhéil amach. I gcás foghlaimeoirí ag Gnáthleibhéal, táthar ag súil go mbainfidh siad na torthaí foghlama Bonnleibhéil amach chomh maith leo siúd ag Gnáthleibhéal. Bainfar idirdhealú amach freisin tríd an leibhéal teanga sna ceisteanna scrúdaithe, tríd an ábhar spreagtha a chuirfear i láthair, agus tríd an méid tacaíochta struchtúrtha a thabharfar sna ceisteanna, go háirithe d'iarrthóirí ag Bonnleibhéal.

Codanna an Mheasúnaithe

Tá dhá chuid sa mheasúnú ag gach leibhéal

- Matamaitic Páipéar 1
- Matamaitic Páipéar 2

Critéir Ghinearálta le haghaidh Measúnaithe ar Shnáithe 1 agus 2

Is é saintréith **an ardleibhéil gnóthachtála** sa Mhatamaitic ná a bheith in ann mioneolas agus tuiscint chuimsitheach ar an matamaitic a thaispeáint, de réir mar a mhínítear sna torthaí foghlama a bhaineann le gach snáithe. Bíonn an foghlaimeoir in ann déaduchtuithe a dhéanamh le léargas, fiú i gcomhthéacsanna nach bhfuil taithí aige/aici orthu, agus bíonn sé/sí in ann gluaiseacht ó chineál amháin léirithe go cineál eile gan stró. Agus é/í ag imscrúdú fadhbanna dúshlánacha, aithníonn an foghlaimeoir struchtúir patrúin, déanann sé/sí cur síos orthu mar ghaoil nó mar rialacha ginearálta, baineann


sé/sí tátail agus soláthraíonn sé/sí firinniú nó cruthúnas. Cuireann an foghlaimeoir firinniú gonta, réasúnaithe i láthair don mhodh agus don phróiseas agus, nuair is cuí, measann sé/sí an raon cineálacha cur chuige a d'fhéadfaí a úsáid, lena n-áirítear úsáid na teicneolaíochta.

Is é saintréith **an mheánleibhéil gnóthachtála** sa Mhatamaitic ná a bheith in ann eolas leathan agus tuiscint mhaith ar an matamaitic a thaispeáint, de réir mar a mhínítear sna torthaí foghlama a bhaineann le gach snáithe. Bíonn an foghlaimeoir in ann déaduchtuithe a dhéanamh le roinnt léargais, fiú i gcomhthéacsanna nach bhfuil taithí aige/aici orthu, agus bíonn sé/sí in ann gluaiseacht ó chineál amháin léirithe go cineál eile sa chuid is mó de chásanna. Agus é/í ag imscrúdú fadhbanna atá measartha casta, aithníonn an foghlaimeoir struchtúir patrúin, déanann sé/sí cur síos orthu mar ghaoil nó mar rialacha ginearálta agus baineann sé/sí tátail atá ag teacht leis na torthaí. Roghnaíonn an foghlaimeoir scileanna agus teicnící chun fadhbanna a réiteach, cuireann sé/sí i bhfeidhm iad agus déanann sé/sí é sin ar fad go maith. Cuireann an foghlaimeoir firinniú réasúnaithe i láthair don mhodh agus don phróiseas agus soláthraíonn sé/sí measúnú ar shuntasacht agus ar iontaofacht na dtorthaí.

Is é saintréith **an leibhéil ísil gnóthachtála** sa Mhatamaitic ná eolas nó tuiscint mhatamaiticiúil theoranta a thaispeáint, de réir mar a mhínítear sna torthaí foghlama a bhaineann le gach snáithe. Aithníonn an foghlaimeoir patrúin nó struchtúir shimplí agus é/í ag imscrúdú fadhbanna agus cuireann sé/sí teicnící bunúsacha i bhfeidhm chun fadhbanna a réiteach, rud a dhéanann sé/sí go réasúnta. Déantar iarracht le firinniú a thabhairt don mhodh a úsáideadh agus le hiontaofacht na dtorthaí a mheasúnú.

Aguisín: Foirmlí Triantánachta

1. $\cos^2 A + \sin^2 A = 1$
2. foirmle an tsínis: $\frac{a}{\sin A} = \frac{b}{\sin B} = \frac{c}{\sin C}$
3. foirmle an chomhshínis: $a^2 = b^2 + c^2 - 2bc \cos A$
4. $\cos(A-B) = \cos A \cos B + \sin A \sin B$
5. $\cos(A+B) = \cos A \cos B - \sin A \sin B$
6. $\cos 2A = \cos^2 A - \sin^2 A$
7. $\sin(A+B) = \sin A \cos B + \cos A \sin B$
8. $\sin(A-B) = \sin A \cos B - \cos A \sin B$
9. $\tan(A+B) = \frac{\tan A + \tan B}{1 - \tan A \tan B}$
10. $\tan(A-B) = \frac{\tan A - \tan B}{1 + \tan A \tan B}$
11. $\sin 2A = 2 \sin A \cos A$
12. $\sin 2A = \frac{2 \tan A}{1 + \tan^2 A}$
13. $\cos 2A = \frac{1 - \tan^2 A}{1 + \tan^2 A}$
14. $\tan 2A = \frac{2 \tan A}{1 - \tan^2 A}$
15. $\cos^2 A = \frac{1}{2}(1 + \cos 2A)$
16. $\sin^2 A = \frac{1}{2}(1 - \cos 2A)$
17. $2 \cos A \cos B = \cos(A+B) + \cos(A-B)$
18. $2 \sin A \cos B = \sin(A+B) + \sin(A-B)$
19. $2 \sin A \sin B = \cos(A-B) - \cos(A+B)$
20. $2 \cos A \sin B = \sin(A+B) - \sin(A-B)$
21. $\cos A + \cos B = 2 \cos \frac{A+B}{2} \cos \frac{A-B}{2}$
22. $\cos A - \cos B = -2 \sin \frac{A+B}{2} \sin \frac{A-B}{2}$
23. $\sin A + \sin B = 2 \sin \frac{A+B}{2} \cos \frac{A-B}{2}$
24. $\sin A - \sin B = 2 \cos \frac{A+B}{2} \sin \frac{A-B}{2}$



Cuid B

Cúrsa Céimseatan do Mhatamaitic Iar-bhunscoile

Leagann an chuid seo amach an cúrsa comhaontaithe sa chéimseata do Mhatamaitic an Teastais Shóisearaigh agus na hArdteistimeireachta araon. Tá na torthaí foghlama ag na leibhéil éagsúla sonraithe i Sraith 2 sna siollabais ábhartha.

Cúrsa Céimseatan do Mhatamaitic Iar-bhunscoile

Meán Fómhair 2010

1 Réamhrá

Ghlac na coistí cúrsa matamaitice don Teastas Sóisearach agus don Ardeistiméireacht de chuid na Comhairle Náisiúnta Curaclaim agus Measúnachta (CNCM) leis an moladh a bhí sa pháipéar [4] le O’Farrell go ndéanfaí struchtúr loighciúil na céimseatan iar-bhunscoile a bhunú ar an gcuntas leibhéal 1 i leabhar Barry [1].

Mar a deirtear in [4]: Aithnímid trí leibhéal:

Leibhéal 1: An leibhéal lándian, ar dóigh go mbeidh sé intuigthe do mhata-maiticeoirí gairmiúla agus d’ardmhic léinn tríú leibhéal agus ceathrú leibhéal amháin.

Leibhéal 2: An leibhéal leathfhoirmiúil, atá oiriúnach do mhórán mac léinn ó (thart ar) aois 14 bliana ar aghaidh.

Leibhéal 3: An leibhéal neamhfhoirmiúil, atá oiriúnach do leanaí níos óige.

Leagann an t-aguisín seo amach an cúrsa comhaontaithe sa chéimseata d’iar-bhunscoileanna. D’ullmhaigh grúpa oibre de chuid choistí cúrsa an CNCM don mhatamaitic é agus, i ndiaidh roinnt mionleasuithe, ghlac an dá choiste é lena chuimsiú sna doiciméid siollabais. Ba chóir do léitheoirí Sraith 2 de na doiciméid siollabais do mhatamaitic an Teastais Shóisearaigh agus na hArdeistiméireachta a cheadú, chun raon agus doimhneacht an ábhair ar a ndéanfar staidéar ag na leibhéil éagsúla a fheiceáil. Tugtar achoimre orthu seo i gcodanna 9–13 den aguisín seo. Is é Anthony O’Farrell, le cabhair ó Ian Short, a rinne an t-aguisín seo a ullmhú agus a chur i láthair don chuid is mó. Admhaítear critic chuidiúil ó Stefan Bechluft-Sachs, Ann O’Shea agus Richard Watson chomh maith.

2 An córas céimseatan a úsáidtear le haghaidh cruthúnas foirmiúil

Sa mhéid seo a leanas, tagraíonn Céimseata do chéimseata phlánach.

Tá a lán léirithe foirmiúla de chéimseata ann, agus tá a thacar aicsiomaí agus bunchoincheapa féin ag gach ceann acu. Dá bhrí sin má bhíonn cruthúnas bailí i gcomhthéacs córais amháin ní gá go bhfuil sé bailí i gcomhthéacs córais eile. Toisc go mbeidh ar mhic léinn cruthúnais fhoirmiúla a chur i láthair sna scrúduithe, caithfear an córas céimseatan a bheidh ina chomhthéacs do chruthúnais dá leithéid a shonrú.

Is é an fothaca foirmiúil don chóras céimseatan ar chúrsa an Teastais Shóisearaigh agus ar chúrsa na hArdteistiméireachta ná an ceann a ndéanann an tOllamh Patrick D. Barry cur síos air i [1]. Míbhuntáiste tromchúiseach a bhaineann le córas dá leithéid a chur i láthair i gceart go foirmiúil ná nach bhfuil sé intuigthe go héasca do mhic léinn ag an leibhéal seo. Dá réir sin, tá leagan simplithe de riachtanas curtha i láthair thíos a phléann le mórán coincheapa i mbealach i bhfad níos scaoilte ná mar a bheadh i gceist le cur i láthair fíor-foirmiúil. Moltar do léitheoirí ar bith a theastaíonn uathu an t-easnamh seo a réiteach breathnú ar [1] le haghaidh plé ceart léannta ar an ábhar.

Tá na buntéarmaí neamhshainithe seo a leanas i gcóras Barry: **plána**, **pointe**, **líne**, \langle_l (**a thagann roimhe ar líne**), **leathphlána** (**oscailte**), **fad**, **agus tomhas céime**, agus seacht n-aicsiom: A_1 : faoi theagmhas, A_2 : faoi ord ar línte, A_3 : faoin gcaoi a roinneann línte an plána, A_4 : faoi fhad, A_5 : faoi thomhas céime, A_6 : faoi iomchuibheas triantán, A_7 : faoi línte chomhthreomhara.

3 Prionsabail Threoracha

Agus cuntas leibhéal 2 á chur le chéile, tugaimid aird ar na prionsabail faoin ngaol atá idir na leibhéil a leagtar síos i [4, Cuid 2].

Nuair a bhíonn an t-ábhar ar a ndéanfar staidéar á roghnú, ba cheart úsáideanna (laistigh agus lasmuigh den Mhatamaitic féin) a chur san áireamh.

Is í an chúis is mó le staidéar a dhéanamh ar chéimseata shintéiseach ná chun an bonn a ullmhú go loighciúil maidir le triantánacht, céimseata chomhordanáideach, agus veicteoirí a fhorbairt, ar féidir an-chuid úsáideanna a bhaint astu.

Táimid ag iarraidh an cuntas a choimeád chomh simplí agus is féidir.

Tá sé inmhianaithe chomh maith nach n-úsáidfeadh an siollabas Gaeilge

oifigiúil téarmaíocht atá neamhchaighdeánach i gcleachtas idirnáisiúnta, nó a úsáidtear i mbealach neamhchaighdeánach.

Níor chóir go mbeadh aon chruthúnas ceadaithe ag leibhéal 2 nach féidir cruthúnas beacht iomlán a dhéanamh de ag leibhéal 1, nó a úsáideann aicsiomaí nó teoirimí a thagann níos déanaí sa seicheamh loighciúil. Tá sé d'aidhm againn cruthúnais leormhaithe a sholáthar le haghaidh na dteoirimí go léir, ach nílimid ag moladh gurb iad na cruthúnais sin amháin a bheidh inghlactha. Ba chóir go mbeadh sé oscailte do mhúinteoirí agus do mhic léinn smaoiniamh ar bhealaí eile chun na torthaí a chruthú, chomh fada is atá siad ceart agus go n-oireann siad don chreat loighciúil. Go deimhin, ba chóir a leithéid a spreagadh. Ar ndóigh, beidh cineál éigin dearbhaithe ag teastáil ó mhúinteoirí agus ó mhic léinn go nglacfar lena leithéid de chruthúnais éagsúla má úsáidtear i scrúdú iad. Molaimid gur chóir don duine a thugann ar chruthúnas nua é a phlé le mic léinn agus comhghleacaithe, agus (má tá amhras ar bith ann) é a chur ar aghaidh chuig an gComhairle Náisiúnta Curaclaim agus Measúnachta agus/nó Coimisiún na Scrúduithe Stáit.

D'fhéadfadh go mbeadh sé cuidiúil an liosta seo a leanas, nach bhfuil uileghabhálach, de dhifríoachtaí suntasacha a thabhairt faoi deara idir plé Barry agus ár gcur i láthair féin nach bhfuil chomh foirmiúil sin.

- Cé go bhféadfaimis nodaireacht tacar a úsáid agus go mbeimis ag súil go dtuigfeadh mic léinn coincheapadh na céimseatan i dtéarmaí tacar, bainimid úsáid níos minice as an gcaint atá coitianta nuair atá céimseata á plé go neamhfhoirmiúil, ar nós “tá/luíonn an pointe ar an líne”, “téann an líne tríd an bpointe”, etc.
- Úsáidimid agus glacaimid le i bhfad níos lú beachtais ó thaobh teanga agus nodaireachta de (mar atá soiléir ó roinnt de na míreanna eile ar an liosta seo).
- Luaimid cúig aicsiom sainráite, ag baint úsáide as teanga nach bhfuil chomh foirmiúil le teanga Barry, agus ní luaimid aicsiomaí go sainráite a chomhfhreagraíonn do Aicsiomaí A2 agus A3 - ina ionad sin déanaimid ráitis gan gleadhradh sa téacs.
- Glacaimid le tuiscint níos scaoilte ar an méid a chiallaíonn **uillinn**, gan tagairt ar bith a dhéanamh do thacaí uillinne. Ní dhéanaimid an téarma uillinn a shainmhíniú. Tagraímid d'uillinneacha athfhillteacha ón tús (ach ní bhainimid úsáid astu go dtí go dtagaimid go huillinneacha i gciorcail), agus glacaimid leis go socair (nuair a thagann an t-am) go mbaineann na haicsiomaí a gcuireann Barry i láthair i gcomhthéacs

uillinneacha dingeacha le huillinneacha athfhillteacha chomh maith sa bhealach comhfhreagrach nádúrtha.

- Nuair atá uillinn á hainmniú, glactar leis i gcónaí go bhfuiltear ag tagairt don uillinn neamh-athfhillteach, mura dtagann an focal “athfhillteach” roimhe nó ina dhiaidh.
- Ní dhéanaimid tagairt ar bith do thorthaí ar nós dlí Pasch agus “teoirim an chrosbharra”. (Is é sin ná, ní bhímid ag súil go gceapfaidh mic léinn gur gá a leithéid de thorthaí a chruthú nó iad a bheith tugtha mar aicsiomaí.)
- Tagraímid don “méid céimeanna” in uillinn, cé go ndéanann Barry cur síos níos cirte ar seo mar “tomhas céime” na huillinne.
- Glacaimid gur féidir na sainmhínithe ar chomhthreomhaireacht, ingearacht agus “taobhacht” a shíneadh go héasca ó línte go leathlínte agus mírlínte. (Dá bhrí sin, mar shampla, d’fhéadfaimis a rá go bhfuil na sleasa urchomhaireacha de cheathairshleasán ar leith comhthreomhar, rud a chiallaíonn go bhfuil na línte dá bhfuil siad ina bhfothacair comhthreomhar).
- Ní thagraímid go sainráite do thriantáin a bheith **iomchuí** “faoin gcomhfhreagairt $(A, B, C) \rightarrow (D, E, F)$ ”, ag glacadh leis ina ionad sin gurb í an chomhfhreagairt ná an ceann atá le tuiscint ón ord ina liostaítear na reanna. Is é sin le rá, nuair a deirimid go bhfuil “ $\triangle ABC$ iomchuí do $\triangle ABC$ ” is é atá i gceist againn ná, ag baint úsáide as téarmaíocht Barry, “Tá triantán [A,B,C] iomchuí do thriantán [D,E,F] faoin gcomhfhreagairt $(A, B, C) \rightarrow (D, E, F)$ ”.
- Ní choinnímid i gcónaí an t-idirdhealú sa teanga idir uillinn agus a tomhas, ag brath go minic ina ionad ar an gcomhthéacs chun an bhrí a dhéanamh soiléir. Leanaimid, ámh, leis an nós idirdhealú a dhéanamh ó thaobh nodaireachta de idir an uillinn $\angle ABC$ agus an méid $|\angle ABC|$ céimeanna atá san uillinn¹ Sa tslí chéanna, d’fhéadfaimis a rá go bhfuil dhá uillinn cothrom, nó ceann amháin cothrom le suim dhá cheann eile, (áit ar chóir dúinn a bheith níos cruinne agus a rá go bhfuil an dá cheann den tomhas céanna, nó go bhfuil tomhas ceann amháin cothrom le suim thomhais an dá cheann eile). Ar an gcuma chéanna, maidir le fad, d’fhéadfaimis a rá, mar shampla: “tá sleasa urchomhaireacha

¹I gcleachtas, ní ghearrann na scrúdaitheoirí pionós ar mhic léinn a fhágann na barraí amach.

comhthreomharáin cothrom”, nó tagairt do “chiorcal le ga r”. Áit nach mbeadh débhrí i gceist, d’fhéadfaimis tagairt d’uillinn ag baint úsáide as litir amháin. Mar shampla, mura bhfuil ach dhá gha nó mhírlíne i léaráid ón bpointe A , ansin is féidir $\angle A$ a thabhairt ar an uillinn i dtrácht.

Tar éis na difríochtaí seo a léiriú, b’fhéidir gur fiú dúinn roinnt gnéithe struchtúracha suntasacha de chéimseata Barry a lua a choinnítear sa leagan níos neamhfhoirmiúla seo againne:

- Tá na buntéarmaí beagnach mar an gcéanna, faoi réir a n-airíonna a bheith cumtha i mbealach níos neamhfhoirmiúla. Pléimid le **uillinn** mar théarma neamhshainithe breise.
- Glacaimid go gcruthaítear torthaí san ord céanna agus atá in Barry [1], seachas mionathruithe oird anseo is ansiúd. Go heisceachtúil luaimid na haicsiomaí go léir chomh lua is a bhíonn siad úsáideach, agus tugaimid an teoirim maidir le suim uillinneacha i dtriantán ar aghaidh chuig an bpointe is luaithe is féidir (gan aicsiom a dhéanamh de). Simplíonn sé seo cruthúnais roinnt teoirimí, ach ní bhíonn sé chomh éasca a fheiceáil cé acu de na torthaí atá ina dteoirimí den rud ar a dtugtar an Chéimseata Neodrach².
- Ní ghlactar leis go bhfuil **Achar** ina bhuntéarma nó ina airí tugtha de réigiúin. Ina ionad sin, sainmhínítear é do thriantáin i ndiaidh an toradh riachtanach a bhunú, is é sin go bhfuil na hionraigh a fhaightear nuair a iolraítear faid sleasa triantáin faoina n-airdí comhfhreagracha cothrom, agus leathnaítear ansin é go ceathairshleasáin dhronnacha.
- Ní ghlactar leis go bhfuil **isiméadrachtaí nó trasfhoirmithe eile** bunúsach. Go deimhin, maidir linne, ní shíneann an plé chomh fada le sainmhíniú a thabhairt orthu. Mar sin ní féidir leo ról ar bith a ghlacadh inár gcruthúnais.

4 Breac-chuntas ar an Leibhéal 2 atá Molta

Cuirimid an moladh i láthair tríd an méid seo a leanas a léiriú:

1. Liosta (Cuid 5) den téarmaíocht do na coincheapa céimseatan. Tá gach téarma i dteoiric sainmhínithe nó gan a bheith sainmhínithe,

²Céimseata gan aicsiom na línte comhthreomhara. Ní bhaineann sé seo leis an meán-scoil.

nó ar a laghad is féidir é a shainmhíniú. Caithfidh roinnt téarmaí neamhshainithe a bheith ann. (I dtéacsleabhair, tabharfar téarma neamhshainithe isteach trí chur síos, agus tabharfar sainmhínte sainráite ar chuid de na téarmaí sainmhínte, i gcaint atá oiriúnach don leibhéal. Glacaimid go mbeidh bonn leagtha síos ag obair leibhéal 3 roimhe seo a ligfidh do mhic léinn na téarmaí neamhshainithe a thuiscint. Ní thugaimid na sainmhínte sainráite ar na téarmaí go léir gur féidir sainmhíniú a thabhairt orthu. Ina ionad sin braithimid ar ghnáthchaint an mhic léinn, uaireanta in éineacht le ráitis neamh- fhoirmiúla. Mar shampla, ní scríobhaimid amach go beacht an sainmhíniú ar an **slios urchomhaireach** d'uillinn tugtha triantáin, nó an sainmhíniú (i dtéarmaí ballraíochta tacair) ar an méid a chiallaíonn sé nuair a deirtear **go dtéann líne trí** pointe tugtha. Is í an chúis go **gcaithfear** sainmhínte sainráite a thabhairt ar roinnt téarmaí ná go bhfuil malairtí ann, agus go sonraíonn an sainmhíniú an pointe tosaigh; faightear na leaganacha eile de chur síos ar an téarma ansin mar theoirimí.

2. Cuntas loighciúil (Cuid 6) ar theoiric na céimseatan sintéisí. Cuirtear an t-ábhar go léir suas go dtí an Ardeistiméireacht ardleibhéal i láthair. Aithneoidh na siollabais ar leith an t-ábhar ábhartha trí thagairt dó de réir uimhreach (m.sh. Teoirimí 1, 2, 9).
3. Na tógálacha céimseatan (Cuid 7) a ndéanfar staidéar orthu. Arís, tagróidh na siollabais ar leith do na míreanna ar an liosta seo de réir uimhreach agus an méid a gcaithfear staidéar a dhéanamh air á shonrú.
4. Roinnt treorach maidir le múineadh (Cuid 8).
5. Iontrálacha siollabais do gach ceann de T.Sóis.-GL, T.Sóis.-AL, Ardteist.-BL, Ardteist.-GN, Ardteist.-AL.

5 Téarmaí

Téarmaí Neamhshainithe: uillinn, céim, fad, líne, plána, pointe, ga, réaduimhir, tacar.

Na téarmaí Sainmhínte is tábhachtaí: achar, línte comhthreomhara, comhthreomharán, dronuillinn, triantán, triantáin iomchuí, triantáin chomhchosúla, tadhlaí do chiorcal, achar.

Téarmaí Sainmhíthe eile: géaruillinn, uillinneacha ailtéarnacha, déroinnteoir uillinne, stua, achar diosca, bonn agus buaic agus airde chomhfhreagrach triantáin nó comhthreomharáin, corda, ciorcal, imlár, imchiorcal, imlíne chiorcal, imgha, pointí comhlíneacha, línte comhchumaracha, ceathairshleasán dronnach, uillinneacha comhfhreagracha, trastomhas, diosca, fad, triantán comhshleasach, uillinneacha seachtracha triantáin, uillinn iomlán, taobhagán, ionlár, inchiorcal, ingha, uillinneacha inmheánacha urchomhaireacha, triantán comhchosach, línte airmheáin, lárphointe mírlíne, uillinn nialasach, maoluillinn, déroinnteoir ingearach mírlíne, línte ingearacha, pointe tadhaill, polagán, ceathairshleasán, ga, cóimheas, dronuilleog, uillinn athfhillteach, gnáth-uillinn, rombas, triantán dronuilleach, triantán scailéanach, teascóg, mírlíne, cearnóg, uillinn dhíreach, fothacar, uillinneacha forlíontacha, líne trasnaí, rinnuillinneacha urchomhaireacha.

Téarmaí is féidir a shainmhíniú a úsáidtear gan sainmhíniú sainráite:

uillinneacha, sleasa cóngaracha, sleasa nó taobhanna uillinne, lár ciorcail, foircinn mhírlíne, uillinneacha cothroma, mírlínte cothroma, téann líne trí phointe, uillinneacha nó sleasa urchomhaireacha ceathairshleasáin, nó reanna triantáin nó ceathairshleasáin, luíonn pointe ar líne, taobh líne, slios polagáin, an slios os comhair uillinn triantáin, rinn, reanna (uillinne, triantáin, polagáin).

6 An Teoiric

Seasann **Líne**³ do 'líne dhíreach'. Tóg **plána**⁴ seasta, uair amháin agus gan ach uair amháin, agus breathnaigh ar na línte a luíonn ann. Tá an plána agus na línte ina **dtacair**⁵ de **phointí**⁶. Tá gach líne ina **fothacar** den phlána, i.e. tá gach ball de líne ina phointe den phlána. Tá gach líne gan deireadh, ag síneadh go brách sa dá threo. Tá líon éigríochta pointí ag gach líne. Is féidir glacadh leis go bhfuil na pointí ar líne in ord ar an líne sa tslí nádúrtha. Mar thoradh, má thógtar aon trí phointe ar leith ar líne, luíonn díreach ceann amháin acu **idir** an dá cheann eile. Is féidir a rá go bhfuil pointí nach bhfuil ar líne tugtha ar **thaobh** amháin nó ar an taobh eile den líne. Uaireanta tugtar **leathphlánaí** ar thaobhanna líne.

³Tá an líne neamhshainithe

⁴Téarma neamhshainithe

⁵Téarma neamhshainithe

⁶Téarma neamhshainithe

Nodaireacht 1. Cuirimid pointí in iúl le ceannlitreacha rómhánacha A, B, C , etc., agus línte le litreacha cás-íochtair rómhánacha l, m, n , etc.

Is ráitis iad aicsiomaí a nglacfaimid leis go bhfuil siad fíor⁷.

Aicsiom 1 (Aicsiom Dhá Phointe). *Tá líne amháin go beacht trí aon dá phointe tugtha. (Cuirimid an líne trí A agus B in iúl le AB .)*

Sainmhíniú 1. Tá an **mhírlíne** $[AB]$ ina cuid den líne AB idir A agus B (na foircinn san áireamh). Roinneann an pointe A an líne AB ina dhá chuid, ar a dtugtar **gathanna**. Luíonn an pointe A idir na pointí uile de gha amháin agus na pointí uile den cheann eile. Cuirimid an ga a thosaíonn ag A agus a théann trí B in iúl le $[AB]$. Tugtar **leathlínte** ar ghathanna uaireanta.

De ghnáth cinntíonn trí phointe trí líne dhifriúla.

Sainmhíniú 2. Má luíonn trí phointe nó níos mó ar líne amháin, deirimid go bhfuil siad **comhlíneach**.

Sainmhíniú 3. Bíodh A, B agus C ina bpointí nach bhfuil comhlíneach. Is é atá sa **triantán** $\triangle ABC$ ná an píosa den phlána atá iniata ag na trí mhírlíne $[AB]$, $[BC]$ agus $[CA]$. Tugtar a **shleasa** ar na mírlínte seo, agus tugtar a **reanna** ar na pointí (uatha **rinn**).

6.1 Fad

Cuirimid tacar na réaduimhreacha uile⁸ in iúl le \mathbb{R} .

Sainmhíniú 4. Cuirimid an **fad**⁹ idir na pointí A agus B in iúl le $|AB|$. Sainmhínímid **fad** na mírlíne $[AB]$ mar $|AB|$.

Go minic cuirimid faid na dtrí shlios de thriantán in iúl le a, b , agus c . De ghnáth maidir le triantán $\triangle ABC$ deirtear $a = |BC|$, i.e. fad an tsleasa os comhair rinn A , agus mar an gcéanna $b = |CA|$ agus $c = |AB|$.

Aicsiom 2 (Aicsiom Rialóra¹⁰). *Tá na hairíonna seo a leanas ag an bhfad idir phointí:*

⁷Is ráiteas é **aicsiom** a ghlactar leis gan chruthúnas, mar bhonn le hargóint. Is ráiteas é **teoirim** a fhaightear ó na haicsiomaí trí argóint loighciúil.

⁸Téarma neamshainithe

⁹Téarma neamshainithe

¹⁰ Ba chóir do mhúinteoirí a bhfuil taithí acu ar phlé traidisiúnta a leanann Euclid go dlúth a thabhairt faoi deara go ráthaíonn an t-aicsiom seo (agus an tAicsiom Uillinntomhais níos déanaí) go bhfuil pointí éagsúla (agus línte) ann gan dul i muinín postaláidí faoi thógálacha a bhaineann úsáid as imeall díreach agus compás. Is aicsiomaí cumhachtacha iad.

1. ní bhíonn an fad $|AB|$ diúltach riamh;
2. $|AB| = |BA|$;
3. má luíonn C ar AB , idir A agus B , ansin $|AB| = |AC| + |CB|$;
4. (fad a mharcáil) má thugtar ga ar bith ó A , agus réaduimhir ar bith $k \geq 0$, is ann do phointe uathúil B ar an nga atá ag fad k ó A .

Sainmhíniú 5. Is é **lárphointe** na mírlíne $[AB]$ ná an pointe M den mhírlíne le ¹¹

$$|AM| = |MB| = \frac{|AB|}{2}.$$

6.2 Uillinneacha

Sainmhíniú 6. Tá fothacar den phlána **dronnach** má chuimsíonn sé an mhírlíne iomlán a nascann aon dá phointe dá chuid.

Mar shampla, tá taobh amháin de líne ar bith ina thacar dronnach, agus is tacair dhronnacha iad triantáin.

Ní dhéanaimid an téarma uillinn a shainmhíniú go foirmiúil. Deirimid ina ionad sin: Tá rudaí ar a thugtar **uillinneacha**. Baineann na nithe seo a leanas le gach uillinn:

1. pointe uathúil A , ar a dtugtar a **rinn**;
2. dhá gha $[AB]$ agus $[AC]$, an dá cheann ag tosú ag an rinn, agus ar a dtugtar **sleasa** na huillinne;
3. píosa den phlána ar a dtugtar an **taobh istigh** den uillinn.

Is uillinn nialasach, gnáthuillinn, uillinn dhíreach, uillinn athfhillteach nó uillinn iomlán í uillinn. Mura sonraítear a mhalairt, is féidir glacadh leis gur gnáthuillinn í uillinn ar bith a bhíonn i dtrácht againn.

Sainmhíniú 7. Is **uillinn nialasach** í uillinn má chomhthiteann na sleasa lena chéile agus más tacar folamh an taobh istigh di.

Sainmhíniú 8. Is **gnáthuillinn** í uillinn mura bhfuil na sleasa ar líne amháin, agus más tacar dronnach é an taobh istigh di.

¹¹D'fhéadfadh mic léinn tabhairt faoi deara go bhfuil an dara cothroime intuigthe ón gcéad cheann.

Sainmhíniú 9. Is **uillinn dhíreach** í uillinn más dhá leath de líne amháin iad na sleasa, agus más taobh amháin den líne sin an taobh istigh di.

Sainmhíniú 10. Is **uillinn athfhillteach** í uillinn mura bhfuil na sleasa ar líne amháin, agus murar tacar dronnach an taobh istigh di.

Sainmhíniú 11. Is **uillinn iomlán** í uillinn má chomhthiteann na sleasa lena chéile agus más é an chuid eile den phlána an taobh istigh di.

Sainmhíniú 12. Abraimis gur trí phointe neamh-chomhlíneacha iad A , B , agus C . Cuirimid an (gnáth) uillinn le sleasa $[AB]$ agus $[AC]$ in iúl trí $\angle BAC$ (agus freisin trí $\angle CAB$). Bainfimid leas as an nodaireacht $\angle BAC$ chomh maith chun tagairt d'uillinneacha díreacha, nuair atá A , B , C comhlíneach, agus nuair a luíonn A idir B agus C (d'fhéadfadh ceachtar taobh a bheith ina thaobh istigh den uillinn seo).

Uaireanta, is mian linn tagairt d'uillinn gan phointí a ainmniú, agus bainimid leas sa chás seo as litreacha Gréigise sa chás íochtair, α, β, γ , etc.

6.3 Céimeanna

Nodaireacht 2. Cuirimid líon na **gcéimeanna** in uillinn $\angle BAC$ nó α in iúl leis an tsiombail $|\angle BAC|$, nó $|\angle \alpha|$, de réir mar a bheidh.

Aicsiom 3 (Aicsiom Uillinntomhais). *Bíonn líon na gcéimeanna in uillinn (tomhas céime mar a thugtar air chomh maith) i gcónaí curtha in iúl le huimhir idir 0° agus 360° . Bíonn líon na gcéimeanna i ngnáthuillinn níos lú ná 180° . Tá na hairíonna a leanas aici:*

1. Tá 180° ag uillinn dhíreach.
2. Maidir le ga $[AB]$, agus uimhir d idir 0 agus 180 , tá díreach ga amháin ó A ar gach taobh den líne AB a dhéanann (gnáth) uillinn leis an nga $[AB]$ a bhfuil d céimeanna aici.
3. Má tá D ina phointe laistigh d'uillinn $\angle BAC$, ansin

$$|\angle BAC| = |\angle BAD| + |\angle DAC|.$$

Déantar 0° a shannadh d'uillinneacha nialasacha, 360° d'uillinneacha iomlána, agus bíonn níos mó ná 180° ag uillinneacha athfhillteacha. Le bheith níos cruinne, más pointí neamh-chomhlíneacha iad A , B , agus C , bíonn an uillinn athfhillteach “lasmuigh” den uillinn $\angle BAC$ cothrom le $360^\circ - |\angle BAC|$ i gcéimeanna.

Sainmhíniú 13. Is é an ga $[AD$ **déroinnteoir** na huillinne $\angle BAC$ má tá

$$|\angle BAD| = |\angle DAC| = \frac{|\angle BAC|}{2}.$$

Deirimid gur 'uillinn 45° ' (mar shampla) í uillinn, má tá 45 céim inti.

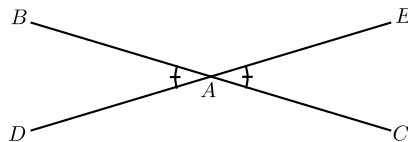
Sainmhíniú 14. Is **dronuillinn** í uillinn ina bhfuil díreach 90° .

Sainmhíniú 15. Tá uillinn **géar** má tá sí níos lú ná 90° , agus **maol** má tá sí níos nó ná 90° .

Sainmhíniú 16. Más uillinn dhíreach í $\angle BAC$, agus D lasmuigh den líne BC , ansin tugtar **uillinneacha forlíontacha** ar $\angle BAD$ agus $\angle DAC$. Is é 180° a suim.

Sainmhíniú 17. Nuair a thrasnaíonn dhá líne AB agus AC ag pointe A , bíonn siad **ingearach** más dronuillinn í $\angle BAC$.

Sainmhíniú 18. Bíodh A ina luí idir B agus C ar an líne BC , agus idir D agus E chomh maith ar an líne DE . Tugtar rinnuillinneacha urchomhaireacha ansin ar $\angle BAD$ agus $\angle CAE$.



Fíor 1.

Teoirim 1 (Rinnuillinneacha Urchomhaireacha).

Tá rinnuillinneacha urchomhaireacha ar chomhthomhas.

Cruthúnas. Féach Fíor 1. Is é an cur chuige ná na huillinneacha forlíontacha céanna a shuimiú leo araon, ag tabhairt 180° . Go sonrach,

$$\begin{aligned} |\angle BAD| + |\angle BAE| &= 180^\circ, \\ |\angle CAE| + |\angle BAE| &= 180^\circ, \end{aligned}$$

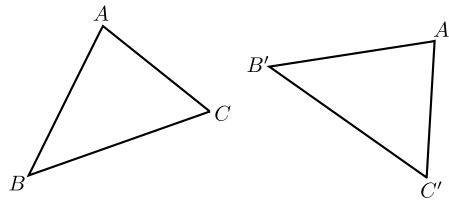
ionas go dtugann dealú:

$$\begin{aligned} |\angle BAD| - |\angle CAE| &= 0^\circ, \\ |\angle BAD| &= |\angle CAE|. \end{aligned}$$

□

6.4 Triantáin Iomchuí

Sainmhíniú 19. Bíodh A, B, C agus A', B', C' ina dtriaraigh de pointí neamh-chomhlíneacha. Deirimid go bhfuil na triantáin ΔABC agus $\Delta A'B'C'$ **iomchuí** má tá na sleasa agus na huillinneacha go léir de cheann amháin cothrom leis na sleasa agus na huillinneacha comhfhreagracha den cheann eile, i.e. $|AB| = |A'B'|$, $|BC| = |B'C'|$, $|CA| = |C'A'|$, $|\angle ABC| = |\angle A'B'C'|$, $|\angle BCA| = |\angle B'C'A'|$, agus $|\angle CAB| = |\angle C'A'B'|$. Féach Fíor 2.



Fíor 2.

Nodaireacht 3. Go hiondúil, déanaimid ainmneacha na n-uillinneacha i dtriantán a ghiorrú, trí iad a lipéadú le hainmneacha na reanna. Mar shampla, scríobhaimid $\angle A$ do $\angle CAB$.

Aicsiom 4 (SUS+USU+SSS¹²).

Má tá (1) $|AB| = |A'B'|$, $|AC| = |A'C'|$ agus $|\angle A| = |\angle A'|$,

nó

(2) $|BC| = |B'C'|$, $|\angle B| = |\angle B'|$, agus $|\angle C| = |\angle C'|$,

nó

(3) $|AB| = |A'B'|$, $|BC| = |B'C'|$, agus $|CA| = |C'A'|$

ansin tá na triantáin ΔABC agus $\Delta A'B'C'$ iomchuí.

Sainmhíniú 20. Bíonn triantán **dronuilleogach** más dronuillinn í ceann d'uillinneacha an triantáin. Mar sin is é 90° suim an dá uillinn eile, faoi Theoirim 4, agus is géaruillinneacha an dá uillinn dá réir. **Taobhagán** a thugtar ar an slios os comhair na dronuillinne.

Sainmhíniú 21. Deirtear go bhfuil triantán **comhchosach** má tá dhá thaobh comhionann¹³. Tá sé **comhshleasach** má tá na trí thaobh comhionann. Tá sé **scailéanach** mura bhfuil aon dá thaobh comhionann.

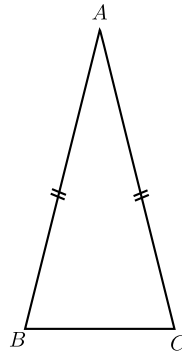
¹²Bheadh sé indéanta na teoirimí ar fad a chruthú ag baint leasa as aicsiom níos laige (SUS amháin). Déanaimid an leagan níos treise seo a úsáid leis an gcúrsa a ghiorrú.

¹³Is fearr an téarma simplí “cothrom” a úsáid ná “ar comhfhad”

Teoirim 2 (Triantáin Chomhchosacha).

(1) I dtriantán comhchosach tá na huillinneacha os comhair na sleasa cothroma cothrom.

(2) Go contrártha, má tá dhá uillinn cothrom, is triantán comhchosach é.



Fíor 3.

Cruthúnas. (1) Abraimis go bhfuil $AB = AC$ sa triantán $\triangle ABC$ (mar atá i bhFíor 3). Ansin tá

$\triangle ABC$ iomchuí do $\triangle ACB$ [SUS]

$\therefore \angle B = \angle C$.

(2) Abraimis anois go bhfuil $\angle B = \angle C$. Ansin tá

$\triangle ABC$ iomchuí do $\triangle ACB$ [USU]

$\therefore |AB| = |AC|$, tá $\triangle ABC$ comhchosach. \square

Cruthúnas Ailtéarnach Inghlactha de (1). Bíodh D ina lárphointe de $[BC]$, agus úsáid SUS chun a léiriú go bhfuil na triantáin $\triangle ABD$ agus $\triangle ACD$ iomchuí dá chéile. (Tá an cruthúnas seo níos casta, ach tá sé de bhuntáiste aige go dtugann sé an fhaisnéis bhreise go bhfuil na huillinneacha $\angle ADB$ agus $\angle ADC$ cothrom, agus mar sin gur dronuillinneacha an dá cheann (ó tharla gur uillinn dhíreach a suim)). \square

6.5 Línte Comhthreomhara

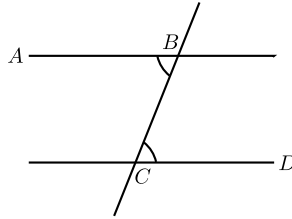
Sainmhíniú 22. Tá dhá líne l agus m **comhthreomhar** má tá siad comh-ionann, nó mura bhfuil pointe acu i bpáirt.

Nodaireacht 4. Scríobhaimid go bhfuil $l \parallel m$ do “ l comhthreomhar le m ”.

Aicsiom 5 (Aicsiom na Línte Comhthreomhara). *Má thugtar líne l ar bith agus pointe P , tá líne amháin go díreach trí P atá comhthreomhar le l .*

Sainmhíniú 23. Más línte iad l agus m , tugtar **trasnaí** de chuid m agus l ar líne n má bhuaileann sí an dá cheann.

Sainmhíniú 24. Má thugtar dhá líne AB agus CD agus trasnaí BC dá gcuid, mar atá i bhFíor 4, tugtar uillinneacha **ailtéarnacha** ar $\angle ABC$ agus $\angle BCD$.

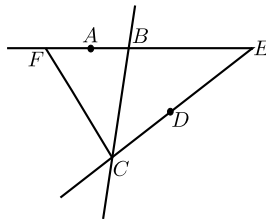


Fíor 4.

Teoirim 3 (Uillinneacha Ailtéarnacha). *Abraimis go bhfuil A agus D ar thaobhanna urchomhaireacha an líne BC.*

(1) *Má tá $|\angle ABC| = |\angle BCD|$, ansin $AB \parallel CD$. I bhfocail eile, má dhéanann trasnaí uillinneacha ailtéarnacha cothroma ar dhá líne, ansin tá na línte sin comhthreomhar.*

(2) *Go contrártha, má tá $AB \parallel CD$, ansin tá $|\angle ABC| = |\angle BCD|$. I bhfocail eile, má tá dhá líne comhthreomhar, ansin déanfaidh trasnaí ar bith uillinneacha ailtéarnacha comhionanna leo.*



Fíor 5.

Cruthúnas. (1) Abraimis go bhfuil $|\angle ABC| = |\angle BCD|$. Mura mbuaileann na línte AB agus CD le chéile, tá siad comhthreomhar, de réir an tsainmhínithe, agus tá linn dá réir. Murab amhlaidh, buaileann siad ag pointe

éigin, abair E . Abraimis go bhfuil E ar an taobh céanna de BC le D ¹⁴. Tóg F ar EB , ar an taobh céanna de BC le A , agus $|BF| = |CE|$ (féach Fíor 5).

[Aicsiom Rialóra]

Ansin tá $\triangle BCE$ iomchuí do $\triangle CBF$.

[SUS]

Mar sin

$$|\angle BCF| = |\angle CBE| = 180^\circ - |\angle ABC| = 180^\circ - |\angle BCD|,$$

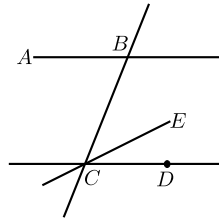
ionas go luíonn F ar DC .

[Aicsiom Rialóra]

Mar sin téann AB agus CD araon trí E agus F , agus dá bhrí sin comhthiteann siad.

[Aicsiom 1]

Dá bhrí sin tá AB agus CD comhthreomhar.[Sainmhíniú ar chomhthreomhar]



Fíor 6.

(2) Chun an coinbhéarta a chruthú, abraimis go bhfuil $AB \parallel CD$. Píoc pointe E ar an taobh céanna de BC le D agus $|\angle BCE| = |\angle ABC|$. (Féach Fíor 6.) Faoi Chuid (1), tá líne CE comhthreomhar le AB . Faoi Aicsiom 5, níl ach líne amháin trí C comhthreomhar le AB , agus ansin tá $CE = CD$. Mar sin $|\angle BCD| = |\angle BCE| = |\angle ABC|$. \square

Teoirim 4 (Suim Uillinne 180). *Is é 180° suim na n -uillinneacha i dtriántán ar bith.*

¹⁴Sonraí níos iomláine: Tá trí chás ann:

1^o: Luíonn E ar BC . Ansin (ag úsáid Aicsiom 1) caithfidh go bhfuil $E = B = C$, agus $AB = CD$.

2^o: Luíonn E ar an taobh céanna de BC le D . Sa chás sin, tóg F ar EB , ar an taobh céanna de BC le A , agus $|BF| = |CE|$.

[Aicsiom Rialóra]

Ansin tá $\triangle BCE$ iomchuí do $\triangle CBF$.

[SUS]

Mar sin

$$|\angle BCF| = |\angle CBE| = 180^\circ - |\angle ABC| = 180^\circ - |\angle BCD|,$$

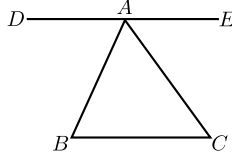
ionas go luíonn F ar DC .

[Aicsiom Uillinntomhais]

Mar sin téann AB agus CD trí E agus F , agus dá bhrí sin comhthiteann siad. [Aicsiom 1]

3^o: Luíonn E ar an taobh céanna de BC le A . Cosúil leis an gcás roimhe seo.

Mar sin, sa trí chás ar fad, $AB = CD$, tá na línte comhthreomhar dá bhrí sin.



Fíor 7.

Cruthúnas. Bíodh $\triangle ABC$ tugtha. Tóg mírlíne $[DE]$ a thrasnaíonn A , comhthreomhar le BC , le D ar an slios urchomhaireach de AB ó C , agus E ar an slios urchomhaireach de AC ó B (mar atá i bhFíor 7).

[Aicsiom na Línte Comhthreomhara]

Tá AB ansin ina thrasnaí de chuid DE agus BC , agus dá bhrí sin de réir Theoirim na nUillinneacha Ailtéarnacha,

$$|\angle ABC| = |\angle DAB|.$$

Ar an mbealach céanna, tá AC ina thrasnaí de DE agus BC , agus mar sin

$$|\angle ACB| = |\angle CAE|.$$

Mar sin, ag úsáid an Aicsiom Uillinntomhais chun na huillinneacha a shuimiú,

$$\begin{aligned} & |\angle ABC| + |\angle ACB| + |\angle BAC| \\ = & |\angle DAB| + |\angle CAE| + |\angle BAC| \\ = & |\angle DAE| = 180^\circ, \end{aligned}$$

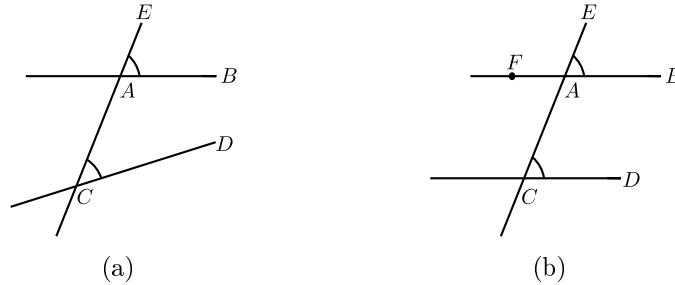
ó tharla gur uillinn dhíreach í $\angle DAE$. □

Sainmhíniú 25. Má thugtar dhá líne AB agus CD , agus trasnaí AE dá gcuid, mar atá i bhFíor 8(a), tugtar uillinneacha **comhfhreagracha** ar na huillinneacha $\angle EAB$ agus $\angle ACD$ ¹⁵.

Teoirim 5 (Uillinneacha Comhfhreagracha). *Tá dhá líne comhthreomhar má tá na huillinneacha comhfhreagracha cothrom, maidir le trasnaí ar bith, agus sa chás sin amháin.*

Cruthúnas. Féach Fíor 8(b). Abraimis ar dtús go bhfuil na huillinneacha comhfhreagracha $\angle EAB$ agus $\angle ACD$ cothrom. Bíodh F ina pointe ar AB sa chaoi go bhfuil F agus B ar thaobhanna urchomhaireacha AE . Ansin tá $|\angle EAB| = |\angle FAC|$ [Rinnuillinneacha urchomhaireacha]

¹⁵maidir leis an dá líne agus leis an trasnaí tugtha.



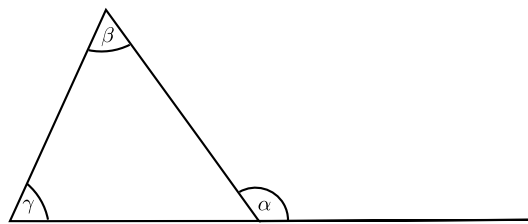
Fíor 8.

againn. Mar sin tá na huillinneacha ailtéarnacha $\angle FAC$ agus $\angle ACD$ cothrom agus dá bhrí sin tá na línte $FA = AB$ agus CD comhthreomhar.

Maidir leis an gcoinbhéarta, abrainis go bhfuil na línte AB agus CD comhthreomhar. Ansin tá na huillinneacha ailtéarnacha $\angle FAC$ agus $\angle ACD$ cothrom. Ós rud é go bhfuil

$|\angle EAB| = |\angle FAC|$ [Rinnuillinneacha urchomhaireacha]
 tá na huillinneacha comhfhreagracha $\angle EAB$ agus $\angle ACD$ cothrom. \square

Sainmhíniú 26. I bhFíor 9, tugtar **uillinn sheachtrach** den triantán ar an uillinn α , agus tugtar **uillinneacha inmheánacha urchomhaireacha** (comhfhreagracha) ar na huillinneacha β agus γ .¹⁶



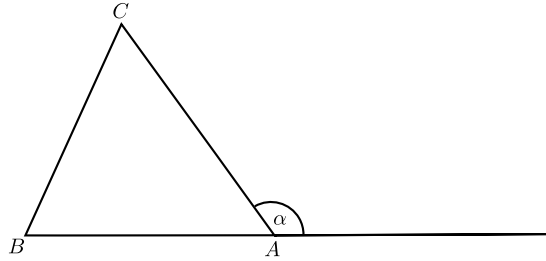
Fíor 9.

Teoirim 6 (Uillinn Sheachtrach). *Tá gach uillinn sheachtrach de thriantán cothrom le suim na n-uillinneacha inmheánacha urchomhaireacha.*

Cruthúnas. Féach Fíor 10. Sa triantán $\triangle ABC$ bíodh α ina uillinn sheachtrach ag A . Ansin tá

$|\alpha| + |\angle A| = 180^\circ$ [Uillinneacha forlíontacha]

¹⁶Déantar an frása **cianuillinneacha inmheánacha** a úsáid uaireanta seachas **uillinneacha inmheánacha urchomhaireacha**.



Fíor 10.

agus

$$|\angle B| + |\angle C| + |\angle A| = 180^\circ.$$

[Suim uillinne 180°]

Má dhéantar an dá chothromóid a dhealú, faightear $|\alpha| = |\angle B| + |\angle C|$. \square

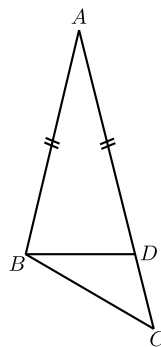
Teoirim 7.

(1) In $\triangle ABC$, abraimis go bhfuil $|AC| > |AB|$. Ansin $|\angle ABC| > |\angle ACB|$. I bhfocail eile, tá an uillinn os comhair an taoibh is mó de dhá thaobh níos mó ná an uillinn os comhair an taoibh is lú.

(2) Go contrártha, má tá $|\angle ABC| > |\angle ACB|$, ansin tá $|AC| > |AB|$. I bhfocail eile, tá an slios os comhair na huillinne is mó de dhá uillinn níos mó ná an slios os comhair na huillinne is lú.

Cruthúnas.

(1) Abraimis go bhfuil $|AC| > |AB|$. Ansin tóg an pointe D ar an mírlíne $[AC]$ le $|AD| = |AB|$. [Aicsiom Rialóra]



Fíor 11.

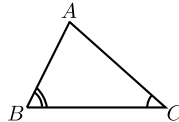
Féach Fíor 11. Ansin tá $\triangle ABD$ comhchosach, agus

$$\begin{aligned} |\angle ACB| &< |\angle ADB| && \text{[Uillinn Sheachtrach]} \\ &= |\angle ABD| && \text{[Triantán Comhchosach]} \\ &< |\angle ABC|. \end{aligned}$$

Mar sin $|\angle ACB| < |\angle ABC|$, mar atá ag teastáil.

(2)(Seo Cruthúnas trí Chontrárthacht!)

Abraimis go bhfuil $|\angle ABC| > |\angle ACB|$. Féach Fíor 12.

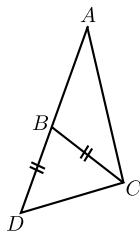


Fíor 12.

Dá bhféadfadh sé tarlú go bhfuil $|AC| \leq |AB|$, ansin is fíor é seo Cás 1^o: $|AC| = |AB|$, rud a fhágann go bhfuil $\triangle ABC$ comhchosach, agus ansin $|\angle ABC| = |\angle ACB|$, rud a bhréagnaíonn ár dtuairim, nó é seo Cás 2^o: $|AC| < |AB|$, rud a fhágann go ndeir Cuid (1) linn go bhfuil $|\angle ABC| < |\angle ACB|$, a bhréagnaíonn ár dtuairim chomh maith. Mar sin ní féidir leis tarlú, agus bainimid an tátal as go bhfuil $|AC| > |AB|$. \square

Teoirim 8 (Éagothroime Thriantáin).

Tá dhá thaobh de thriantán le chéile níos mó ná an tríú ceann.



Fíor 13.

Cruthúnas. Bíodh $\triangle ABC$ ina thriantán ar bith. Roghnaímid an pointe D ar AB i dtreo is go luíonn B in $[AD]$ agus $|BD| = |BC|$ (mar atá i bhFíor 13). Go háirithe

$$|AD| = |AB| + |BD| = |AB| + |BC|.$$

Ó tharla go luíonn B san uillinn $\angle ACD$ ¹⁷ tá

$$|\angle BCD| < |\angle ACD|$$

¹⁷Luíonn B ar mhírlíne a bhfuil a foircinn ar shleasa $\angle ACD$. Ó tharla go bhfuil an uillinn $< 180^\circ$, tá sé dronnach laistigh.

againn. Toisc $|BD| = |BC|$ agus an Teoirim faoi Thriantáin Chomhchosacha tá $|\angle BCD| = |\angle BDC|$ againn, agus mar sin $|\angle ADC| = |\angle BDC| < |\angle ACD|$. De réir na teoirime roimhe seo arna chur i bhfeidhm ar $\triangle ADC$ tá

$$|AC| < |AD| = |AB| + |BC|$$

againn. □

6.6 Línte Ingearacha

Tairiscint 1. ¹⁸Tá dhá líne atá ingearach leis an líne chéanna comhthreomhar lena chéile.

Cruthúnas. Seo cás speisialta de Theoirim na nUillinneacha Ailtéarnacha. □

Tairiscint 2. Tá líne uathúil atá ingearach le líne tugtha, agus a thrasnaíonn pointe tugtha. Baineann sé seo le pointe atá ar, nó nach bhfuil ar, an líne.

Sainmhíniú 27. Déroinnteoir ingearach an mhírlíne $[AB]$ í an líne tríd an lárphointe de $[AB]$, atá ingearach le AB .

6.7 Ceathairshleasáin agus Comhthreomharáin

Sainmhíniú 28. Maidir le slabhra dúnta de mhírlínte, atá ceangailte foirceann le foirceann, nach dtrasnaíonn in aon áit, agus nach ndéanann uillinn dhíreach ag foirceann ar bith, déanann sé píosa den phlána a iniamh ar a thugtar **polagán**. Tugtar **sleasa** nó ciumhaiseanna an pholagáin ar na mírlínte, agus tugtar **reanna** ar na foircinn ina mbuaileann siad le chéile. Tugtar **sleasa cóngaracha** ar shleasa a bhuaileann le chéile, agus tugtar **reanna cóngaracha** ar fhoircinn taoibh. Tugtar **uillinneacha cóngaracha** ar uillinneacha ag reanna cóngaracha.

Sainmhíniú 29. Is polagán é **ceathairshleasán** le ceithre rinn. Tugtar **sleasa urchomhaireacha** ar dhá shleas de cheathairshleasán nach bhfuil cóngarach dá chéile. Ar an mbealach céanna, tugtar **uillinneacha urchomhaireacha** ar dhá uillinn de cheathairshleasán nach bhfuil cóngarach dá chéile.

¹⁸Sa doiciméad seo, is í is tairiscint ann ná ráiteas úsáideach nó suimiúil a fhéadfaí a chruthú ag an bpointe seo, ach nach bhfuil a cruthúnas ordaithe mar chuid riachtanach den chlár. Tá saoirse ag múinteoirí déileáil leo mar is cuí leo féin. Mar shampla, d'fhéadfaí gan ach iad a lua, nó d'fhéadfaí iad a phlé gan chruthúnas foirmiúil, nó iad a úsáid chun cleachtadh réasúnaíochta a thabhairt do mhic léinn Ardteistiméireachta Ardleibhéil. Tá sé innhianaithe go mbeidís luaite ar a laghad.

Sainmhíniú 30. Is ceathairshleasán é **dronuilleog** ina bhfuil dronuillinn-eacha ag na ceithre rinn ar fad.

Sainmhíniú 31. Is ceathairshleasán é **rombas** ina bhfuil na ceithre thaobh ar fad cothrom.

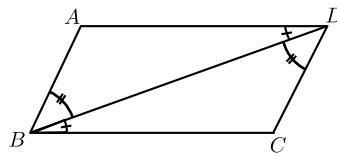
Sainmhíniú 32. Is rombas dronuilleogach é **cearnóg**.

Sainmhíniú 33. Tá polagán **comhshleasach** má tá na sleasa ar fad cothrom, agus **rialta** má tá na sleasa agus na huillinneacha ar fad cothrom.

Sainmhíniú 34. Is ceathairshleasán é **comhthreomharán** ina bhfuil an dá péire de thaobhanna urchomhaireacha comhthreomhar lena chéile.

Tairiscint 3. Is comhthreomharán gach dronuilleog.

Teoirim 9. I gcomhthreomharán, tá na sleasa urchomhaireacha cothrom, agus na huillinneacha urchomhaireacha cothrom.



Fíor 14.

Cruthúnas. Féach Fíor 14. Leide: Bain úsáid as Teoirim na nUillinneacha Ailtéarnacha, agus ansin USU chun a léiriú go roinneann trasnán an comhthreomharán in dhá thriantán iomchuí. Fágann sé seo go bhfuil na sleasa urchomhaireacha agus (péire amháin d') uillinneacha urchomhaireacha cothrom. Chun a bheith níos cruinne, bíodh $ABCD$ ina chomhthreomharán tugtha, $AB \parallel CD$ agus $AD \parallel BC$. Ansin tá

$$\begin{array}{ll} |\angle ABD| = |\angle BDC| & [\text{Teoirim na nUillinneacha Ailtéarnacha}] \\ |\angle ADB| = |\angle DBC| & [\text{Teoirim na nUillinneacha Ailtéarnacha}] \\ \Delta DAB \text{ iomchuí do } \Delta BCD. & [\text{USU}] \end{array}$$

$$\therefore |AB| = |CD|, |AD| = |CB|, \text{ agus } |\angle DAB| = |\angle BCD|.$$

□

Nóta 1. Tarlaíonn sé uaireanta gur bréagach an coinbhéarta de ráiteas fíor. Mar shampla, tá sé fíor, más rombas é ceathairshleasán, go mbeidh

na trasnáin ingearach lena chéile. Ach níl sé fíor i gcónaí gur rombas é ceathairshleasán a mbíonn a chuid trasnán ingearach lena chéile.

Is féidir leis tarlú freisin go mbíonn coinbhéartaí bailí éagsúla ag ráiteas. Tá dhá cheann ag Teoirim 9:

Coinbhéarta 1 le Teoirim 9: *Má bhíonn na huillinneacha urchomhaireacha i gceathairshleasán dronnach ar cóimhéid, is comhthreomharán é.*

Cruthúnas. Ar dtús, baintear as Teoirim 4 gurb é 360° suim na n-uillinneacha sa cheathairshleasán. Leanann sé uaidh sin gurb é 180° suim uillinneacha cóngaracha. Tugann Teoirim 3 an toradh dúinn ansin. \square

Coinbhéarta 2 le Teoirim 9: *Má bhíonn na sleasa urchomhaireacha ar cheathairshleasán dronnach ar cóimhéid, is comhthreomharán é.*

Cruthúnas. Ag tarraingt trasnáin, agus ag úsáid SSS, feictear go bhfuil uillinneacha urchomhaireacha ar cóimhéid. \square

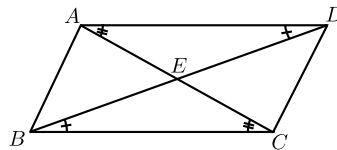
Atoradh 1. *Roinneann trasnán comhthreomharán in dhá thriantán iomchuí.*

Nóta 2. Tá an coinbhéarta bréagach: Is féidir leis tarlú go roinneann trasnán ceathairshleasán dronnach ina dhá thriantán chomhionanna, cé nach comhthreomharán é an ceathairshleasán.

Tairiscint 4. *Is comhthreomharán é ceathairshleasán ina bhfuil péire amháin de thaobhanna urchomhaireacha cothrom agus comhthreomhar.*

Tairiscint 5. *Is comhthreomharán é gach rombas.*

Teoirim 10. *Déoinneann trasnáin chomhthreomharáin a chéile.*



Fíor 15.

Cruthúnas. Féach Fíor 15. Leide: Úsáid Uillinneacha Ailtéarnacha agus USU chun iomchuibheas $\triangle ADE$ agus $\triangle CBE$ dá chéile a bhunú.

Go sonrach: Gearradh AC an líne BD in E . Ansin

$$\begin{aligned} |\angle EAD| &= |\angle ECB| \text{ agus} \\ |\angle EDA| &= |\angle EBC| && [\text{Teoirim na nUillinneacha Ailtéarnacha}] \\ |AD| &= |BC|. && [\text{Teoirim 9}] \end{aligned}$$

$\therefore \triangle ADE$ iomchuí do $\triangle CBE$.

[USU]

□

Tairiscint 6 (Coinbhéarta). *Má dhéoinneann trasnáin cheathairshleasáin a chéile, is comhthreomharán atá sa cheathairshleasán ansin.*

Cruthúnas. Úsáid SUS agus Rinnuillinneacha Urchomhaireacha chun iomchuibheas $\triangle ABE$ agus $\triangle CDE$ dá chéile a bhunú. Úsáid Uillinneacha Ailtéarnacha ansin. □

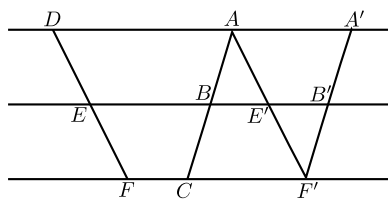
6.8 Cóimheasa agus Cosúlacht

Sainmhíniú 35. Má tá na trí uillinn de thriantán amháin cothrom, faoi seach, leis na trí uillinn de cheann eile, deirtear ansin go bhfuil an dá thriantán **comhchosúil**.

Nóta 3. Is léir go bhfuil dhá thriantán dhronuilleacha cosúil lena chéile má tá uillinn chomónta acu seachas an dronuilleann.

(Is é 180° suim na n-uillinneacha, agus mar sin caithfidh na tríú huillinneacha teacht lena chéile chomh maith.)

Teoirim 11. *Má ghearrann trí líne chomhthreomhara mírlínte cothroma ar thrasnáí éigin, ansin gearrfaidh siad mírlínte cothroma ar thrasnáí ar bith eile.*



Fíor 16.

Cruthúnas. Úsáidtear sleasa urchomhaireacha de chomhthreomharán, UUS, Aicsiom na Línte Comhthreomhara.

Chun a bheith níos cruinne, abraimis go bhfuil $AD \parallel BE \parallel CF$ agus $|AB| = |BC|$. Is mian linn a léiriú go bhfuil $|DE| = |EF|$.

Tarraing $AE' \parallel DE$, ag gearradh EB ag E' agus CF ag F' .
Tarraing $F'B' \parallel AB$, ag gearradh EB ag B' . Féach Fíor 16.

Ansin tá

$$\begin{aligned}
 |B'F'| &= |BC| && \text{[Theorem 9]} \\
 &= |AB|. && \text{[de réir Toimhde]} \\
 |\angle BAE'| &= |\angle E'F'B'|. && \text{[Teoirim na nUillinneacha Ailtéarnacha]} \\
 |\angle AE'B| &= |\angle F'E'B'|. && \text{[Rinnuillinneacha Urchomhaireacha]} \\
 \therefore \Delta ABE' &\text{ iomchuí do } \Delta F'E'B'. && \text{[USU]} \\
 \therefore |AE'| &= |F'E'|.
 \end{aligned}$$

Ach

$$\begin{aligned}
 |AE'| &= |DE| \text{ agus } |F'E'| = |FE|. && \text{[Teoirim 9]} \\
 \therefore |DE| &= |EF|. && \square
 \end{aligned}$$

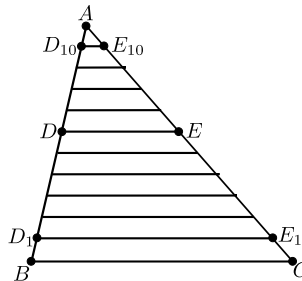
Sainmhíniú 36. Bíodh s agus t ina réaduimhreacha dearfacha. Deirimid go ndéanann pointe C mírlíne $[AB]$ a roinnt sa chóimheas $s : t$ má luíonn C ar an líne AB , agus má tá sí idir A agus B , agus

$$\frac{|AC|}{|CB|} = \frac{s}{t}.$$

Deirimid go ndéanann líne l mírlíne $[AB]$ a ghearradh sa chóimheas $s : t$ má thrasnaíonn sí AB ag pointe C a roinneann $[AB]$ sa chóimheas $s : t$.

Nóta 4. Leanann sé ón Aicsiom Rialóra má thugtar dhá pointe, A agus B , agus cóimheas $s : t$, go bhfuil pointe amháin go cruinn a roinneann an mhírlíne $[AB]$ sa chóimheas cruinn céanna.

Teoirim 12. Bíodh ΔABC ina thriantán. Má tá líne l comhthreomhar le BC agus má ghearrann sí $[AB]$ sa chóimheas $s : t$, ansin gearrann sí $[AC]$ sa chóimheas céanna.



Fíor 17.

Cruthúnas. Ní dhéanaimid ach amháin an cás in-chomhthomhaiste a chruthú.

Gearradh l an mhírlíne $[AB]$ ag D sa chóimheas $m : n$ nuair is uimhreacha nádúrtha iad m, n . Mar sin tá pointí ann (Fíor 17)

$$D_0 = B, D_1, D_2, \dots, D_{m-1}, D_m = D, D_{m+1}, \dots, D_{m+n-1}, D_{m+n} = A,$$

spásáilte go cothrom ar feadh $[BA]$, i.e. na mírlínte

$$[D_0, D_1], [D_1, D_2], \dots [D_i, D_{i+1}], \dots [D_{m+n-1}, D_{m+n}]$$

a bhfuil fad comhionann acu.

Tarraing línte D_1E_1, D_2E_2, \dots comhthreomhar le BC agus bíodh E_1, E_2, \dots ar $[AC]$.

Tá an fad céanna ag na mírlínte ar fad

$$[CE_1], [E_1E_2], [E_2E_3], \dots, [E_{m+n-1}A]$$

mar sin,

[Teoirim 11]

agus $E_m = E$, an pointe ina ngearrann l an mhírlíne $[AC]$.

[Aicsiom na Línte Comhthreomhara]

Mar sin roinneann E an mhírlíne $[CA]$ sa chóimheas $m : n$. □

Tairiscint 7. Má tá dhá thriantán ΔABC agus $\Delta A'B'C'$ le

$$|\angle A| = |\angle A'| \text{ acu, agus } \frac{|A'B'|}{|AB|} = \frac{|A'C'|}{|AC|},$$

ansin tá siad comhchosúil.

Cruthúnas. Abraimis go bhfuil $|A'B'| \leq |AB|$. Má tá siad cothrom, bain úsáid as SUS. Mura bhfuil, tabhair faoi deara ansin go bhfuil $|A'B'| < |AB|$ agus $|A'C'| < |AC|$. Píoc B'' ar $[AB]$ agus C'' ar $[AC]$ le $|A'B'| = |AB''|$ agus $|A'C'| = |AC''|$. [Aicsiom Rialóra] Ansin trí SUS, tá $\Delta A'B'C'$ iomchúí do $\Delta AB''C''$.

Tarraing $[B''D]$ comhthreomhar le BC [Aicsiom na Línte Comhthreomhara], agus gearradh sé AC ag D . Deireann an teoirim dheiridh agus an hipitéis linn anois go ndéanann D agus C'' an mhírlíne $[AC]$ a roinnt sa chóimheas céanna, agus mar sin $D = C''$.

Mar sin

$$\begin{aligned} |\angle B| &= |\angle AB''C''| && \text{[Uillinneacha Comhfhreagracha]} \\ &= |\angle B'|, \end{aligned}$$

agus

$$|\angle C| = |\angle AC''B''| = |\angle C'|,$$

ansin tá ΔABC cosúil le $\Delta A'B'C'$.

[Sainmhíniú comhchosúlachta] □

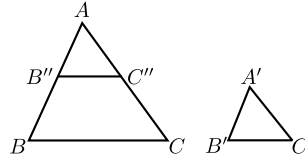
Nóta 5. Tá an **Coinbhéarta le Teoirim 12** fíor:

Bíodh $\triangle ABC$ ina thriantán. Má ghearrann an líne l na sleasa AB agus AC sa chóimheas céanna, tá sí comhthreomhar le BC .

Cruthúnas. Tá an cruthúnas againn láithreach ó Thairiscint 7 agus ó Theoirim 5. \square

Teoirim 13. Má tá an dá thriantán $\triangle ABC$ agus $\triangle A'B'C'$ comhchosúil, ansin tá a sleasa comhréireach, in ord:

$$\frac{|AB|}{|A'B'|} = \frac{|BC|}{|B'C'|} = \frac{|CA|}{|C'A'|}.$$



Fíor 18.

Cruthúnas. Is féidir glacadh leis go bhfuil $|A'B'| \leq |AB|$. Roghnaigh B'' ar $[AB]$ le $|AB''| = |A'B'|$, agus C'' ar $[AC]$ le $|AC''| = |A'C'|$. Féach Fíor 18. Ansin tá

$$\begin{array}{llll} \triangle AB''C'' & \text{iomchúí do} & \triangle A'B'C' & \text{[SUS]} \\ \therefore \angle AB''C'' & = & \angle ABC & \\ \therefore B''C'' & \parallel & BC & \text{[Uillinneacha Comhfhreagracha]} \\ \therefore \frac{|A'B'|}{|A'C'|} & = & \frac{|AB''|}{|AC''|} & \text{[Rogha } B'', C''] \\ & = & \frac{|AB|}{|AC|} & \text{[Teoirim 12]} \\ \frac{|AC|}{|A'C'|} & = & \frac{|AB|}{|A'B'|} & \text{[Athchóirigh]} \end{array}$$

Sa chaoi chéanna, tá $\frac{|BC|}{|B'C'|} = \frac{|AB|}{|A'B'|}$ \square

Tairiscint 8 (Coinbhéarta). Má tá

$$\frac{|AB|}{|A'B'|} = \frac{|BC|}{|B'C'|} = \frac{|CA|}{|C'A'|},$$

ansin tá an dá thriantán $\triangle ABC$ agus $\triangle A'B'C'$ comhchosúil lena chéile.

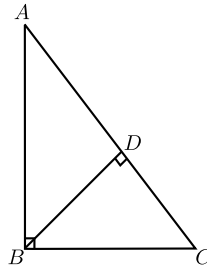
Cruthúnas. Déan tagairt d'Fhigiúr 18. Má tá $|A'B'| = |AB|$, leanann sé ó SSS go bhfuil an dá thriantán comhionann agus, dá bhrí sin, is triantáin chomhchosúla iad. Ar mhodh eile, ag glacadh leis go bhfuil $|A'B'| < |AB|$, roghnaigh B'' ar AB agus C'' ar AC le $|AB''| = |A'B'|$ agus $|AC''| = |A'C'|$. Ansin, trí Thairiscint 7, is triantáin chomhchosúla iad $\Delta AB''C''$ agus ΔABC , mar sin

$$|B''C''| = |AB''| \cdot \frac{|BC|}{|AB|} = |A'B'| \cdot \frac{|BC|}{|AB|} = |B'C'|.$$

Mar sin, trí SSS, tá $\Delta A'B'C'$ comhionann le $\Delta A''B''C''$, and mar sin tá sé comhchosúil le ΔABC . \square

6.9 Píotagarás

Teoirim 14 (Píotagarás). *I dtriantán dronuilleach tá an chearnóg ar an taobhagán cothrom le swim na gcearnóg ar an dá thaobh eile.*



Fíor 19.

Cruthúnas. Bíodh dronuillinn ag an ΔABC ag B . Tarraing an t-ingear BD ón rinn B go dtí an taobhagán AC (léirithe i bhFíor 19).

Tá an uillinn chéanna ag na triantáin dhronuilleacha ΔABC agus ΔADB ag A . \therefore tá ΔABC comhchosúil le ΔADB .

$$\therefore \frac{|AC|}{|AB|} = \frac{|AB|}{|AD|},$$

mar sin

$$|AB|^2 = |AC| \cdot |AD|.$$

Sa chaoi chéanna tá ΔABC comhchosúil le ΔBDC .

$$\therefore \frac{|AC|}{|BC|} = \frac{|BC|}{|DC|},$$

mar sin

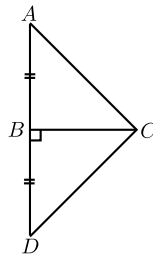
$$|BC|^2 = |AC| \cdot |DC|.$$

Mar sin

$$\begin{aligned} |AB|^2 + |BC|^2 &= |AC| \cdot |AD| + |AC| \cdot |DC| \\ &= |AC| (|AD| + |DC|) \\ &= |AC| \cdot |AC| \\ &= |AC|^2. \end{aligned}$$

□

Teoirim 15 (Coinbhéarta Phíotagaráis). *Má tá an chearnóg ar shlios amháin de thriantán cothrom le suim na gcearnóg ar an dá shlios eile, is dronuilleann an uillinn os comhair an chéad taoibh.*



Fíor 20.

Cruthúnas. (Leide: Tarraing triantán nua ar an slios thall de $[BC]$, agus úsáid Píotagarás agus SSS chun a thaispeáint go bhfuil sé iomchuí don cheann bunaidh.)

Go sonrach: Is mian linn a thaispeáint go bhfuil $|\angle ABC| = 90^\circ$. Tarraing $BD \perp BC$ agus bíodh $|BD| = |AB|$ (faoi mar a léirítear i bhFíor 20).

Ansin tá

$$\begin{aligned} |DC| &= \sqrt{|DC|^2} \\ &= \sqrt{|BD|^2 + |BC|^2} && \text{[Píotagarás]} \\ &= \sqrt{|AB|^2 + |BC|^2} && [|AB| = |BD|] \\ &= \sqrt{|AC|^2} && \text{[Hipitéis]} \\ &= |AC|. \end{aligned}$$

\therefore tá $\triangle ABC$ iomchuí do $\triangle DBC$.

[SSS]

$\therefore |\angle ABC| = |\angle DBC| = 90^\circ$.

□

Tairiscint 9 (DTS). *I gcás dhá thriantán dronuilleacha, más comhionann fad a dtaobhagán agus fad taoibh eile is triantáin iomchuí iad.*

Cruthúnas. Abraimis gur triantáin dhronuilleacha iad $\triangle ABC$ agus $\triangle A'B'C'$ agus go bhfuil dronuillinneacha acu ag B agus B' , agus go bhfuil taobhagáin acu ar chomhfhad, $|AC| = |A'C'|$, agus go bhfuil $|AB| = |A'B'|$. Ansin má úsáidimid Teoirim Phíotagaráis faighimid $|BC| = |B'C'|$, agus mar sin, de réir SSS, is triantáin iomchuí iad. \square

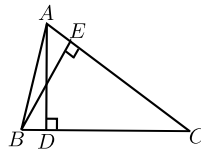
Tairiscint 10. *Tá gach pointe ar an déroinnteoir ingearach de mhírlíne $[AB]$ ar chomhfhad ó na foircinn.*

Tairiscint 11. *Tá na hingir ó phointe ar dhéroinnteoir uillinne chuig sleasa na huillinne ar chomhfhad.*

6.10 Achar

Sainmhíniú 37. Má roghnaítear slios amháin de thriantán mar bhonn, is í an rinn urchomhaireach an **bhuaic** chomhfhreagrach don bhonn sin. Is í an **airde** chomhfhreagrach ná fad an ingir ón mbuaic go dtí an mbonn. **Airde** an triantáin a thugtar ar an mhírlíne ingearach seo.

Teoirim 16. *I gcás triantáin, ní bhraitheann bonn faoin airde ar an mbonn a roghnaítear.*



Fíor 21.

Cruthúnas. Bíodh AD agus BE ina n-airde (léirithe i bhFíor 21). Mar sin is triantáin dhronuilleacha iad $\triangle BCE$ agus $\triangle ACD$ a bhfuil an uillinn C , acu araon, agus mar sin tá siad comhchosúil. Mar sin

$$\frac{|AD|}{|BE|} = \frac{|AC|}{|BC|}.$$

Athchóirigh chun an toradh a fháil. \square

Sainmhíniú 38. Is é **achar** triantáin ná leath an bhoinn faoin airde.

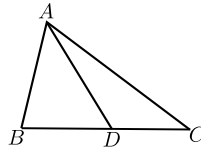
Nodaireacht 5. Cuirimid achar in iúl le “achar ΔABC ”¹⁹.

Tairiscint 12. *Bíonn an t-achar céanna ag triantáin iomchuí.*

Nóta 6. Sampla eile é seo de thairiscint a bhfuil a coinbhéarta bréagach. D’fhéadfadh sé tarlú go mbeadh an t-achar céanna ag dhá thriantán ach nach mbeidís iomchuí.

Tairiscint 13. *Má tá ΔABC roinnte ina dhá chuid ag an líne AD ó A go pointe D ar an mhírlíne $[BC]$, is féidir na hachair a shuimiú i gceart ansin:*

$$\text{achar } \Delta ABC = \text{achar } \Delta ABD + \text{achar } \Delta ADC.$$



Fíor 22.

Cruthúnas. Féach Fíor 22. Tá an airde céanna ag na trí thriantán, abraimis h , agus mar sin is éard atá ann go bunúsach ná

$$\frac{|BC| \times h}{2} = \frac{|BD| \times h}{2} + \frac{|DC| \times h}{2},$$

rud atá soiléir, toisc go bhfuil

$$|BC| = |BD| + |DC|.$$

□

Más féidir figiúr a ghearradh ina thriantáin nach forluíonn ar a chéile (is é sin le rá, ina thriantáin nach mbuaileann le chéile nó nach dtagann le chéile ach feadh imill), glactar leis mar sin gurb ionann an t-achar agus suim achair na dtriantán²⁰.

¹⁹Glactar le $|\Delta ABC|$ freisin.

²⁰Má chuireann daltaí ceisteanna ní bheidh aon débhríocht ann. Is féidir a thaispeáint i gcás an cheathairshleasáin dhronnaigh, $ABCD$, go bhfuil

$$\text{achar } \Delta ABC + \text{achar } \Delta CDA = \text{achar } \Delta ABD + \text{achar } \Delta BCD.$$

Cruthaítear an toradh sa chás ginearálta trína thaispeáint go bhfuil comh-mhionchoigeartú ann ar aon dá thriantánú faoi leith.

Má chuirtear figiúrí a bhfuil achair chomhionanna acu le figiúrí eile a bhfuil achair chomhionanna acu (nó má bhaintear díobh iad) beidh an t-achar céanna ag na figiúrí a bheidh ann dá bharr²¹.

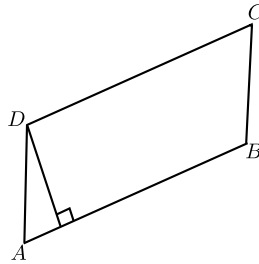
Tairiscint 14. *Is é ab achar dronuilleoige a bhfuil faid a agus b ag a sleasa.*

Cruthúnas. Gearr ina dá thriantán í le trasnán. Tá achar $\frac{1}{2}ab$ acu araon. \square

Teoirim 17. *Déoinneann trasnán comhthreomharáin an t-achar.*

Cruthúnas. De réir Atoradh 1 gearrann trasnán an comhthreomharán ina dhá thriantán iomchuí. \square

Sainmhíniú 39. Bíodh an slios AB de chomhthreomharán $ABCD$ mar bhonn (Fíor 23). Mar sin is í airde an triantáin $\triangle ABC$ **airde** an chomhthreomharáin a **chomhfhreagraíonn don bhonn sin**.



Fíor 23.

Tairiscint 15. *Is ionann an airde seo agus airde an triantáin $\triangle ABD$, agus airde na mírlíne ingearaí ó D anuas ar AB .*

Teoirim 18. *Is ionann achar comhthreomharáin agus an bonn iolraithe faoin airde.*

Cruthúnas. Abraimís gurb é $ABCD$ an comhthreomharán. Roinneann an trasnán BD é ina dhá thriantán, $\triangle ABD$ agus $\triangle CDB$. Tá siad ar comh-achar lena chéile [Teoirim 17], agus tá bonn agus an airde chomhfhreagrach i bpáirt ag an gcéad triantán agus ag an gcomhthreomharán. Mar sin is é suim achair an dá thriantán ná $2 \times \frac{1}{2} \times \text{bonn} \times \text{airde}$, rud a thugann an toradh dúinn. \square

²¹Leanann sé seo ón bhfonóta roimhe.

6.11 Ciorcail

Sainmhíniú 40. Is éard atá i **gciorcail** ná tacar de phointí atá fad ar leith (a **gha**) ó pointe seasta (a **lárphointe**). Tugtar **ga** ar gach mírlíne a nascann an lárphointe le pointe ar an gciorcail. Is éard atá i **gcorda** ná mírlíne ag nascadh dhá phointe den chiorcail. Is éard atá i **dtrastomhas** ná corda tríd an lárphointe. Bíonn gach trastomhas dhá uair níos faide ná an ga. **Trastomhas** an chiorcail a thugtar ar an uimhir seo freisin.

Déanann an dá phointe A , B ar chiorcail é a roinnt ina dhá chuid, ar a dtugtar **stuanna**. Féadfaidh tú stua a shainiú go huathúil trína fhoircinn A agus B a thabhairt, mar aon le pointe amháin eile C a luíonn air. Is éard atá i **dteascóg** chiorcail ná an chuid sin den phlána atá iniata ag stua agus ag an dá gha go dtí a fhoircinn.

Imlíne chiorcail a thugtar ar fhad an chiorcail go léir. Má dhéantar an imlíne a roinnt faoin trastomhas is ionann an toradh a fhaightear i gcás gach chiorcail. Is éard a thugtar ar an gcóimheas seo ná π .

Is éard is **leathchiorcail** ann ná stua chiorcail arb iad foircinn trastomhais na foircinn atá aige.

Roinneann gach ciorcail an plána ina dhá chuid, an taobh istigh agus an taobh amuigh. **Diosca** a thugtar ar an gcuid istigh.

Más iad B agus C an dá fhoirceann de stua chiorcail, agus más pointe eile é A nach bhfuil ar an stua, deirimid gurb í $\angle BAC$ an uillinn ag A **atá ina seasamh ar an stua**. Deirimid freisin go **seasann sé ar an gcorda** $[BC]$.

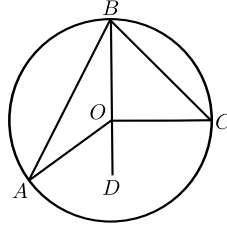
Teoirim 19. *Tá an uillinn ag lár chiorcail ag seasamh ar stua ar leith dhá oiread na huillinne ag pointe ar bith ar an gciorcail ag seasamh ar an stua céanna.*

Cruthúnas. Tá roinnt cásanna ann don léaráid. Is leor do dhaltaí staidéar a dhéanamh ar cheann amháin acu seo. Is éard atá i gceist i ngach cás ná líne a tharraingt tríd an lárphointe go dtí an pointe ar an imlíne agus leas a bhaint as Teoirim an Triantáin Chomhchosaigh, agus Aicsiom an Uillinntomhais (chun uillinneacha a shuimiú nó a dhealú de réir mar a oireann sé don chás).

Go sonrath, is mian linn a thaispeáint i gcás figiúir ar leith, Fíor 24, go bhfuil $|\angle AOC| = 2|\angle ABC|$.

Ceangail B le O agus lean ar aghaidh leis an líne go D . Ansin tá

$$\begin{aligned} |OA| &= |OB|. && \text{[Sainmhíniú ciorcail]} \\ \therefore |\angle BAO| &= |\angle ABO|. && \text{[Triantán Comhchosach]} \\ \therefore |\angle AOD| &= |\angle BAO| + |\angle ABO| && \text{[Uillinn Sheachtrach]} \\ &= 2 \cdot |\angle ABO|. \end{aligned}$$



Fíor 24.

Ar an gcaoi chéanna,

$$|\angle COD| = 2 \cdot |\angle CBO|.$$

Mar sin

$$\begin{aligned} |\angle AOC| &= |\angle AOD| + |\angle COD| \\ &= 2 \cdot |\angle ABO| + 2 \cdot |\angle CBO| \\ &= 2 \cdot |\angle ABC|. \end{aligned}$$

□

Atoradh 2. Is ionann iad na huillinneacha go léir ag pointí den chiorcal a sheasann ar an stua céanna. I siombailí, má luíonn A , A' , B agus C ar chiorcal agus má tá A agus A' araon ar an taobh céanna den líne BC , tá $\angle BAC = \angle BA'C$.

Cruthúnas. Is ionann gach ceann acu agus leath den uilinn a iompraítear ag an lárphointe. □

Nóta 7. Tá an coinbhéarta fíor, ach ní mór do dhuine a bheith cúramach faoi cén taobh den líne BC ar a bhfuil A agus A' :

Coinbhéarta le hAtoradh 2: Má tá na pointí A agus A' ar an taobh céanna den líne BC , agus má tá $|\angle BAC| = |\angle BA'C|$, tá na ceithre phointe A , A' , B , agus C ar chiorcal.

Cruthúnas. Cuir i gcás an chiorcal s trí A , B agus C . Má tá A' taobh amuigh den chiorcal, glac leis gurb é A'' an pointe ag a mbuaileann an mhírlíne $[A'B]$ le s . D'fhágfadh sé sin go bhfuil

$$|\angle BA'C| = |\angle BAC| = |\angle BA''C|,$$

trí Atoradh 2. Tá sé sin ag teacht salach ar Theoirim 6.

Tarlaíonn bréagnú den chineál céanna má bhíonn A' taobh istigh den chiorcal. Mar sin tá sé ar an gchiorcal. □

Atoradh 3. Tá gach uillinn i leathchiorcal ina dronuillinn. I siombailí, má tá BC ina thrastomhas ciorcail, agus más pointe ar bith eile den chiorcal é A , mar sin tá $\angle BAC = 90^\circ$.

Cruthúnas. Uillinn dhíreach í an uillinn ag an lárphointe, a bhfuil tomhas 180° aici, agus is 90° a leath sin. \square

Atoradh 4. Más dronuillinn an uillinn a sheasann ar chorda $[BC]$ ag pointe éigin den chiorcal, is trastomhas é $[BC]$.

Cruthúnas. 180° atá san uillinn ag an lárphointe, agus ar an ábhar sin tá sí díreach, agus mar sin téann an líne BC tríd an lárphointe. \square

Sainmhíniú 41. Is éard atá i gceathairshleasán **comhchiorclach** ná ceann a bhfuil a reanna ina luí ar chiorcal éigin.

Atoradh 5. Más ceathairshleasán comhchiorclach é $ABCD$, ansin is é 180° suim na n -uillinneacha urchomhaireacha.

Cruthúnas. Is é 360° suim an dá uillinn ag an lár atá ina seasamh ar na stuanna céanna, agus ar an ábhar sin is é 180° suim an dá leath. \square

Nóta 8. Tá a choinbhéarta fíor freisin: Más ceathairshleasán dronnach é $ABCD$ agus más 180° suim na n -uillinneacha urchomhaireacha, mar sin tá sé comhchiorclach.

Cruthúnas. Leanann sé seo go díreach ó Atoradh 5 agus ón gcoinbhéarta le hAtoradh 2. \square

Is féidir teacht gar do dhiosca trí phologáin chomhshleasacha níos mó agus níos lú a tharraingt a bhfuil a n-achar chomh gar do πr^2 , agus is maith leat, agus nuair is r a gha. Ar an ábhar sin deirimid gurb é πr^2 achar an diosca.

Tairiscint 16. Más líne í l agus más ciorcal é s , buaileann l le s ag pointe amháin nó ag dhá phointe, nó ní bhuaileann sé le s ag pointe ar bith.

Cruthúnas. Déanaimid rangú trí chomparáid a dhéanamh idir fad an ingir p ón lárphointe go dtí an líne agus ga r an ciorcail. Má tá $p > r$, níl aon pointe ann. Má tá $p = r$, tá ceann amháin go beacht, agus má tá $p < r$ tá dhá cheann ann. \square

Sainmhíniú 42. Tadhlaí don chiorcal s a thugtar ar an líne l nuair atá pointe amháin go cruinn ag $l \cap s$. **Pointe tadhail** an tadhlaí a thugtar ar an bpointe sin.

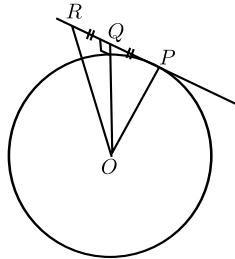
Teoirim 20.

- (1) Tá gach tadhlaí ingearach leis an nga a théann chuig an bpointe tadhlaí.
(2) Má luíonn P ar an gciorcail s , agus má tá líne l ingearach leis an nga a théann chuig P , ansin tá l ina thadhlaí do s .

Cruthúnas. (1) Cruthúnas trí bhréagnú is ea é seo.

Abraimis gurb é P an pointe tadhlaí agus nach bhfuil an tadhlaí l ingearach le OP .

Buaileadh an t-ingear don tadhlaí ón lárphointe O leis ag Q . Roghnaigh R ar PQ , ar an taobh eile de Q ó P , agus le $|QR| = |PQ|$ (faoi mar atá i bhFíor 25).



Fíor 25.

Mar sin tá $\triangle OQR$ iomchuí do $\triangle OQP$.

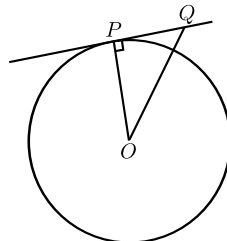
[SUS]

$$\therefore |OR| = |OP|,$$

mar sin is pointe eile é R ina mbuaileann l leis an gciorcail. Tagann sé seo salach ar an bhfíric a tugadh gur tadhlaí é l .

Mar sin caithfidh l a bheith ingearach le OP , faoi mar atá ag teastáil.

(2) (Leide: Bain leas as Píotagarás. Léiríonn sé seo go díreach go bhfuil gach pointe eile ar l níos faide ó O ná P , agus mar sin nach bhfuil sé ar an gciorcail.)



Fíor 26.

Go sonrath: Bíodh Q ina phointe ar bith ar l , ach amháin P . Féach Fíor 26. Ansin tá

$$\begin{aligned} |OQ|^2 &= |OP|^2 + |PQ|^2 && \text{[Píotagarás]} \\ &> |OP|^2. \\ \therefore |OQ| &> |OP|. \end{aligned}$$

\therefore níl Q ar an gciorcail. [Sainmhíniú ciorcail]

\therefore is é P an t-aon phointe de l ar an gciorcail.

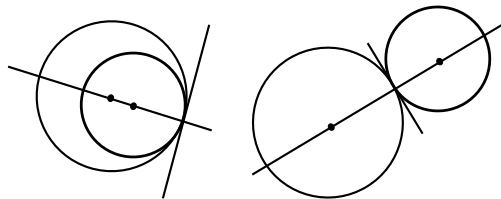
\therefore is tadhlaí é l . [Sainmhíniú tadhlaí]

□

Atoradh 6. Má tá líne thadhlaí i bpáirt ag dhá chiorcail ag pointe amháin, tá an dá lárphointe agus an pointe sin comhlíneach.

Cruthúnas. Faoi Chuid (1) den teoirim, luíonn an dá lárphointe ar an líne a théann tríd an bpointe agus atá ingearach don chomhthadhlaí. □

Léirítear na ciorcail a bhfuil cur síos orthu in Atoradh 6 i bhFíor 27.



Fíor 27.

Nóta 9. Aon dá chiorcail ar leith, trasnóidh siad a chéile i 0, 1, nó 2 phointe.

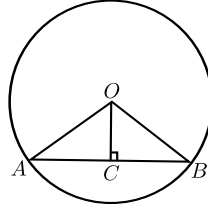
Má tá dhá phointe i bpáirt acu, tá an comhchorda a cheanglaíonn an dá phointe sin le chéile ingearach leis an líne a cheanglaíonn na lárphointí le chéile.

Mura bhfuil ach aon phointe trasnaithe amháin acu, deirtear go bhfuil siad *ag tadhall* le chéile agus is é an *pointe teagmhála* a thugtar ar an bpointe sin. Tá na lárphointí agus an pointe teagmhála comhlíneach, agus tá comhthadhlaí ag na ciorcail ag an bpointe sin.

Teoirim 21.

(1) Déroineann an t-ingear ón lár go corda an corda.

(2) Téann déroinnteoir ingearach chorda tríd an lár.



Fíor 28.

Cruthúnas. (1) (Leide: Dhá thriantán dhronuilleacha a bhfuil dhá péire sleasa cothroma acu.) Féach Fíor 28.

Go sonrach:

$$\begin{aligned} |OA| &= |OB| && \text{[Sainmhíniú ciorcail]} \\ |OC| &= |OC| \end{aligned}$$

$$\begin{aligned} |AC| &= \sqrt{|OA|^2 - |OC|^2} && \text{[Píotagarás]} \\ &= \sqrt{|OB|^2 - |OC|^2} \\ &= |CB|. && \text{[Píotagarás]} \end{aligned}$$

$\therefore \Delta OAC$ iomchuí do ΔOBC . [SSS]

$\therefore |AC| = |CB|$.

(2) Baineann sé seo leas as an Aicsiom Rialóra, a bhfuil sé mar thoradh leis gur aon lárphointe amháin go beacht atá ag mírlíne.

Bíodh C mar bhun an ingir ó O ar AB .

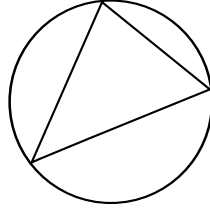
De réir Cuid (1), $|AC| = |CB|$, mar sin is é C lárphointe $[AB]$. Mar sin is é CO déroinnteoir ingearach AB . Mar sin téann déroinnteoir ingearach AB trí O . □

6.12 Pointí Speisialta Triantáin

Tairiscint 17. *Má théann ciorcal trí thrí phointe A , B agus C , nach pointí comhlíneacha iad, luíonn a lárphointe ar dhéroinnteoir ingearach gach taoibh den triantán ΔABC .*

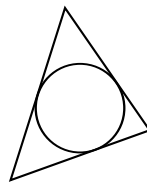
Sainmhíniú 43. Is éard atá in **imchiorcal** an triantáin ΔABC ná an ciorcal a théann trína reanna (féach Fíor 29). Is é **imlár** an triantáin a lárphointe, agus **imgha** a thugtar ar a gha.

Tairiscint 18. *Má luíonn ciorcal laistigh den triantán ΔABC agus más tadhlaí é le gach ceann dá thaobhanna, luíonn lárphointe an chiorcail ar dhéroinnteoirí na dtrí uillinneacha $\angle A$, $\angle B$, agus $\angle C$.*



Fíor 29.

Sainmhíniú 44. Is éard atá in **inchiorca** triantáin ná an ciorcal a luíonn laistigh den triantán agus atá ina thadhlaí le gach slios (féach Fíor 30). Is é an **t-ionlár** a lárphointe agus is é an **t-ingha** a gha.

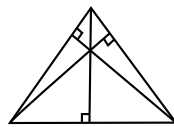


Fíor 30.

Tairiscint 19. *Tagann na línte a nascann reanna triantáin le lárphointí na sleasa urchomhaireacha le chéile in aon phointe amháin.*

Sainmhíniú 45. Tugtar **meánlíne** den triantán ar líne a nascann rinn triantáin le lárphointe an taoibh urchomhairigh. **Meánlár** a thugtar ar an bpointe sin ina dtagann na meánlínte le chéile.

Tairiscint 20. *Tagann na hingir ó reanna triantáin go dtí na sleasa urchomhaireacha le chéile in aon phointe amháin.*



Fíor 31.

Sainmhíniú 46. **Ingearlár** a thugtar ar an bpointe sin ina dtagann na hingir ó reanna triantáin go dtí na sleasa urchomhaireacha le chéile (féach Fíor 31).

7 Tógálacha ar féidir staidéar a dhéanamh orthu

Is iad seo a leanas na huirlisí ar féidir iad a úsáid:

imeall díreach: Is féidir é seo a úsáid (mar aon le peann luaidhe) chun líne a tharraingt ag dul trí dhá phointe mharcáilte.

compás: Cuireann an uirlis seo ar do chumas ciorcal a tharraingt a bhfuil lárphointe ar leith aige agus é ag dul trí phointe ar leith. Lena chois sin cuireann sé ar do chumas mírlíne ar leith $[AB]$ a ghlacadh, agus ciorcal a tharraingt a bhfuil a lárphointe ag pointe ar leith C agus a bhfuil ga $|AB|$ aige.

rialóir: Imeall díreach é seo a bhfuil uimhreacha marcáilte air. Cuireann sé ar do chumas fad na mírlínte a thomhas agus an pointe B a mharcáil ar ga ar leith arb é A a rinn, sa chaoi gur slánuimhir dheimhneach thugtha í $|AB|$. Is féidir é a shleamhnú feadh dronbhacairt, nó trí bhealaí eile sleamhnaithe a úsáid, agus pointe amháin nó dhó á gcoinneáil ar chuar nó dhó.

uillinntomhas: Cuireann sé seo ar do chumas uillinneacha a thomhas agus pointí C a mharcáil sa chaoi go bhfuil líon áirithe céimeanna ag an uillinn $\angle BAC$ a dhéantar le ga ar leith $[AB]$. Is féidir é a úsáid freisin trí é a shleamhnú feadh líne go dtí go mbíonn líne éigin ar an uillinntomhas os cionn pointe tugtha.

dronbhacairt: Féadfaidh tú iad seo a úsáid chun dronuillinneacha agus uillinneacha 30° , 60° , agus 45° . Is féidir é a úsáid freisin trí é a shleamhnú feadh rialóra go dtí go dtarlaíonn comhtheagmhas éigin.

Is iad seo a leanas na tógálacha atá leagtha síos:

1. Déroinnteoir uillinne ar leith, is gan ach compás agus imeall díreach a úsáid.
2. Déroinnteoir ingearach mírlíne, ag baint úsáide as compás agus imeall díreach amháin.
3. Líne atá ingearach le líne ar leith l , ag dul trí phointe ar leith nach bhfuil ar l .
4. Líne ingearach le líne ar leith l , ag dul trí phointe ar leith ar l .

5. Líne chomhthreomhar le líne ar leith, trí phointe ar leith.
6. Mírlíne a roinnt i 2 nó i 3 mhírlíne chothroma gan í a thomhas.
7. Mírlíne a roinnt i líon ar bith mírlínite cothroma, gan í a thomhas.
8. Mírlíne d'fhad ar leith ar gha ar leith.
9. Uillinn de líon áirithe céimeanna le ga ar leith mar shlios amháin.
10. Triantán le faid ar leith ag a thrí thaobh.
11. Triantán le sonraí SUS ar leith.
12. Triantán le sonraí USU ar leith.
13. Triantán dronuilleach, le fad an taobhagáin agus fad taoibh amháin eile tugtha.
14. Triantán dronuilleach, le slios amháin agus géaruillinn amháin tugtha (roinnt cásanna).
15. Dronuilleog le faid áirithe ag na sleasa.
16. Imlár agus imchiorcal triantáin ar leith, agus gan ach compás agus imeall díreach a úsáid.
17. Ionlár agus inchiorcal triantáin ar leith agus gan ach compás agus imeall díreach a úsáid.
18. Uillinn 60° , gan uillinntomhas ná dronbhacart a úsáid.
19. Tadhlaí do chiorcal tugtha ag pointe tugtha air.
20. Comhthreomharán, le faid airithe ag na sleasa agus méideanna áirithe sna huillinneacha.
21. Meánlár triantáin.
22. Ingearlár ciorcail.

8 Cur chuige Múinteoireachta

8.1 Obair Phraiticiúil

Ba chóir dul i mbun ceachtanna praiticiúla agus turgnamh sula dtosaítear ag déanamh staidéir ar theoiricí. Ba chóir iad seo a leanas a bheith i gceist:

1. Ceachtanna faoi mar a moladh sna Treoirínte le haghaidh Múinteoirí [2]. Tagraímid go speisialta do Cuid 4.6 (7 gceacht faoi Uimhríocht Fheidhmeach agus Tomhas), Cuid 4.9 (14 cheacht faoi Chéimseata), agus Cuid 4.10 (4 cheacht faoi Thriantánacht).
2. Ceachtanna faoi mar a moladh i meamram an Ollaimh Barry.
3. Smaointe ó Líníocht Theicniúil.
4. Ábhar i [3].

8.2 Ó Fhionnachtain go Cruthúnas

Táthar ag súil gur trí imscrúdú agus trí fhionnachtain a chéad bhuaifidh na daltaí leis na torthaí céimseatúla ar an gcúrsa. Ba chóir go dtiocfadh daltaí ar an tuairim, de thoradh na ngníomhaíochtaí a dhéanann siad, gur cosúil go bhfuil gnéithe áirithe a bhaineann le cruthanna nó le léaráidí áirithe atá neamhspleách ó na samplaí faoi leith a roghnaítear. Maidir leis na gnéithe sin ar cosúil gur buan iad bíonn an dealramh sin orthu go bhfuil cúis againn a chreidiúint go bhféadfaidís a bheith fíor i gcónaí. Iarraimid ar na daltaí ag an gcéim seo glacadh leo amhail is dá mbeidís fíor, agus iad a chur i bhfeidhm ar fhadhbanna éagsúla a bhaineann le comhthéacsanna áirithe agus ar fhadhbanna éagsúla teibí, ach socraímid filleadh orthu arís le fáil amach an bhfuil siad fíor. In ainneoin sin is uile ba chóir a fhiafraí de na daltaí, fiú ag an gcéim seo, an dóigh leo gur leor i gcónaí roinnt samplaí a scrúdú ar an gcaoi seo le bheith cinnte de go mbíonn toradh áirithe amhlaidh i gcónaí, nó an gá argóint níos deimhnithe a chur ar fáil. An duine míreasúnta an té a dhiúltaíonn glacadh leis go mbeidh an toradh atá á dhearbú fíor i gcónaí? D'fhéadfadh sé go mba chabhair é iniúchadh a dhéanamh ar ráiteas a bhfuil an dealramh air go mbíonn sé fíor i gcónaí, ach nach bhfuil, (e.g. an ráiteas go bhfuil $n^2 + n + 41$ príomhúil i gcás gach $n \in \mathbb{N}$). D'fhéadfaí tagairt a dhéanamh do shamplaí eile de thuairimí ar creideadh uair amháin go raibh siad fíor go dtí gur thángthas ar fhrithshamplaí a bhréagnaigh iad.

Is féidir na smaointe a úsáidtear i gcruthú matamaiticiúil a fhorbairt go neamhfhoirmiúil fiú ag céim seo an iniúchta. Nuair a ghlacann daltaí

páirt i ngníomhaíochtaí a mbíonn torthaí orthu atá an-ghaolmhar dá chéile, féadfaidh siad a thuiscint go réidh an chaoi a bhfuil na torthaí seo nasctha lena chéile. Is é sin le rá, féadfaidh siad a thuiscint, nó féadfar a chur ar a súile dóibh, go dtagann an toradh a fuair siad inniu go dosheachanta loighciúil ón gceann a fuair siad inné. Lena chois sin, ní mór a thabhairt faoi ndeara nuair a bhítear ag obair ar fhadhbanna go mbíonn déaduchtú loighciúil ó thorthaí ginearálta i gceist.

Beidh sé riachtanach do dhaltaí ar na leibhéal bhainteacha leanúint ar aghaidh ó bheith sásta glacadh le toradh de bharr samplaí go dtí an tuis-cint go bhfuil argóint loighciúil níos deimhní ag teastáil. Tá áit anseo don fhírinniú neamhfhoirmiúil ar nós teoirim Phíotagaráis a chruthú trí mhionléirmheas. Cuireann a leithéid d'fhírinniú argóint chun cinn níos fearr ná mar a d'fhéadfaí a dhéanamh le sraith samplaí. Is fiú plé a dhéanamh ar na bríonna éagsúla atá ag an bhfocal 'cruthaigh' i gcomhthéacsanna éagsúla amhail i dtríail choiriúil, nó i gcúirt shibhialta nó sa ghnáthchaint. Ní hionann an rud a bhíonn matamaiticeoirí sásta leis mar chruthú agus a bhíonn i gceist sna comhthéacsanna eile seo. Ba chóir go mbeadh loighic do-ionsaithe ann ó chéim go céim. D'fhéadfaí ceann nó níos mó de na cruthúnais, bunaithe ar mhionléirmheasanna, ar fhalláis a chur i láthair, ar cruthúnais iad atá ar fáil go forleathan, agus ansin féachaint ar chruthúnas, bunaithe ar léirmheasanna, le haghaidh theoirim Phíotagaráis, agus féachaint cad iad na bearnaí a d'fhéadfadh a bheith ann ar ghá a líonadh.

Ba chóir a chur i dtuiscint do na daltaí nuair atá na coincheapa maidir le hargóintí agus cruthúnais á bhforbairt go bhfuil sé riachtanach teacht ar thuairim shoiléir faoi cad is cruthúnas matamaiticiúil ann agus cad iad na bunrialacha a bhainfeadh leo a d'fhéadfaimis go léir a bheith ar aon aigne fúthu. Beidh sé soiléir go bhfuil gá le haicsiomaí toisc nach gcuireann cruthúnas foirmiúil ar ár gcumas ach gluaiseacht go loighciúil ó na torthaí atá ann cheana go cinn nua, agus beifear in ann cruthúnais fhoirmiúla a thaispeáint do na daltaí.

9 Siollabas don Teastas Sóisearach GL

9.1 Coincheapa

Tacar, plána, pointe, líne, ga, uillinn, fíoruimhir, fad, céim, triantán, dron-uillinn, triantáin iomchuí, triantáin chomhchosúla, línte comhthreomhara, comhthreomharán, achar, tadhlaí le ciorcal, fothacar, mírlíne, pointí comh-líneacha, fad, lárphointe mírlíne, uillinn athfhillteach, gnáthuillinn, uillinn dhíreach, uillinn nialasach, uillinn iomlán, uillinn fhorlíontach, rinnuillinn-

eacha urchomhaireacha, géaruillinn, maoluillinn, déroinnteoir uillinne, línte ingearacha, déroinnteoir ingearach mírlíne, cóimheas, triantán comhchosach, triantán comhshleasach, triantán scailéanach, triantán dronuilleach, uillinneacha seachtracha triantáin, uillinneacha inmheánacha urchomhaireacha, taobhagán, uillinneacha ailtéarnacha, uillinneacha comhfhreagracha, polagán, ceathairshleasán, ceathairshleasán dronnach, dronuilleog, cearnóg, rombas, bun agus buaic agus airde chomhfhreagrach triantáin nó comhthreomharáin, líne thrasnaí, ciorcal, ga, trastomhas, corda, stua, teascóg, imlíne chiorcail, diosca, achar diosca, imchiorcal, pointe teagmhála tadhlaí, rinn, reanna (uillinne, triantáin, polagáin), foircinn mhírlíne, sleasa uillinne, mírlínte cothroma, uillinneacha cothroma, sleasa cóngaracha, uillinneacha nó reanna triantán nó ceathairshleasán, an slios os comhair uillinne triantáin, sleasa nó uillinneacha urchomhaireacha ceathairshleasáin, lárphointe ciorcail.

9.2 Tógálacha

Déanfaidh na daltaí staidéar ar thógálacha 1, 2, 4, 5, 6, 8, 9, 10, 11, 12, 13, 14, 15.

9.3 Aicsiomaí agus Cruthúnais

Ba chóir go mbeadh taithí ag na daltaí ar roinnt cruthúnas foirmiúil. Ní bheidh aon scrúdú le déanamh acu fúthu. Feicfidh siad Aicsiomaí 1,2,3,4,5, agus déanfaidh siad staidéar ar chruthúnais Teoirimí 1, 2, 3, 4, 5, 6, 9, 10, 13 (ráiteas amháin), 14, 15; agus cruthúnais dhíreacha Atorthaí 3, 4.

10 Siollabas don Teastas Sóisearach AL

10.1 Coincheapa

Na coincheapa go léir a luadh don Teastas Sóisearach GL, mar aon le línte comhchumaracha.

10.2 Tógálacha

Déanfaidh na daltaí staidéar ar na tógálacha go léir a luadh don Teastas Sóisearach GL mar aon le tógálacha 3 agus 7.

10.3 Loighic, Aicsiomaí agus Teoirimí

Beifear ag súil go dtuigfidh daltaí brí na dtéarmaí seo a leanas a bhaineann le loighic agus le réasúnaíocht dhéaduchtach: **Teoirim, cruthúnas, aicsiom, atoradh, coinbhéarta, is intuigthe as.**

Déanfaidh siad staidéar ar Aicsiomí 1, 2, 3, 4, 5. Déanfaidh siad staidéar ar chruthúnais Teoirimí 1, 2, 3, 4*, 5, 6*, 9*, 10, 11, 12, 13, 14*, 15, 19*, Atorthaí 1, 2, 3, 4, 5, agus a gcoinbhéartaí. Féadfar ceist a chur sa scrúdú faoi na cinn a bhfuil * leo.

Ní dhéanfar staidéar ar an leibhéal seo faoin ábhar foirmiúil a bhaineann le hachar. Is mar chuid den ábhar a bhaineann le huimhríocht agus le tomhas a bheidh na daltaí ag plé le hachar.

11 Siollabas le haghaidh Bhonnleibhéal na hArdteistiméireachta

Glacfar leis go bhfuil eolas ag daltaí ar na teoirimí atá leagtha síos do GL an Teastais Shóisearaigh, agus d'fhéadfadh ceisteanna bunaithe orthu a bheith sa scrúdú. Ní bheidh cruthúnais ag teastáil.

11.1 Tógálacha

Glacfar leis go bhfuil eolas ag daltaí ar na tógálacha atá leagtha síos do GL an Teastais Shóisearaigh, agus d'fhéadfaí iad seo a scrúdú. Lena chois sin déanfaidh na daltaí staidéar ar thógálacha 18, 19, 20.

12 Siollabas le haghaidh GL na hArdteistiméireachta

12.1 Tógálacha

Glacfar leis go bhfuil eolas ag daltaí ar na tógálacha atá leagtha síos do GL an Teastais Shóisearaigh, agus d'fhéadfaí iad seo a scrúdú. Lena chois sin déanfaidh na daltaí staidéir ar na tógálacha atá leagtha síos le haghaidh Bhonnleibhéal na hArdteistiméireachta agus ar thógálacha 16, 17, 21.

12.2 Teoirimí agus Cruthúnais

Beifear ag súil go dtuigfidh daltaí brí na dtéarmaí seo a leanas a bhaineann le loighic agus le réasúnaíocht dhéaduchtach: **Teoirim, cruthúnas, aicsiom, atoradh, coinbhéarta, is intuigthe as.**

Glacfar leis go mbeidh eolas ag na scoláirí ar na hAicsiomaí, na coincheapa, na Teoirimí agus na hAtorthaí atá leagtha síos le haghaidh TS-GL. (Beidh ar dhaltaí a rinne staidéar ar shiollabas an Teastais Shóisearaigh ag an mBhonnleibhéal (atá curtha ar ceal anois), staidéar a dhéanamh orthu seo freisin san idirthréimhse.)

Déanfaidh na daltaí staidéar ar chruthúnais Teoirimí 7, 8, 11, 12, 13, 16, 17, 18, 20, 21, agus Atoradh 6.

Ní scrúdófar aon chruthúnas. Déanfar na daltaí a scrúdú ag baint leas as fadhbanna ar féidir dul ina mbun le cabhair na teoirice.

13 Siollabas le haghaidh AL na hArdteistiméireachta

13.1 Tógálacha

Glacfar leis go bhfuil eolas ag daltaí ar na tógálacha atá leagtha síos do AL an Teastais Shóisearaigh, agus d'fhéadfaí iad a scrúdú. Lena chois sin déanfaidh na daltaí staidéar ar na tógálacha atá leagtha síos le haghaidh GL na Ardteistiméarachta agus ar thógáil 22.

13.2 Teoirimí agus Cruthúnais

Beifear ag súil go dtuigfidh daltaí brí na dtéarmaí seo a leanas a bhaineann le loighic agus le réasúnaíocht dhéaduchtach: **Teoirim, cruthúnas, aicsiom, atoradh, coinbhéarta, is intuigthe as, coibhéiseach le, má tá agus ansin amháin, cruthúnas trí bhréagnú.**

Glacfar leis go mbeidh eolas ag na scoláirí ar na hAicsiomaí, na coincheapa, na Teoirimí agus na hAtorthaí atá leagtha síos le haghaidh TS-AL.

Déanfaidh na daltaí staidéar ar na teoiricí agus ar na hatorthaí go léir atá leagtha síos le haghaidh GL na hArdteistiméarachta ach ní iarrfar orthu, de ghnáth, a gcruthúnais a sholáthar sa scrúdú. D'fhéadfaí iarraidh orthu cruthúnais Teoirimí 11, 12, 13 (a bhaineann le cóimheasa) a thabhairt. Leagann siad seo síos an bonn ceart do chruthúnas theoirim Phíotagaráis a ndéantar staidéar air don Teastas Sóisearach.

Iarrfar orthu fadhbanna céimseatúla (a dtugtar 'cuts' orthu sa Bhéarla) a réiteach agus cuntas réasúnaithe a scríobh faoin gcaoi ar réitigh siad iad. Beidh na fadhbanna seo de chineál ar féidir dul i ngleic leo ach an teoiric thugtha a úsáid. D'fhéadfadh go mbeadh sé úsáideach, maidir le hullmhú le haghaidh ceisteanna scrúduithe dá leithéid, staidéar a dhéanamh ar na tairiscintí.

Tagairtí

- [1] Patrick D. Barry. *Geometry with Trigonometry*. Horwood. Chichester. 2001. ISBN 1-898563-69-1.
- [2] Junior Cycle Course Committee, NCCA. *Mathematics: Junior Certificate Guidelines for Teachers*. Stationary Office, Dublin. 2002. ISBN 0-7557-1193-9.
- [3] Fiacre O'Cairbre, John McKeon, and Richard O. Watson. *A Resource for Transition Year Mathematics Teachers*. DES. Dublin. 2006.
- [4] Anthony G. O'Farrell. *School Geometry*. IMTA Newsletter 109 (2009) 21-28.

Cuid C

**Ta an t-ábhar siollabais seo a leanas coinnithe ó shiollabas
Mhatamaitic na hArdteistiméireachta a foilsíodh i 1994.**

1. Réamhrá

1.1 Comhthéacs

Abhar fadréimseach é Matamaitic lena lán gnéithe. Ar thaobh amháin, tá ar ngnáthshaol laethúil, nádúrtha agus saorga, lán le Matamaitic - comhaireamh, tomhas, patrúin agus geoiméadracht. Is ón mhatamaitic a fhaighimid na teicnící agus an teanga bhunúsach chun plé a dhéanamh ar ghnéithe d'ár ngnáthshaol agus den saol eolaíoch. Ar an taobh eile de, is disciplin intleachtúil agus foinse sásaimh aestéitiúil i toisc í a bheith ag plé le teibíochtaí, le hargóintí loighiciúla agus le hidéanna. Is mar gheall ar na gnéithe éagsúla seo a tugadh "banríon agua seanbhónta na heolaíochta" uirthi. Ta an dá ghné sin follasach ina ról san oideachas - teoiriciúil agus practiciúil. Ta an mhatamaitic ar an chúrsa dírithe ar a feidhmiú praiticiúil chomh maith lena fiúntas intreach féin agus an dá ghné seo fite fuaite ina chéile.

Go traidisiúnta, ba chuid shuntasach d'oideachas na n-óg sa tír seo an mhatamaitic. D'aithin an pobal ar fad a tairbhe in Ardoideachas, in Oideachas bhreise, i bhfostaíocht agus mar chuid d'oideachas ginearalta don saol. Mar gheall ar seo, tá sé fíorthábhachtach go n-oirfeadh an t-oideachas matamaiticiúil a chuirtear ar fáil do scoláirí da gcumais, dá riachtanais agua dá n-ábhair suime. Ní foláir do freisin nádúr leathan an ábhair seo a leiriú agus a chumas chun forbairt an dalta féin a bhisiú.

1.2 Aidhmeanna

Tá d'aidhm le hoideachas matamaitice:

- A.
- go gcuirfeadh sé le forbairt phearsanta na scoláirí
 - ag cabhrú leo chun teacht ar an eolas matamaiticiúil, na scileanna agus na tuiscintí atá riachtanach do shásamh pearsanta;
 - forbairt a dhéanamh ar chumas samhaltaithe; ar scileanna fadhbréitigh, ar bhuanna cruthaitheacha agus ar chumais chumarsáide;
 - cur lena gcumas - chun déileáil le teibíochtaí agus le ginearáluithe, chun argóintí loighiciúla a aithint agus a chur i láthair agus chun déileáil le córais éagsúla mhatamaiticiúla;
 - meas a chothú iontu ar ghnéithe aestéitiúla agus cruthaitheacha na matamaitice agus a chur ar a gcumas an mhatamaitic sa saol thart orthu a aithin agus taitneamh a bhaint aisti;
 - ar an tslí seo, dearcadh dearfach i leith na matamaitice, mar ábhar suimiúil, tairbheach, a chothú.
- B. Go gcabhródh se chun an t-eolas, na scileanna agus an tuiscint mhatamaiticiúil atá riachtanach sa scoil agus sa saol a sholáthar do na scoláirí.

- trína muinín agus a gcumas, in úsáid na scileanna agus an eolais mhatamaiticiúil ata riachtanach sa gháthshaol agus i saol na hoibre, a chothú;
- trína n-ullmhú do staidéar ar ábhair eile scoile;
- trína n-ullmhú d'oidreachas breise agus do thraenáil oibre;
- trí bhonnchloch a sholáthar dóibh le haghaidh staidéir bhreise sa mhatamaitic féin.

Ní mór a nótaíl freisin nuair atáthar ag freastal ar riachtanais na scoláirí, nach mór do na cúrsaí seo freisin daoine óga a oiliúint, ag a mbeidh na scileanna agus an t-oidreachas atá riachtanach don tír seo.

1.3 Cuspóirí Ginearálta

Deirtear go mbionn fíricí, scileanna, coincheapanna (nó 'struchtúir choincheapúla') agus straitéisí i gceist i múineadh agus i bhfoghlaim na matamaitice agus gur uathu seo a thagann léirtheiscint.

Cad a gheobhaidh an scoláire as? Ba cheart go mbeadh scoláirí ábalta fíricí cuí a thabhairt chun cuimhne. Ba cheart go mbeidís ábalta tuisceant ionstraimeach ("conas") agus na scileanna sícealuaille chuí a léiriú. Ba cheart go mbeadh tuisceant ghaolmhaireachta ("Cén fáth") acu. Ba cheart go mbeidís ábalta a gcuid eolas a chur i bhfeidhm i gcomhthéacsanna aithnidiúla ar dtús ach ar ball, i gcomhthéacsanna coimhthíocha. Ba cheart go ndéanfaí forbairt ar chumas anailíseach agus cruthaitheach sa Mhatamaitic. Ba cheart go gcothófaí dearcadh tuisceanach i leith an ábhair agus a úsáid. Is féidir, mar sin, glacadh leis na hardhmeanna i Rannóg 1.2 mar chuspóirí ginearálta anseo thíos.

Cuspóirí Bunúsacha

A. Ba cheart go mbeadh ar chumas scoláirí bunfhíricí a thabhairt chun cuimhne ba cheart go mbeidís abálta:

- eolas a léiriú ar choinbhinsiúin cosúil le téarmaíocht agus nódaireacht;
- figiúir grafacha bhunúsacha a aithint;
- fíricí tábhachtacha díorthaithe óna gcuid staidéir, a chur i láthair.

(Ar an gcumas seo, ba cheart go mbeadh eolas bunúsach ar bharr a ngoib acu chun cur lena dtuisceant agus chun cabhrú leis an bhfeidhmiú).

B. Ba cheart go mbeidís ábalta tuisceant ionstraimeach a léiriú; is é sin ba cheart go mbeadh a fhios acu conas (agus cathain):

- gnáthghnásanna ríomhairiúcháin agus algartaim eile mar sin a chur i bhfeidhm;

- tomhais agus tógálacha a dhéanamh go leibhéal cuí cruinnis;
- eolas a chur i láthair go cuí agus é a léamh i bhfoirm ghrafach agus phictiúrtha;
- trealamh matamaiticiúil, cosú le háiritheoirí, rialóirí, compáis, uillinntomhais, agus dronbhacairt, a úsáid do na tascanna thuas.

(Sin le rá nach mór dóibh na cumais bhunúsacha do ghniomhaíochtaí matamaiticiúla a bheith acu).

C. Ba cheart go mbeadh tuiscint gaolmhaireachta acu, i.e. tuiscint ar choincheapanna agus ar struchtúir choincheapúla, ionas gur feidir leo:

- ráitis mhatamaiticiúla a léirléamh;
- eolas, atá curtha ina láthair i bhfoirm tháblach, ghrafach nó phictiúrtha, léirléamh;
- patrúin, gaolmhaireachtaí agus struchtúir a aithint;
- réasúnaíocht mhatamaiticiúil a leanacht.

(Mar sin, ba cheart go bhfeicfidís an mhatamaitic mar dhisciplín loighiciúil, úsáideach).

D. Ba cheart go mbeidís ábalta a gcuid eolais ar fhíricí agus ar scileanna a chur i bhfeidhm; is é sin go mbeidís ábalta agus iad ag oibriú i gcomhthéacsanna aithnidiúla:

- eolas atá curtha ina láthair i bhfocail a aistriú go foirm mhatamaiticiúil;
- eolas a phróiseail, trí fhoirmlí nó trí theicnicí cuí matamaitice a roghnú agus a úsáid.
- conclúidí cuí a ghlacadh.

(Mar sin, ba cheart go mbeidís ábalta an mhatamaitic a úsáid agus a aithint mar uirlis chumhachtach ag a bhfuil réimse leathan feidhmithe).

E. Ba cheart go mbeadh forbairt déanta acu ar na scileanna cumarsaide agus sícealuai le atá riachtanach dóibh sin thuas,

F. Ba cheart go mbeadh meas acu ar an mhatamaitic mar gheall go mbeidís ábalta:

- na modhanna matamaitice a úsáid go rathúil;
- ailleacht foirme, struchtúir agus patrúin a aithint;
- an mhatamaitic ina dtimpeallacht a aithint;
- an mhatamaitic a chur i bhfeidhm ar ghnáthchúrsaí a lae.

Cuspóirí Eile

G. Ba cheart go mbeidís ábalta: eolas a anailisiú, fiú eolas ata curtha ina lathair i gcomhthéacsanna reamhathnidiula.

- cruthunais a chur in eagar;
- múnlaí oiriúnacha matamaitice a chur le chéile;
- mar sin, ábalta straitéisí cuí a roghnú chun fadhbanna a réiteach.

H. Ba cheart go mbeidís abalta matamaitic a chruthú dóibh féin:

- patrúin a iniuchadh
- barúacha a thabhairt
- torthaí a chur i lathair, a mhiniú agus tacú leo.

I Ba cheart go mbeidís feasach ar stair na matamaitice agus a ról mar chuid d'ár gcultúr sa stair, anois féin agus sa todhchaí.

Nóta

Is iomaí iarracht atá déanta chun Tacsanomaíocht Bhloom a chur in oiriúint d'oideachas matamaiticiúil: go háirithe mír a bheith ann a d'fhreagródh dá ag tabhairt gnáthghnásanna chun críche" ("ag déanamh suimeanna" agus mar sin de). Bheadh súil go gcabródh na catagóirí thuas, inter alia, le dearadh ceisteanna scrúdaithe a bheadh struchtúrtha mar is cuí.

1.4 Prionsabail Deartha an tSiollabais

Chun na haidhmeanna agus na cuspóirí ar fad a chur i bhfeidhm, dearadh trí chúrsa, ag Ardléibhéal, Gnathleibhéal agus Bonnleibhéal.

Cuireadh na prionsabail seo i bhfeidhm ar dhearadh gach cúrsa.

A. Níor mhór dóibh leanacht ar aghaidh ó na cúrsaí don Teastas Sóisearach agus forbairt a dhéanamh orthusan. Mar sin, ní mór do na scoláirí an du1 chun cinn ón Teastas Sóisearach a fheiceáil go soiléir, is cuma cén leibhéal a ghlac siad ansin. Ba cheart cúlra, stíleanna foghlama, cumas forbhartha (agus riachtanais) an spriocghrúpa agus a riachtanais amach anseo a thabhairt i gceist.

B. Ba cheart go mbeidís indéanta faoi na cúinsí mar atá faoi lathair agus iad solúbtha maidir le forbairtí amach anseo. Mar sin, níor mhór dóibh a bheith inmhúinte, infhoghlama agus solubhtha.

(a) Níor mhór dóibh a bheith inmhúinte, is é sin, ba cheart go bhféadfaí na cúrsaí a chur i bhfeidhm leis na hacmhainní ata ar fail:

- Ba cheart go bhféadfaí iad a mhúineadh san am a thugtar de ghnáth don ábhar seo i gclár na hArdteistiméireachta. Mar sin níor cheart dóibh a bheith rófhada.
 - Níor cheart go mbeadh trealamh riachtanach nach bhfuil le fáil i scoileanna na hEireann nó nach bhféadfaí a fháil gan dua;
 - Ba cheart go bhfeadfadh an fórsa múinteoirí atá faoi láthair iad a mhúineadh. Mar sin ba cheart gur aidhmeanna agus stíl a bheadh ann lena dtacódh múinteoirí agus a múinfidís le muinín. Ba cheart gur ábhar aithnidiúil, den chuid is mó, a bheadh ann.
- (b) Ba cheart go mbeidís infhoghlama, sa mhéid is go mbeidís oiriúnach do na cohóirt scoláirí ar dearadh iad dóibh;
- Ba cheart go dtosódh gach cúrsa ag an bpointe ag a bhfuil na scoláirí sa spriocghrúpa ag an am sin agus go rachadh se ar aghaidh ansin go leibhéil chuí deacrachta agus teibíochta;
 - Ba cheart go mbeadh áit sa chur chuige do chumais agus do stileanna foghlama éagsúla;
 - Ba cheart gur díol suime iad na hábhair agus na modhanna ionas go gcothófar fonn foghlama sna daltaí.
- (c) Ba cheart dóibh a bheith solúbtha - deartha ionas go bhfreastlaíonn siad ar spriocanna éagsúla agus gur feidir leo éabhlóidiú amach anseo:
- is feidir méid áirithe rogha a sholáthar taobh istigh de na cursaí (tri 'roghanna' a chur ar fáil ach ábhar bunúsach agus tabhachtach a bheith éigeantach) agus idir chúrsaí (trín riachtanas atá le cinealacha éagsúla cúsai a aithint).
 - is féidir ábhar nua (sna 'roghanna') a thriail sa seomra ranga agus ansin é a aistriú go dtí an croí amach anseo agus is féidir áhar atá ag dul ó úsáid a chur ar leataobh de réir a chéile.
 - is féidir freastal cuí a dhéanamh nuair a athróidh an soláthar acmhainní (mar shampla, féadfar an bhéim ar ríomhairí a mhéadú).

C. Ba cheart go bhféadfaí feidhm a bhaint astu chun scoláirí a ullmhú d'oidreachas breise agus don domhan oibre agus scíthe.

Mas féidir, ba cheart go n-úsáidfí feidhmithe a d'fhéadfaí a léiriú do scoláirí (anois agus ní am eigin sa todhchaí) agus go hidéalach, ba cheart go bhféadfaí déileáil leo, no le cuid díobh, taobh istigh den chúrsa.

D. Ba cheart go mbeadh an mhatamaitic atá iontu fíor, tábhachtach agus suimiúil.

Ba cheart réimse leathan de na gnéithe éagsúla den mhatamaitic a bheith san áireamh.

2. ARDLEIBHÉAL

ARDCHÚRSA: REASÚNAÍOCHT, STÍL AGUS AIDHMEANNA

Ta an tArdchúrsa dírithe ar na scoláirí is ábalta. Roghnóidh scoláirí é toisc go bhfreagraíonn se dá riachtanais agus dá spriocanna beatha no stáideir bhreise nó toise suim speisialta a bheith acu sa Mhatamaitic. Ní mór don chúrsa mar sin freastal ar dhá chinéal scoláirí - na "speisialtóirí" matamaitice a bhfuil fúthu dul ar aghaidh agus tuilleadh stáideir a dhéanamh ar Mhatamaitic; ach caithfear freastal a dhéanamh freisin ar scoláirí nach ndéanfaidh níos mó staidéir ar mhatamaitic ná ar ábhair ghaolmhara. Mar gheall ar seo, roghnaíodh ábhar de bharr a shuim intreach féin agus a fheidhmiú praiticiúil agus ginearalta, chomh maith le soláthar corncheapanna agus teicnící a oirfeas do speisialtóirí an toidhchaid.

Ta a gcumas i staidéar na Matamaitice i dtimpeallacht acadúil cruthaithe ag scoláirí an Ardleibhéil cheana féin. Tabharfaidh an cúrsa seo seansanna dóibh a dtuiscint ar idéanna Matamaiticiúla a mhéadú, dul i ngleic leis na coincheapanna agus na modhanna cumhachtacha a dhéanann an mhatamaitic tábhachtach in ár saol agus cur lena dtaitneamh san ábhar.

Don spriocghrúpa, is féidir béim speisialta a chur ar na haidhmeanna a bhaineann le fadhbréiteach, teibiú, ginearalú agus cruthú. Ní mór dóthain airde a thabhairt ar chothabháil na scileanna níos bunúsaí go háirithe in ailgeabar (áit a facthas laigí scoláirí ag dul idir iad agus dul chunn cinn). Ní mór glacadh leis, afach go bhfuil roinnt oibre déanta ag an Teastas Sóisearach faoi úsáid na Matamaitice sa ghnáthshaol agus mar sin nach bhfuil oiread tráchtá orthu ag an leibhéal seo.

ARDCHÚRSA: RÉAMH EOLAS

Glactar leis go bhfuil clár an Teastais Shóisearaigh ar eolas ag scoláirí.

ARDCHÚRSA: CUSPÓIRI MEASÚNAITHE

Is iad na cuspóirí bunúsacha A, B, C, D agus E (féach Rannóg 1.3) na cuspóirí measúnaithe agus muid ag féachaint orthu i leith na n-aidhmeanna seo a leanas san Ardchúrsa.

- tuiscint níos doimhne ar idéanna matamaiticiúla;
- tuiscint ar choincheapanna agus ar mhodhanna cumhachtacha;
- cumas fadhbanna a réiteach, teibiú agus ginearalú, agus cum as na torthaí atá liostáilte sa siollabas a chruthú (marcáilte le réaltán);
- inniúlacht i láimhseáil ailgeabhrach.

Nóta:

Mar atá léirithe i cuspóir E, ní mór do na scoláirí a gcuid oibre a chur i láthair go cuimsitheach; ta seo an-tábhachtach nuair atá áiritheoirí in úsáid acu.

Nóta ar scrúdú

I gcás torthaí ata marcáilte le reiltín*, féadfar cruthú foirméalta a scrúdú; ní bhféifear ag súil le cruthú foirméalta ar na torthaí eile sa siollabas.

<p><u>Ailgéabar</u></p> <p>1. Oibriú ailgeabrach ar iltéarmaigh agus ar fheidhmeanna cóimheasta. Suimiú, Dealú, Méadu agus roinnt agus úsáid lúibíní agus surdaí.</p> <p>Dlíthe séana agus logartam.</p> <p>*Teoirim Fachtóra d'iltéarmaigh céim a dó agus trí.</p> <p>Fachtóirín na n-iltéarmach sin (na fachtóirí líneacha agus cearnacha ag a bhfuil comhéifeachtaí slánuimhreach) .</p> <p>Réiteach cothromóidí ciúbacha le ar a laghad fréamh slánuimhreach amháin.</p> <p>Suimeanna agus torthaí fréamhacha cothromóidí cearnacha.</p>	<p>Níl úsáid Teoirime an Fhuílligh riachtanach.</p> <p>Níl Ciúbaigh i gceist.</p>
<p>2. Réiteach sainiúil ar chomhchothromóidí le dhá no trí anaithnid.</p> <p>Réiteach ar chothromóid chearnach amháin agus ar chothromoid lineach amháin le dhá anaithnid.</p>	<p>Níl cothromóidí le reitigh líneacha neamhsháiniúla nó gan réiteach I gceist.</p>
<p>3. Neamhionannais i réiteach neamhionnais i bhfoirm</p> $g(x) < k, x \in \mathbb{R}, \text{ nuair atá } g(x) = ax^2 + bx + c \text{ nó}$ $g(x) = \frac{ax+b}{cx+d}.$ <p>Usáid na nodaireachta x; réiteach $x-a < b$.</p>	
<p>4. Uimhreacha Coimpléascacha: Learáid Argand; suimiú; dealú; meadú; roinnt; modal; comhchuingiú; comhchuingigh suimeanna agus torthaí; teoirim na fréimhe comhchuingithe.</p> <p>*Teoirim De Moivre; cruthú trí ionduchtú an $n \in \mathbb{Z}$; feidhmiú cosúil le nú fréamhacha d'aontas, $n \in \mathbb{Q}$, agus ionannais cosúil le</p> $\cos 3\theta = 4 \cos^3\theta - 3\cos \theta.$	<p>Níl airíona modáil i gceist.</p> <p>Níl lócais i gceist.</p> <p>Níl aistrithe ó z-phlána go w-phlána i gceist.</p>
<p>5. *Cruthu trí ionduchtú ar aicheantais shimpli cosúil le suim na chéad slánuimhreach n agus suim de shraith iolraioch neamhionannais shimplí cosúil le $n! \geq 2^n, 2^n \geq n^2 (n \geq 4)$, agus $(1+x)^n \geq 1+nx (x > -1)$, agus torthaí fachtóirithe cosúil le: is fachtóir é 3 de $4^n - 1$.</p>	

<p>6. Maitrisí: méid, maitrisí 1 x 2, 2 x 1 agus 2 x 2; suimiú; meadú le "<u>scálach</u>"; toradh.</p> <p>Airíonna: tá suimiú maitrisí cómhálartach; ní fá go mbeadh méadú maitrisí cómhálartach.</p> <p>Aitheantais do shuimiú agus do mhéadú. Inbhéarta maitrise 2 x 2.</p> <p>Feidhmiú ar réiteach dhá chothromóid líneacha i dhá anaithnid.</p>	<p><u>Níl</u> inmhapanna i gceist san roinn seo.</p>
<p><u>Seichimh agus sraitheanna</u></p> <p>Suimeanna de shraitheanna críochta den chineál teileascópach cosúil le sraitheanna iolraíocha agus comhbhreise $\sum_{n=1}^m \frac{1}{n(n+1)}$ agus $\sum_{n=1}^m n^2$.</p> <p>$n!$, comheifeachtaí dethearmacha $\binom{n}{r}$, $n \in N_0$; sraith dhéthéarmach de shéan slánuimhreach deimhneach.</p> <p>Plé neamhfhoirmeálta ar teorainneacha seiceamh; rialacha do shuimeanna, torthaí, líonta; teorainneacha seiceamh cosúil le</p> <p>$\lim_{n \rightarrow \infty} \frac{n}{n+1}$, $\lim_{n \rightarrow \infty} r^n$ ($r < 1$).</p> <p>Suimeanna de shraitheanna éigríochta den chineál teileascópach cosúil le</p> <p>$\sum_{n=1}^{\infty} \frac{1}{n(n+1)}$, $\sum_{n=0}^{\infty} x^n$, $\sum_{n=0}^{\infty} nx^n$ ($x < 1$).</p> <p>Deachúlacha timthriallacha mar shraith iolraíoch eigríochta.</p>	<p>Ní chuirfear ceisteanna ar gharmheastacháin.</p> <p>Ní iarrfar ach sraitheanna a bhfuil suimeanna faighte dóibh. Ní gheofar teorainneacha ach do sheichimh ata tugtha (ní tri ghaolmhaireachtaí timthriallacha). <u>Níl</u> tastálacha do inréimniú i gceist.</p>
<p><u>Feidhmeanna agus Calcalus</u></p> <p>1. <u>Feidhmeanna:</u> Peireod agus raon feidhme leanúnaigh peireodaigh a aimsiú nuair a bheidh a graf tugtha ar ais scálaithe agus ainmnithe.</p> <p>Plé neamhfhoirmeálta ar teorainneacha feidhmeanna; rialacha suimeanna, torthaí agus líonta.</p>	<p>Eatramh dúnta é an raon $[a, b]$, $a, b \in \mathbb{Z}$; peireod $\in \mathbb{N}_0$. Ní gá gur graf peireodach triantánach a bheadh ann, e.g. graf ilbheannach.</p>

2. Calcalas Dífreálach:

* Diorthu ó chéad phrionsaball de x^2 , x^3 , $\sin x$, $\cos x$, \sqrt{x} , agus $1/x$.

An chead díorthú de:

– iltearmaigh, feidhmeanna reasúnacha, cumhachta agus triantánacha;

– \tan^{-1} , \sin^{-1} , feidhmeanna easpóntúla agus logartamacha;

– * suimeanna; * torthai; difríochtai; * líonta; comhshuimh díobh seo

* Cruthú trí ionduchtú go bhfuil $\frac{d}{dx}(x^n) = n x^{n-1}$.

Feidhmiú i gcás tadhlaí go cuair.

Dara díorthuithe simplí.

Céad díorthuithe d'fheidhmeanna dearfacha agus paraiméadracha.

Rátaí athruithe. }

Uasmhéideanna agus íosmhéideanna. }

Cuar-sceitseáil d'iltearmaigh agus d'fheidhmeanna den fhoirm

$$\frac{a}{x+b} \text{ agus } \frac{x}{x+b}, \text{ le tagairt do phointí casta, do}$$

phointi infhillte agus d'asamtóití.

Modh Newton-Raphson chun garfhréamhacha a fháil do chothramóidí ciúbacha.

3. Iomlánú sa Chalcalas:

Teicnící iomlánúnú (iomlana de shuimeanna, tairisigh iolraithe, agus ionadú) curtha i bhfeidhm ar:

a. x^n

b. $\sin nx$, $\cos nx$, $\sin^2 nx$, $\cos^2 nx$;

c. e^{nx}

d. feidhmeanna sa bhfoirm:

$$\frac{1}{x+a}, \frac{1}{a^2+x^2}, \frac{1}{\sqrt{a^2-x^2}}, \sqrt{a^2-x^2}.$$

Iomlánú cinnte le feidhmithe do limistéir agus do thoirt chasta (do chóin agus sféir amháin).

Níl fadbanna ina bhfuil gá le samhaltú i gceist.

Nil iomlánú le codanna ná le páirtchodáin i gceist.

3. GNÁTHLEIBHÉAL

GNÁTHCHÚRSA: REASÚNAÍOCHT, STÍL AGUS AIDHMEANNA

Abhar feidhmiúil í an Mhatamaitic don a lán de na scoláirí ar dearadh an cúrsa seo dóibh - sin le rá go gcuirfidh sé teicnící agus eolas os a gcomhair a bheidh ag teastáil uathu amach anseo agus iad ag staidéar ábhair eolaíochta, eacnamaíochta agus theicniúla. Beidh scoláirí eile afách, arbh i an Ardteist a dteagmháil fhoirméalta dheiridh le Matamaitic. Dá bharr sin, ní hé amháin go gcaithfidh an cúrsa seo freastal ar scoláirí a úsáidfidh Matamaitic chun staidéar bhreise a dhéanamh ach orthu siúd eile nach ndeanfaidh aon staidéar breise sa Mhatamaitic ná in abhair ghaolmhara. Is mar gheall ar seo a roghnaítear ábhar ar a chuid suime fein agus a fheidhmiú ginearálta, chomh maith lena úsáid i soláthar teicnící do staidéar breise.

Tharlódh nach mór an taithí a bheadh ag scoláirí an Ghnathchúrsa ar mhatamaitic theibí roimhe seo agus mar gheall ar sin, bogann an cúrsa de réir a chéile ón gcuid réasúnta coincreíteach agus praiticiúil go dtí na coincheapanna níos téibí agus ginearálta. Chomh maith le huirlisi tabhachtacha a thabhairt do scoláirí, tugann se deis dóibh tuiscint agus meas níos domhne a fháil ar mhatamaitic agus taithí a fháil ar chuid da "hidéanna cumhachtacha" clasaiceacha.

Don spriocghrúpa, is feidir béim faoi leith a chur ar na haidhmeanna a bhaineann le husáid na Matamaitice. Ba chóir súil a choinneáil ar chothabháil na scileanna níos bunúsáí, go háirithe i bhfeidhmiú uimhríochta agus ailgéabair (ait a bhfeictear laigí na scoláirí ag dul idir iad agus a ndúl chun cinn).

GNÁTHCHÚRSA: RÉAMH EOLAS

Glactar leis go bhfuil eolas ag na scoláirí ar ábhar Ghnáthchúrsa an Teastais Shóisearaigh.

GNÁTHCHÚRSA: CUSPÓIRI MEASÚNAITHE

Is iad na cuspóirí bunúsacha A, B, C, D agus E (féach Rannóg 1.3), na cuspóirí measúnaithe i gcomhthéacs na n-aidhmeanna seo a leanas atá leis an nGnáthchúrsa:

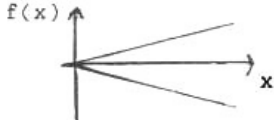
- cur le raon tuisceana na scoláirí praiticiúil agus coincreíteach go ceann níos ginearálta agus níos teibí;
- teicnící matamaiticiúla a fhoghlaim agus iad a úsáid i gcomhthéacs;
- ábaltacht i scileanna bunúsacha na huimhríochta agus an ailgéabair.

Notaí:

1. Tá sé inmholta go n-úsáidfeadh scoláirí an chúrsa seo airitheoirí go hoilte, stuama (agus go dtabharfaidís an cleachtas sin leo ina saol lasmuigh); glactar leis go n-úsáidfeadh áiritheoirí mar áis i múineadh, i bhfoghlaim agus i scrúdú an chúrsa seo. Ní hionann agus an Gnáthleibhéal Malartach afách, níor dearadh an cúrsa seo thart armheaisíní agus ní "bun" ná. cór-riachtanas é measúnú i scileanna áiritheora.
2. Mar atá leirithe i gcuspóir E, ní mór do na scoláirí a chuid oibre a chur i láthair go cuimsitheach, tá sé sin fforthábhachtach speisialta agus iad ag úsáid áiritheoirí.

GNÁTHLEIBHÉAL: TOPAICÍ

<p><u>Uimhríocht</u></p> <ol style="list-style-type: none"> 1. Suimiú, dealú, meadú agus roinnt uimhreacha agus na gaolmhaireachtaí $<$ agus $>$ curtha i bhfeidhm ar fhadhbanna praiticiúla ag baint le comhaireamh agus tomhas (aonaid {S.I nuair is cuí} faid, achair, tóirte, ama, maise, teochta agus airgid); meáin; rátaí; comhréir, ceatadáin, idirbheartaíochtaí airgid, ina measc cáin agus ús iolraithe. 2. Meastachán agus Cóngarach. <p>Earráid choibhneasta; deifníd (earráid choibhneasta = $$earráid/fíorluach$$, nó $-$ muna bhfuil an fíorluach ar eolas $-$earráid/meastachán$$); earráid chéatadánach. Ní gá cnuasú earraide ach trí shuimiú nó trí dhealú amháin.</p> <p>Modh Simpson chun cóngarach d'achair i bhfigiúr mhírialta.</p> <p>Úsáid áiritheoirí agus/nó táblaí, nodaireacht eolaíochta.</p> 3. Cumhachtaí agus fréamhacha nú (mar shampla mar a úsáidear iad i bhfoirmlí úis iolraithe). 4. Achair: triantáin, dioscaí, teascáin dioscaí; figiúir déanta as meascáin díobh seo. <p>Toirteanna: sféar, leathsféar, deaschón, deasphriosma, solaid dhronuilleogacha; solaid déanta as meascáin díobh seo.</p> 	<p>Féadfar úsáid athróg agus eolas ar chomhréireacht a bheith ag teastáil i réiteacht na bhfadhbanna</p> <p>Ní mór a bheith ábalta áiritheoirí a úsáid go hoilte, stuama.</p>
<p><u>Ailgéabar</u></p> <ol style="list-style-type: none"> 1. Láimhseáil foirmlí, ina measc codáin shimplí ailgéabair. <p>Dlíthe na séan: $x^a x^b = x^{a+b}$; $(xy)^a = x^a y^a$; $(x^a)^b = x^{ab}$</p> <p>Úsáid séan codánach agus diúltach, e.g. $(-8)^{\frac{2}{3}}$, $(\frac{1}{4})^{-\frac{1}{2}}$.</p> <p>Réiteach cothromóidí cosúil le $5^x = \frac{1}{25}$.</p> <p>Réiteach cothromóidí cearnacha le comhéifeachtaí cóimheasta.</p> <p>An Teoirim Fachtóireach d'iltearmaigh céime a dó nó a trí.</p> <p>Fachtóiriú na n-iltearmach seo (comhéifeachtaí slánuimhreach ag na fachtóiri líneacha agus cearnacha).</p> 	

<p>2. Réiteach uathúil ar chothromóidí líneacha chomhuaineacha le dhá anaithnid.</p> <p>Réiteach ar chothromóid líneach amhain agus ar chothromóid chearnach amhain le dha anaithnid (i.e. $2x - y = 1$, $x^2 - y^2 = 9$). Solution of one linear and one quadratic equation with two unknowns (e.g. $2x - y = 1$, $x^2 + y^2 = 9$).</p> <p>3. Eagthroimí: réiteach éagthroimí na foirme $g(x) < k$, nuair atá $g(x) = ax + b$, agus $a, b, k \in \mathbb{Q}$.</p> <p>4. Uimhreacha Coimpléascacha: léaráid Argand, modal, comhchuingeach coimpléascach.</p> <p>Suimiú, dealú, méadú, roinnt.</p>	
<p><u>Seichimh agus Sraitheanna Criochta</u></p> <p>Plé neamhfhoirméalta ar sheichimh.</p> <p>Seichimh coimbhreise agus iolraíoch.</p> <p>Suimiú go téarmaí n seichimh coimbhreise aqua iolraíoch.</p>	
<p><u>Feidhmeanna agus Calcalas</u></p> <p>1. Feidhmeanna:</p> <p>Feidhm mar fhoireann cúplaí, gan an chéad eilimint arceanna ag aon dhá chúpla, is é sin, feidhm mar fhoirm faoi leith gaoil idir na heilimintí i dhá thacar.</p> <p>Plé ar fheidhm mar a leirítear gaomhaireacht mar sin i bhfoirmle (nó i riail, i ngnás nó i gcuar) trí ionchur a aistriú go haschur go seasta. Samplaí d'fheidhmeanna; samplaí nach feidhmeanna iad.</p> <p>Usáid nodaireacht feidhme:</p> <p>$f(x) =$</p> <p>$f: x \rightarrow$</p> <p>$y =$</p>	<p>Féach an Rannóg Choibhnis ar Chúrsa Bonnleibhéil an Teastais Shóisearaigh. Ní scrúdófar an ghné seo.</p> <p>Samplaí:</p> <p>(i) $f: x \rightarrow \begin{cases} 1, & x \text{ cothrom} \\ 0, & x \text{ corr} \end{cases}$ $x \in \mathbb{N}$</p> <p>(ii) tacar alfa-uimhriúil \rightarrow ASCII nó barra-chód.</p> <p>(iii) $f: x \rightarrow 2x, x \in \mathbb{R}$</p> <p>Sampla contrartha:</p> 

<p>Graif d'fheidhmeanna líneacha, cearnacha agus ciúbacha f agus de $\frac{1}{x+a}$.</p> <p>Graif a úsáid chun reitigh cóngaracha a fháil d'eagothroimí $f(x) \leq b$ agus d'eagothroimí $f(x) = cx + d$.</p> <p>Peireod agus raon feidhme leanúnach peireodach a fháil nuair raon atá a ghraf ar ais scálaithe agus lipéadaithe.</p> <p>2. Calcalas:</p> <p>Plé neamhfhoirmeálta ar theorainneacha feidhmeanna.</p> <p>Díorthuithe ó chead phrionsabail iltéarmaigh céime ≤ 2.</p> <p>Céad díorthaithe:</p> <ul style="list-style-type: none"> - iltéarmaigh agus feidhmeanna réasúnacha; - suimeanna, torthaí, difríochtai, líonta. <p>Feidhmiú éasca ar riail an tslabhra.</p> <p>Rátaí athraithe, i.e. luas, luasghéarú. Tangaint.</p> <p>Ríomh uasmhéideanna agus iosmhéideanna feidhmeanna cearnacha agus ciúbacha.</p>	<p>Eatramh dunta e an raon $[a,b]$, $a, b \in \mathbb{Z}$; peireod $\in \mathbb{N}_0$.</p> <p>Ni gá gur ceann triantanach a bheadh sa ghraf peireodach: e.g. graf ilbheannach.</p>
---	---

4. BONNLEIBHÉAL

RÉASÚNACHT

Tá an cúrsa Bonnleibhéal ceapaithe chun eolas agus teicnící, a bhíonn ag teastail i ngnáthshaol laethúil agus i bhfostaíocht éagsúil, a chur ar fáil do na mic léinn. Ina theannta sin tá sé i gceist bunsraith mhaith a sholáthar do mhic léinn a rachadh ar aghaidh chuig bhreisoideachais agus traenáil i réimse nach bhfuil speisialtóireacht san mhatamaitic á lorg iontu. Ba choir mar sin, go *soláthródh sé domhac léinn na h-uirlisí matamaitice atá uathu ina ngnáth-shaol agus ina a gcuid oibre agus (nuair is iomchuí) ina gcuid staidéar leanúnach*; ach ba cheart é a *bheith déanta i gcomhthéacs deartha chun go neartódh sé muinín na mac léinn, a dtuiscint agus a dtaitneamh as matamaitic agus a ról ar an saol mórthimpeall orthu*. Dá bhrí sin roghnaítear ábhar toisc go bhfuil sé suimiúil ann féin, gur féidir é a chur i bhfeidhm láithreach agus a úsáidí is atá sé taobh amuigh de saol na scoile.

Tá an cúrsa deartha do mhic-léinn nach bhfuil ach taitní an-teoranta acu ar an mhatamaitic theibí. Cothaítear agus cuirtear leis an eolas bunúsach trí theacht air i modh taiscéalaíoch agus machnamhach ag baint úsáid as fás céille na mac-léinn seachas bheith ag athdhéanamh oibre atá déanta san Teastas Sóisearach. Soláthraítear nithiúlacht trí úsáid leathan an áireamháin; uirlis taiscéalaíochta í seo chomh maithle bheith ina ábhar staidéir agus ina fhoinsé go bhfuil sé éasca úsáid a bhaint as. De thairbhe teacht i láthair chomh forásach agus chomh deimhneach sin tá an talamh saothraithe do imeacht ar aghaidh na mac-léinn do choincheapa teibí trí an iliomad de shamplaí grádaithe go rí-chúramach. Coimeádtar chomh-mheá san obair ríomha trí bhéim a chur ar an obair infheicthe agus spásúil.

Don sprioc-ghrúpa is féidir béim faoi leith a chur ar na h-aidhmeanna a bhaineann le h-úsáid na matamaitice sa ngnáth saol agus san obair go h-áirithe faoi úsáid chiallmhar, éifeachtach na n-áireamhán agus le aithne a chur ar an mhatamaitic sa timpeallacht.

Aidhmeanna

Ag tógáil san áireamh aidhmeanna an oideachais mhatamaiticiúil liostáilte i Roinn 1.2, siad aidhmeanna an chúrsa Bhonnleibhéil:

- tuiscint ar eolas matamaitice agus teicnící na mac-léinn, atá riachtanach don ngnáth-shaol laethúil agus don obair, a fhorbairt;
- béim faoi leith a chur ar shuntas na gcoincheap matamaiticiúil;
- fios a fháil ar eolas matamaitice atá in-fheidhmiúil láithreach agus úsáideach;
- na mic-léinn a chur ar a n-eolas faoi theibíocht mhatamaiticiúil;
- cothabháil agus cur le eolas agus le scileanna bunúsach matamaiticiúla na mac-léinn;
- úsáid chruinn, éifeachtach an áireamháin a spreagadh;
- muinín na mac-léinn agus iad ag obair leis an mhatamaitic a chur chun cinn.

Aidhmeanna an Mheasúnaithe

Siad aidhmeanna an mheasúnaithe ná na h-aidhmeanna (a), (b), (c), (d) agus (e) liostáilte i Roinn 1.3. Ba chóir na h-aidhmeanna seo a mheas i gcomhthéacs an ráitis ar aidhmeanna an chúrsa Bhonn Leibhéil. Glacfar leis go mbeidh eolas ar ábhar chúrsa Bhonn Leibhéil an Teastais Sóisearaigh acu.

BONNLEIBHÉAL:TOPAICÍ

<p>Córais na nUimhir</p> <p>Athdhéanamh orthu seo a leanas, ag úsáid áireamhain do ghnéithe uile iomchuí:</p> <ol style="list-style-type: none"> 1. Forbairt na gcóras N de uimhreacha aiceanta, Z na slánuimhreacha, Q na n-uimhreacha cóimheasta, agus R na réaduimhreacha. <p>Cleachtas i suimiú, i iolrú, i ndealú agus i roinnt.</p> <p>Léiriúcháin uimhreacha ar líne.</p> <p>Neamhionannais.</p> <p>Deachúlacha.</p> <p>Séanta agus fréimh.</p> <p>Nodaireacht eolaíochta.</p> <ol style="list-style-type: none"> 2. Fachtóirí, iolraithe, uimhreacha príomha in bhfachtóiriú N. Príomha. 3. Úsáid lúibíní. Gnás i leith ord na noibrioctaí. 	
<p>Uimhríocht</p> <p>Úsáid an áireamhain do ghnáthaimh uile, iomchuí iontu seo a leanas:</p> <ol style="list-style-type: none"> 1. Meastachán agus earráid; slánú. Earráid choibhneasta, earráid chéatadáin, lamháltas. Uimhreacha ollmhóra agus uimhreacha an-bheag ar an áireamhán. Teorainn le cruinneas na n-áireamhán. 2. Ionadú i bhfoirmlí. 3. Coibhneas. Céatadán. Meáin. Rátaí athruithe ar an mean (i leith ama) 4. Ús iolraithe agus foirmlí luachlaghdaithe. $A = P \left\{ 1 \pm \frac{r}{100} \right\}^n$ $P = A / \left\{ 1 \pm \frac{r}{100} \right\}^n$	<p>Ba cheart céimeanna príomha an ríomha a thaispeáint.</p> <p>Formula provided in examinations; n a natural number.</p>

100		
<p>5. Cáin bhreisluacha (CBL). Rátaí. Cáin ioncaim (ÁSPC san áireamh).</p> <p>6. Billí tís agus atáillí.</p> <p>7. Bearta airgid reatha, agus coimisiúin san áireamh.</p> <p>8. Costas. Ábhair agus saothar. Diomailt.</p> <p>9. An córas méadrach. Malartú aonad. Aonaid Impiriúla.</p>		
<p>Achair agus Toirt</p> <p>Úsáid áireamhain le h-aghaidh gach oibríochta iomchuí iontu seo a leanas:</p> <p>1. Figiúirí plánacha: diosca, triantán, dronuilleog, cearnóg, figiúr-H, comhthreomharán, traipéisiam.</p> <p>Figiúirí soladacha dron-chón, bloc dronuilleogach, sorcóir, sféar, dron-phriosma</p> <p>2. Úsáid Riail Simpson chun achar a mheas.</p>		<p>Feach Aguisín: “Lámhleabhar an Innealtóra”. Beidh ceisteanna teoranta do na h-athróga tugtha sna foirmlí (de réir nós “Lámhleabhar an Innealtóra”).</p>
<p>Ailgéabar</p> <p>1. Iad seo a leanas a mheas, ag úsáid an áireamhain nuair is iomchuí:</p> <p>(i) $x + a = b;$ }</p> <p>(ii) $ax = b;$ } $a, b, c \in \mathbb{Q}$</p> <p>(iii) $ax + b = c;$ }</p> <p>(iv) $ax + b = cx;$ $a, b, c \in \mathbb{Z}$</p> <p>(v) $ax + b = cx + d;$ $a, b, c, d \in \mathbb{Z}$</p> <p>(vi) $ax + by = c;$ } $a, b, c, d, e, f \in \mathbb{Z}$</p> <p> $dx + ey = f;$ }</p> <p>Fadhbanna ina n-úsáidfí na cothromóidí den gcineál (i) – (vi).</p>		<p>Cásanna le thorthaí sainiúla amháin.</p>

<p>(vii) $x^2 = a; a \in \mathbb{Q}^+$</p> <p>viii) $x^2 + a = b; b - a > 0, a, b \in \mathbb{Q}$</p> <p>ix) $ax^2 = b; a, b \in \mathbb{Q}^+$</p> <p>x) $ax^2 + b = c; a > 0, (c-b) > 0, a, b, c \in \mathbb{Z}$</p> <p>xi) $ax^2 + bx + c = 0; a > 0, b^2 \geq 4ac, a, b, c \in \mathbb{Z}$</p> <p>2. Breatnaigh ar na neamh-ionannais seo:</p> <p>i) $x + a > b; x + a < b; \quad \quad \quad \}$</p> <p>ii) $ax > b; ax < b; \quad \quad \quad \}$</p> <p>iii) $ax + b > c; ax + b < c) \quad \quad \quad \} \quad a, b, c \in \mathbb{Z}$</p> <p>iv) $x + ab \geq b; x + a \leq b; \quad \quad \quad \}$</p> <p>v) $ax \geq b; ax \leq b; \quad \quad \quad \}$</p> <p>vi) $ax + b \geq c; ax + b \leq c; \quad \quad \quad \}$</p>		<p>Úsáid na foirmle (a soláthar sa scrúdú).</p>
<p>Feidhmeanna agus Graif</p> <p>1. Feidhm mar thacar cúplaí.</p> <p>Feidhm measta go suntasach ag foirmle nó ag riail.</p> <p>Úsáid nodaireachta:</p> <p>$f(x) =$</p> <p>$f: x \rightarrow$</p> <p>$y =$</p> <p>2. Staidéar ar na feidhmeanna seo a leanas agus ar na cothromóidí den sort $f(x) = k, k \in \mathbb{Z}$:</p> <p>$f: x \rightarrow mx; m \in \mathbb{Q}, x \in \mathbb{R}$</p> <p>$f: x \rightarrow mx + c; m, c \in \mathbb{Q}, x \in \mathbb{R}$</p> <p>$f: x \rightarrow x^2; x \in \mathbb{R}$</p> <p>$f: x \rightarrow x^2 + c; c, x \in \mathbb{R}$</p> <p>$f: x \rightarrow ax^2; a, x \in \mathbb{R}$</p>		<p>Feidhm mar ghaol speisialta, mar sin gaol ceangail faoi leith idir eilimintí dhá thacar.</p> <p>Bunú baint dá leithéid.</p> <p>Éifeacht ar an ngraf trí m athrú</p> <p>Tábhacht c</p> <p>Mar shampla meastachán $\sqrt{2}$</p> <p>Éifeacht ar an ngraf trí c a athrú</p> <p>Éifeacht ar an ngraf trí a a athrú.</p>

<p> $f: x \rightarrow ax^2 + bx + c; a, b, c, x \in \mathbb{R}$. Luachanna do x go bhfuil $f(x)$ ina uasmhéid/íosmhéid. Eatrainmh do x go bhfuil $f(x)$ ag méadú/ag ísliú. </p> <p> 3. Torthaí turgnamhaca. Ag cur líne díreach le tacar sonraí trialacha. Tuar. 4. Léamh na ngraf ins na cáis a leanas: </p> <p> Cás 1: Cáis ina bhfuil an t-eolas ar fáil ach ag pointí breactha. </p> <p> Case 2 Graif leanúnacha: <ul style="list-style-type: none"> - faid/am - ráta/am - doimhneacht lachta/am - tiontú aonad </p>	<p> Samplaí: <ul style="list-style-type: none"> - luaineach airgeadra - boilsciú - fostaíocht/dífhostaíocht - teocht - cairt teochta (Liacht) - áireamh pailine - leibhéil luaidhe - toitcheo </p> <p> Le bheith sa mhíniú: le raon luacha de athróg amháin tugtha, déan amach ón ngraf a chomh raon de luacha don gceann eile. </p>
---	--

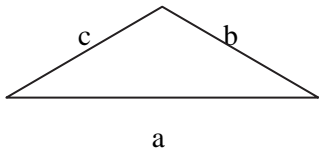
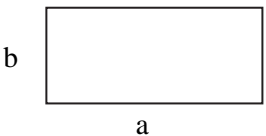

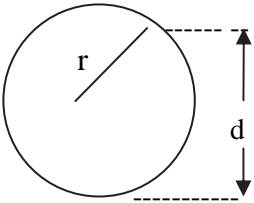
Aguisín: “Lámhleabhar an Innealtóra”

Tá i gceist go n-úsáidfí an lámhleabhar mar seo a leanas:

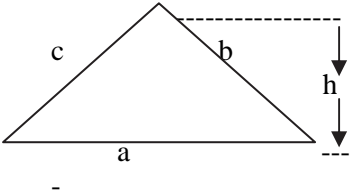
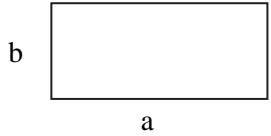
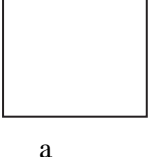
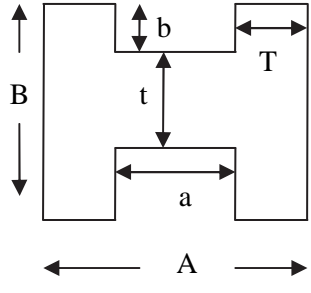
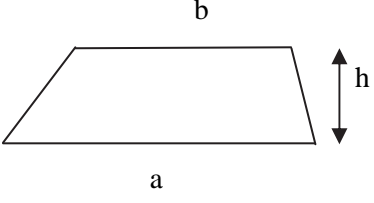
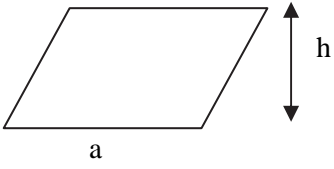
- Roghnaíonn na mic-léinn an fhoirmle leis an uimhir anaithnid atá á lorg ar thaobh na lámhe clé agus leis na luacha ar fáil do gach athróg ar thaobh na lámhe deise;
- cuireann siad luacha ar na h-athróa ar thaobh na lámhe clé den bhfoirmle;
- measann siad an freagra riachtanach, ag baint úsáid as áireamhán chuige sin, de ghnáth.

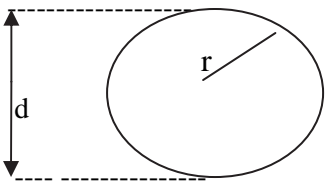
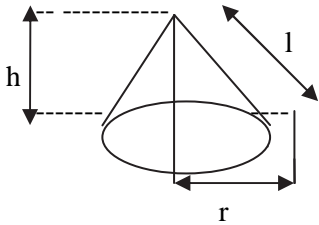
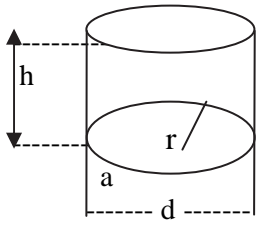
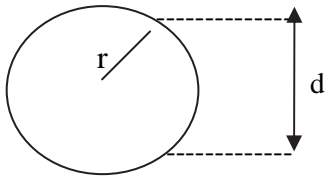
Seachnaíonn sé sin lámhseáil ailgéabrach. Soláthraíonn sé, chomh maith, taithí ar ghnás atá in úsáid go forleathan i ngnáthaimh phraiticiúla.

FAID

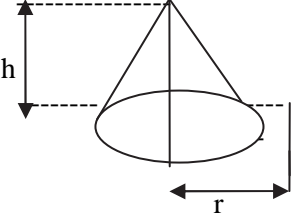
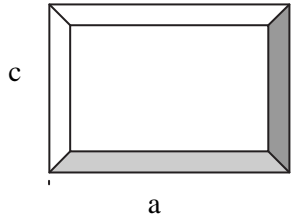
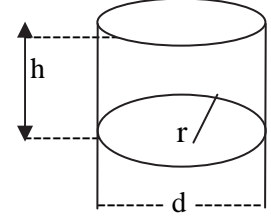
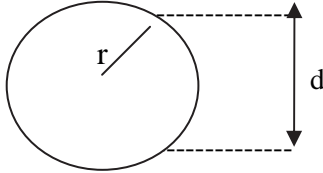
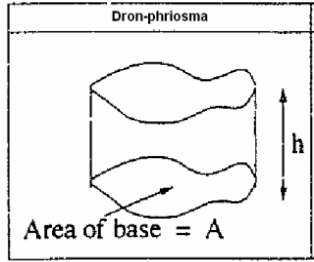
Triantán	Faid (L)	Foirmlí
	$L = a+b+c$	$a = L - b - c$ $b = L - a - c$ $c = L - a - b$
Dronuilleog	Faid (L)	Foirmlí
	$L = 2(a + b) = 2a + 2b$	$a = \frac{L - 2b}{2}$ $b = \frac{L - 2a}{2}$
Cearnóg	Faid (L)	Foirmlí
	$L = 4a$	$A = \frac{L}{4}$
Ciorcal	Faid (L)	Foirmlí
	$L = 2\pi r$ $L = \pi d$	$d = 2r \quad r = \frac{d}{2}$ $r = \frac{L}{2\pi}$ $d = \frac{L}{\pi}$

ACHAR

Triantán	Achar	Foirmlí
	$\text{Area} = \frac{ab}{2}$	$a = \frac{2(\text{area})}{h}$ $h = \frac{2(\text{area})}{a}$
Dronuilleog	Achar	Foirmlí
	$\text{Area} = ab$	$a = \frac{\text{Area}}{b}$ $b = \frac{\text{Area}}{a}$
Cearnóg	Achar	Foirmlí
	$\text{Area} = a^2$	$A = \sqrt{\text{Area}}$
Figiúr H	Achar	Foirmlí
	$\text{Area} = AB - 2ab$ $\text{Area} = at + 2BT$ <p>Note: $A = a + 2T$ $B = 2b + t$</p>	$A = \frac{(\text{Area} + 2ab)}{B}$ $B = \frac{(\text{Area} + 2ab)}{A}$ $a = \frac{(AB - \text{Area})}{2b}$ $b = \frac{(AB - \text{Area})}{2a}$
Traipéisiam	Achar	Foirmlí
	$\text{Area} = h \frac{(a+b)}{2}$	$a = \frac{2(\text{Area})}{h} - b$ $b = \frac{2(\text{Area})}{h} - a$ $h = \frac{2(\text{Area})}{(a+b)}$
Comhthreomharán	Achar	Foirmlí
	$\text{Area} = ah$	$a = \frac{\text{Area}}{h}$ $h = \frac{\text{Area}}{a}$

Diosca	Achar	Foirmlí
	$\text{Area} = \pi r^2$ $\text{Area} = \frac{\pi d^2}{4}$	$R = \sqrt{\frac{\text{Area}}{\pi}}$ $d = \sqrt{\frac{4(\text{Area})}{\pi}}$
Dron-chon	Achar	Foirmlí
	$\text{Area} = \pi r l$ <p>Note: $l^2 = r^2 + h^2$</p>	$R = \frac{\text{Area}}{\pi l}$ $l = \frac{\text{Area}}{\pi r}$
Sorcóir	Achar	Foirmlí
	$\text{Area} = 2 \pi r h$ $\text{Area} = \pi d h$	$r = \frac{\text{Area}}{2 \pi h}$ $h = \frac{\text{Area}}{2 \pi r}$ $d = \frac{\text{Area}}{\pi h}$ $h = \frac{\text{Area}}{\pi d}$
Sféar	Achar	Foirmlí
	$\text{Area} = 4 \pi r^2$ $\text{Area} = \pi d^2$	$r = \sqrt{\frac{\text{Area}}{4 \pi}}$ $d = \sqrt{\frac{\text{Area}}{\pi}}$

TOIRT

Dronchón	Toirt (V)	Foirmlí
	$V = \frac{\pi r^2 h}{3}$	$r = \sqrt{\frac{3V}{\pi h}}$ $h = \frac{3V}{\pi r^2}$
Bloc dronuilleogach	Toirt (V)	Foirmlí
	$V = abc$	$a = \frac{V}{bc}$ $b = \frac{V}{ac}$ $c = \frac{V}{ab}$
Sorcóir	Toirt (V)	Foirmlí
	$V = \pi r^2 h$ $V = \frac{\pi h d^2}{4}$	$h = \frac{V}{\pi r^2} \quad h = \frac{4V}{\pi d^2}$ $r = \sqrt{\frac{V}{\pi h}}$ $d = \sqrt{\frac{4V}{\pi h}}$
Sféar	Toirt (V)	Foirmlí
	$V = \frac{4\pi r^3}{3}$ $V = \frac{\pi d^3}{6}$	<p>Cube roots required</p>
Dron Priosma	Toirt (V)	Foirmlí
	$V = Ah$	$A = \frac{V}{h}$ $h = \frac{V}{A}$

